


Khởi động






youtube.com/pompom4kidsvietnam





KẾT NỐI TRI THỨC
VỚI CUỘC SỐNG

TOÁN




Luyện tập chung

Trang 83



Luyện tập



Bài 1: Tính

$$a) \quad \frac{2}{3} + \frac{4}{9}$$

$$b) \quad \frac{1}{10} + \frac{2}{5}$$

$$c) \quad \frac{7}{22} - \frac{3}{11}$$

$$d) \quad \frac{5}{6} - \frac{5}{12}$$

Bài 1: Tính

$$a) \quad \frac{2}{3} + \frac{4}{9} = \frac{6}{9} + \frac{4}{9} = \frac{6+4}{9} = \frac{10}{9}$$

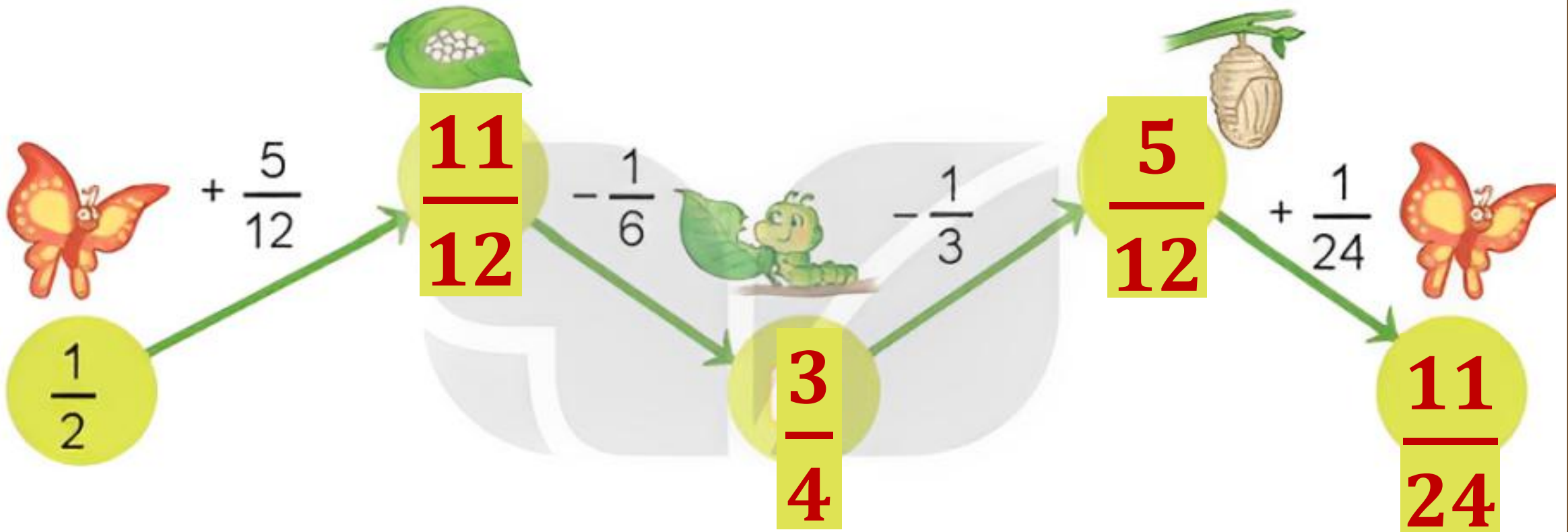
$$b) \quad \frac{1}{10} + \frac{2}{5} = \frac{1}{10} + \frac{4}{10} = \frac{1+4}{10} = \frac{5}{10} = \frac{1}{2}$$

Bài 1: Tính

$$c) \frac{7}{22} - \frac{3}{11} = \frac{7}{22} - \frac{6}{22} = \frac{7-6}{22} = \frac{1}{22}$$

$$d) \frac{5}{6} - \frac{5}{12} = \frac{10}{12} - \frac{5}{12} = \frac{10-5}{12} = \frac{5}{12}$$

Bài 2: Tìm phân số thích hợp



Bài 3: Tính bằng cách thuận tiện

a)
$$\frac{599}{1000} + \frac{377}{1000} + \frac{1}{1000}$$

b)
$$\frac{15}{4} + \frac{15}{16} + \frac{5}{16}$$

Bài 3: Tính bằng cách thuận tiện

$$\begin{aligned} a) \quad & \frac{599}{1\ 000} + \frac{377}{1\ 000} + \frac{1}{1\ 000} \\ &= \left(\frac{599}{1\ 000} + \frac{1}{1\ 000} \right) + \frac{377}{1\ 000} \\ &= \frac{600}{1\ 000} + \frac{377}{1\ 000} \\ &= \frac{977}{1\ 000} \end{aligned}$$

Bài 3: Tính bằng cách thuận tiện

$$b) \quad \frac{15}{4} + \frac{15}{16} + \frac{5}{16}$$

$$= \frac{15}{4} + \left(\frac{15}{16} + \frac{5}{16} \right)$$

$$= \frac{15}{4} + \frac{20}{16}$$

$$= \frac{15}{4} + \frac{5}{4} = 5$$

Bài 4:

Anh A Phan, chị Rang Hu và chú Y Phui cùng thu hoạch một rẫy cà phê. Anh A Phan thu hoạch được $\frac{1}{5}$ rẫy, chị Rang Hu thu hoạch được $\frac{3}{10}$ rẫy, chú Y Phui thu hoạch được $\frac{7}{20}$ rẫy. Hỏi cả ba người thu hoạch được bao nhiêu phần của rẫy cà phê?



Bài 4:


Bài giải:

Cả ba người thu hoạch được số phần của rẫy cà phê là:

$$\frac{1}{5} + \frac{3}{10} + \frac{7}{20} = \frac{17}{20} \text{ (rẫy)}$$


Đáp số: $\frac{17}{20}$ rẫy

Vận dụng



TRÒ CHƠI

GIỚI CỨU



NÔNG TRẠI!

BẮT ĐẦU



$$\frac{1}{6} + \frac{3}{2} + \frac{1}{2} = ?$$



$$\frac{5}{2}$$



$$\frac{13}{2}$$



$$\frac{6}{2}$$



$$\frac{13}{6}$$



$$\frac{11}{12} - \frac{1}{3} + \frac{1}{4} = ?$$



$$\frac{5}{6}$$



$$\frac{15}{6}$$



$$\frac{12}{4}$$



$$\frac{14}{3}$$

CẢM ƠN CÁC BẠN
ĐÃ GIẢI CỨU CHÚNG TỚ!

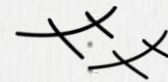


DẶN ĐÒ




**Chia sẻ bài học
với người thân**

**Chuẩn bị
bài mới**



*Chúc các em
học tốt*





MĂNG NON - TÀI LIỆU TIỂU HỌC

Chuyên

SOẠN BÀI GIẢNG ĐIỆN TỬ

LỚP 2, 3, 4

**BỘ KẾT NỐI TRI THỨC VÀ
CHÂN TRỜI SÁNG TẠO**

*Soạn bài giảng yêu cầu, dự giờ,
thao giảng dựa theo chương trình GDPT 2018*

Mời truy cập:

Facebook: MĂNG NON - TÀI LIỆU TIỂU HỌC

Zalo: 0382348780 - 0984848929

Quét mã QR:

