



MĂNG NON - TÀI LIỆU TIỂU HỌC

Chuyên

Soạn bài giảng điện tử Tiểu học

**GIÁ CỰC
ƯU ĐÃI**

Đặt trước bài giảng lớp 5



KẾT NỐI TRI THỨC
VỚI CUỘC SỐNG

**BỘ KẾT NỐI TRI THỨC
CHÂN TRỜI SÁNG TẠO**



Chân trời sáng tạo

MỜI LIÊN HỆ:

Facebook: Măng Non - Tài liệu Tiểu học

Zalo: 0382348780 - 0984848929

Quét mã QR:




WYÊN TẬP

Trang 79



KẾT NỐI TRI THỨC
VỚI CUỘC SỐNG



KHỞI
ĐỘNG



Khi con qua cầu



Muốn cộng hai phân số khác mẫu số ta
lấy tử cộng với tử, mẫu cộng với mẫu.

Đúng hay sai? Nếu sai hãy sửa lại



A

Đúng

B

Sai



Tính: $\frac{5}{10} + \frac{3}{5}$



$\frac{8}{15}$



$\frac{11}{10}$



$\frac{4}{7}$



$\frac{11}{20}$

Tính: $\frac{1}{3} + \frac{6}{4}$



$$\frac{7}{12}$$



$$2$$



$$\frac{6}{12}$$



$$\frac{11}{6}$$



Khi con qua cầu



LUYỆN
TẬP




Bài 1 Tính



a $\frac{3}{11} + \frac{14}{11}$

b $\frac{1}{16} + \frac{3}{4}$


c $\frac{2}{20} + \frac{7}{10}$



a $\frac{3}{11} + \frac{14}{11} = \frac{3+14}{11} = \frac{17}{11}$

b $\frac{1}{16} + \frac{3}{4} = \frac{1}{16} + \frac{12}{16} = \frac{1+12}{16} = \frac{13}{16}$

c $\frac{2}{20} + \frac{7}{10} = \frac{1}{10} + \frac{7}{10} = \frac{1+7}{10} = \frac{8}{10} = \frac{4}{5}$



Làm bài cá nhân

Bài 2 - So sánh giá trị các biểu thức dưới đây.



LÀM VIỆC
THEO NHÓM



$$\left(\frac{2}{9} + \frac{5}{9}\right) + \frac{1}{9}$$

?

$$\frac{2}{9} + \left(\frac{5}{9} + \frac{1}{9}\right)$$

?

$$\frac{2}{9} + \frac{5}{9} + \frac{1}{9}$$

$$\left(\frac{2}{9} + \frac{5}{9}\right) + \frac{1}{9} = \frac{7}{9} + \frac{1}{9} = \frac{8}{9}$$

$$\frac{2}{9} + \left(\frac{5}{9} + \frac{1}{9}\right) = \frac{2}{9} + \frac{6}{9} = \frac{8}{9}$$

$$\frac{2}{9} + \frac{5}{9} + \frac{1}{9} = \frac{2+5+1}{9} = \frac{8}{9}$$



$$\begin{aligned} &\left(\frac{2}{9} + \frac{5}{9}\right) + \frac{1}{9} \\ &= \frac{2}{9} + \left(\frac{5}{9} + \frac{1}{9}\right) \\ &= \frac{2}{9} + \frac{5}{9} + \frac{1}{9} \end{aligned}$$

Bài 3 Tính bằng cách thuận tiện nhất.



$$\text{a) } \frac{16}{15} + \frac{7}{15} + \frac{4}{15}$$

$$= \left(\frac{16}{15} + \frac{4}{15} \right) + \frac{7}{15}$$

$$= \frac{20}{15} + \frac{7}{15}$$

$$= \frac{27}{15} = \frac{9}{5}$$


$$\text{b) } \frac{5}{17} + \frac{7}{17} + \frac{13}{17}$$

$$= \frac{5}{17} + \left(\frac{7}{17} + \frac{13}{17} \right)$$

$$= \frac{5}{17} + \frac{20}{17}$$

$$= \frac{25}{17}$$

Bài 1_p



Việt dùng $\frac{1}{2}$ số tiền của mình để mua một quyển vở. Sau đó, bạn ấy dùng thêm $\frac{1}{6}$ số tiền của mình để mua bút. Hỏi Việt đã dùng bao nhiêu phần số tiền của mình để mua vở và bút?

Tóm tắt

Vở: $\frac{1}{2}$ số tiền

Bút: $\frac{1}{6}$ số tiền

Hỏi Việt đã dùng .?.
phần số tiền

Bài giải:

Việt đã dùng số phần số tiền của mình để mua vở và bút là:

$$\frac{1}{2} + \frac{1}{6} = \frac{2}{3} \text{ (phần số tiền)}$$

Đáp số: $\frac{2}{3}$ phần số tiền

Bài 5



Các bạn đang pha nước cam cho buổi liên hoan. Mai pha được $\frac{1}{4} l$, Việt pha được $\frac{5}{6} l$, còn Nam pha được $\frac{11}{12} l$. Tính số lít nước cam cả ba bạn pha được.

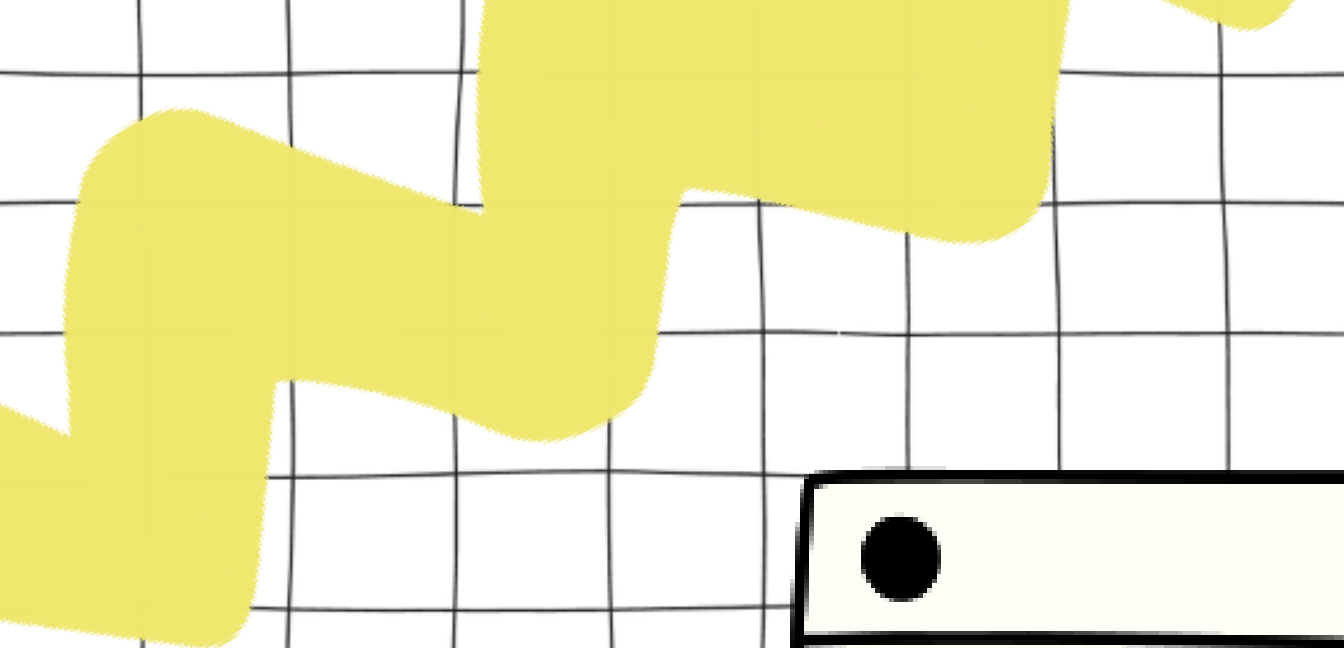
Bài giải:

Cả ba bạn pha được số lít nước cam là:

$$\frac{1}{4} + \frac{5}{6} + \frac{11}{12} = \frac{3}{12} + \frac{10}{12} + \frac{11}{12} = \frac{3 + 10 + 11}{12} = \frac{24}{12} = 2 \text{ (l)}$$


Đáp số: 2 l nước cam.





TẠM

BIỆT





MĂNG NON - TÀI LIỆU TIỂU HỌC

Chuyên

SOẠN BÀI GIẢNG ĐIỆN TỬ

LỚP 2, 3, 4

**BỘ KẾT NỐI TRI THỨC VÀ
CHÂN TRỜI SÁNG TẠO**

*Soạn bài giảng yêu cầu, dự giờ,
thao giảng dựa theo chương trình GDPT 2018*

Mời truy cập:

Facebook: MĂNG NON - TÀI LIỆU TIỂU HỌC

Zalo: 0382348780 - 0984848929

Quét mã QR:

