




Chào mừng thầy cô và các em đến với môn Toán



CHỦ ĐỀ
14


ÔN TẬP CUỐI NĂM

BÀI 68 ÔN TẬP CÁC SỐ TRONG
PHẠM VI 1000



Tiết 2

Luyện tập





1 Số học sinh của bốn trường tiểu học như sau:



- Trường Thành Công: 689



- Trường Hoà Bình: 820



- Trường Đoàn Kết: 853



- Trường Chiến Thắng: 695

b) Viết tên các trường theo thứ tự có số học sinh từ ít nhất đến nhiều nhất?

→ Trường Đoàn Kết có

nhiều học sinh nhất.

→ Trường Thành Công có

ít học sinh nhất.

2 Viết số thành tổng trăm, chục, đơn vị (theo mẫu).

Mẫu: $346 = 300 + 40 + 6$



$$525 = 500 + 20 + 5$$

$$810 = 800 + 10$$

$$106 = 100 + 6$$

$$433 = 400 + 30 + 3$$

$$777 = 700 + 70 + 7$$



3 Tìm quả bóng cho cá heo

The puzzle consists of four dolphins and four balloons. Each dolphin has a math problem, and each balloon has a number. Red lines connect the dolphins to the balloons that are the result of their math problems.

Dolphin Math Problem	Balloon Number	Connection
$300 + 60 + 1$	409	Connected
$300 + 50$	350	Connected
$400 + 9$	415	Connected
$400 + 10 + 5$	361	Connected



4 SỐ ?

$$\text{a) } 100 + \boxed{6} = 106$$

$$\text{b) } 600 + 30 + \boxed{4} = 634$$



5 a) Ghép ba thẻ số dưới đây được các số có ba chữ số nào?



405

504

450


540

b) Tìm số lớn nhất và số bé nhất trong các số có ba chữ số ghép được ở câu a.

→ Số lớn nhất: 540

→ Số bé nhất: 405

Củng cố, dặn dò



$$\begin{array}{r} 43 \\ - 32 \\ \hline 11 \end{array}$$

