

BÀI 64- TIẾT 1

BIỂU ĐỒ 
HÌNH QUẠT
TRÒN





Đồng hành cùng:

Thám tử tập sự Jackie



Thị trấn Pacmen có cất giữ một báu vật từ lâu đời. Người dân nơi đây tin rằng đó là vật mang lại sự may mắn cho họ trong mọi mặt cuộc sống.

Đó chính là viên kim cương quý giá có số tuổi đến hàng triệu năm đang được cất giữ rất cẩn thận trong một căn phòng tối ở trung tâm thị trấn.



*Thế nhưng chẳng may, một tội nọ, tên trộm khét tiếng Mipan
đã biết và lăm le hòng trộm mất viên kim cương...*



HÀNH TRÌNH PHÁ ÁN

Thu thập
thông tin

Phá án

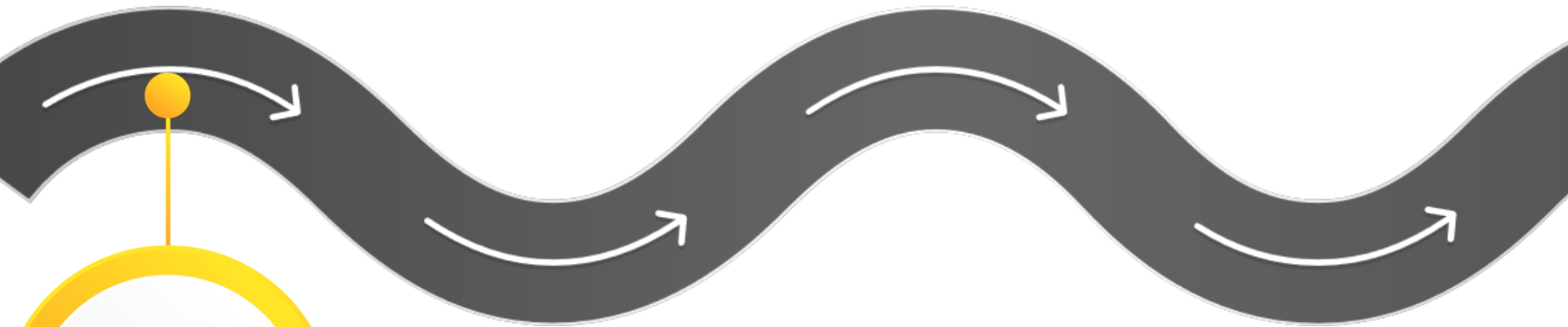


Chuẩn bị
đồ nghề

Truy tìm
dấu vết

theo
chân
thám tử
tên
siêu
trộm
Mina
nhé!





01



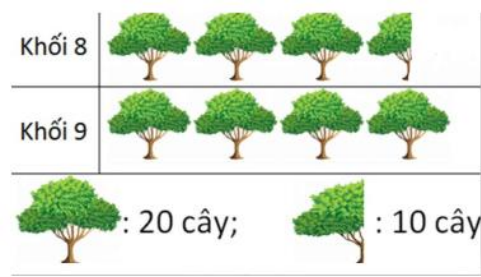
CHUẨN BỊ ĐỒ NGHỀ

Giúp Jackie nhận được những món đồ cần thiết cho hành trình phá án bằng cách trả lời đúng các câu hỏi sau nhé!

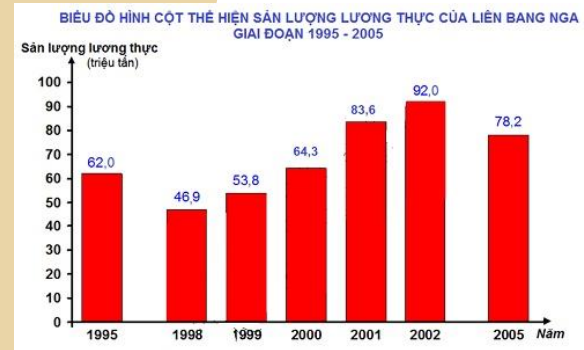


Chúng ta đã học các loại biểu đồ nào?

Biểu đồ tranh



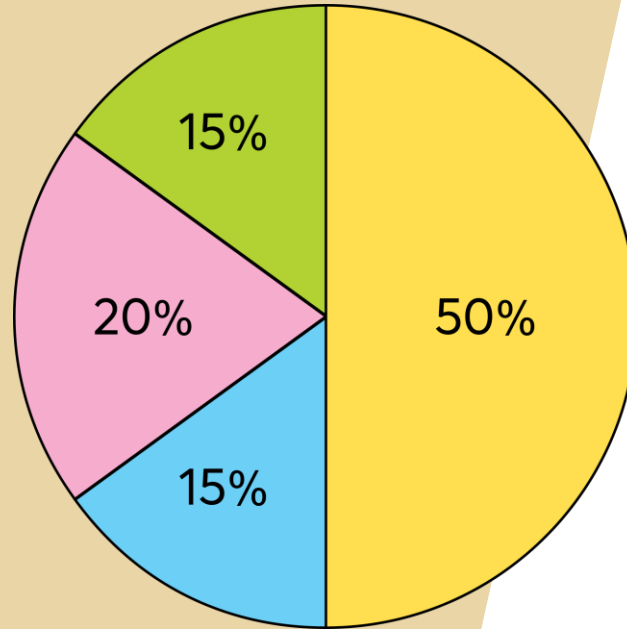
Biểu đồ cột.



Bạn đã giúp Jackie nhận được vật phẩm

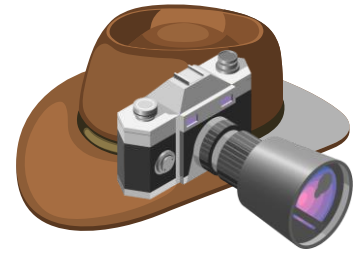


Đây là biểu đồ gì?



**Biểu đồ hình
quạt tròn**

Bạn đã giúp Jackie nhận được vật phẩm



Tỉ số phần trăm học sinh các khối lớp
tham gia Hội khoẻ Phù Đổng



Đây cũng là biểu đồ
phải không nhỉ?

À, đây là biểu đồ
hình quạt tròn.
Cậu nhìn từng phần
sẽ thấy giống
hình cái quạt.

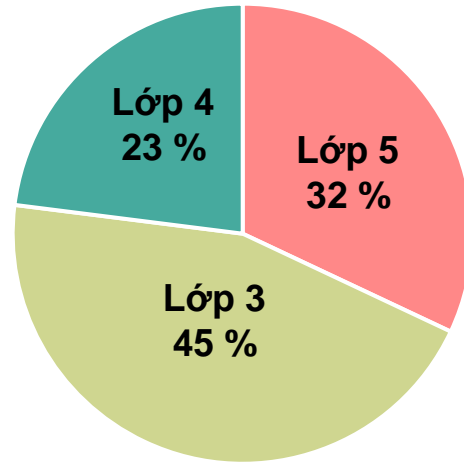
02

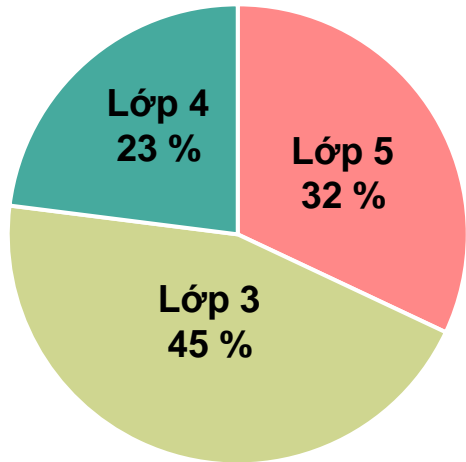
THU THẬP THÔNG TIN

Cùng Jackie thu thập thông tin tên trộm bằng cách tham gia hoạt động sau nhé!



a) Nhìn vào biểu đồ trên, ta biết:
Có 45% số học sinh tham gia là học sinh lớp 3;
Có 23% số học sinh tham gia là học sinh lớp 4;
Có 32% số học sinh tham gia là học sinh lớp 5.





b) Biết trường có tất cả 100 học sinh tham gia Hội khoẻ Phù Đổng. Hỏi trong số đó có bao nhiêu học sinh lớp 3?

Nhìn vào biểu đồ trên ta thấy có 45% số học sinh tham gia là học sinh lớp 3.


Vậy số học sinh lớp 3 tham gia Hội khoẻ Phù Đổng là 45 học sinh.



03

TRUY TÌM DẤU VẾT

Để truy tìm được dấu vết của tên trộm Mipan, Jackie rất cần sự giúp đỡ của bạn trong các nhiệm vụ sau đây!

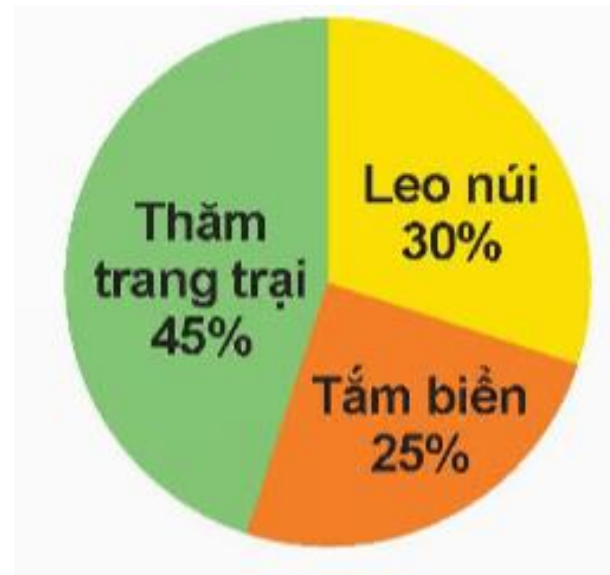


1. Kết quả khảo sát về hoạt động dã ngoại yêu thích của 100 học sinh được cho trong biểu đồ hình quạt tròn bên.

Hãy cho biết:

a) Có bao nhiêu phần trăm số học sinh thích leo núi?

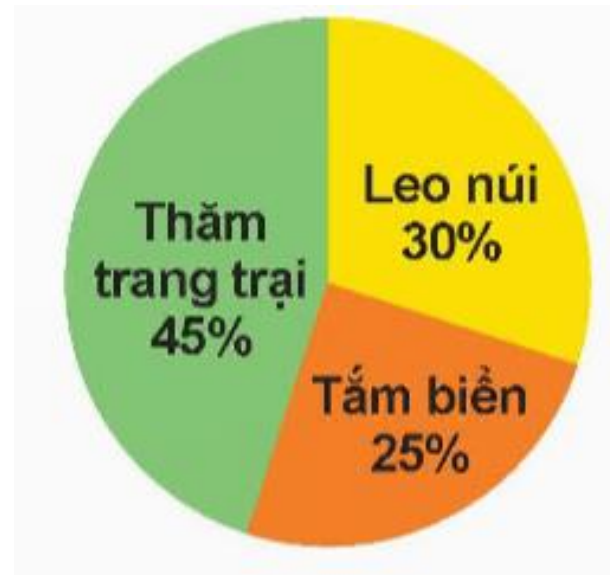
b) Hoạt động dã ngoại nào được nhiều học sinh yêu thích nhất? Có bao nhiêu bạn yêu thích hoạt động đó?



1. Kết quả khảo sát về hoạt động dã ngoại yêu thích của 100 học sinh được cho trong biểu đồ hình quạt tròn bên.

Hãy cho biết:

b) Hoạt động dã ngoại nào được nhiều học sinh yêu thích nhất? Có bao nhiêu bạn yêu thích hoạt động đó?



Hoạt động thăm trang trại được nhiều học sinh yêu thích nhất.

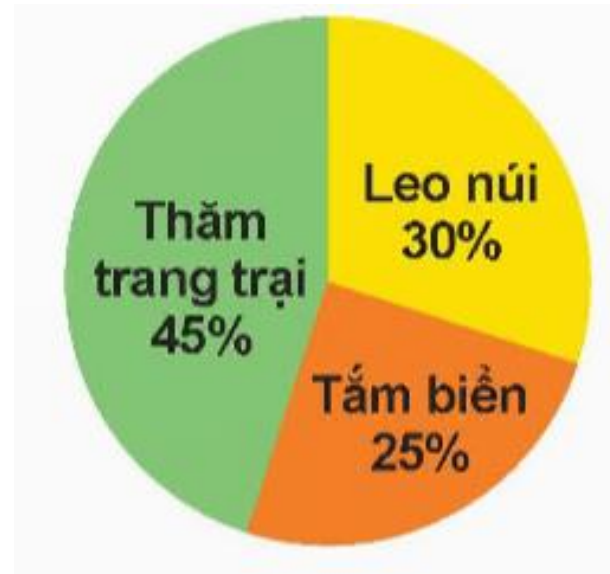
$$100 \times 45 : 100 = 45 \text{ (bạn)}$$

1. Kết quả khảo sát về hoạt động dã ngoại yêu thích của 100 học sinh được cho trong biểu đồ hình quạt tròn bên.

Hãy cho biết:

a) Có bao nhiêu phần trăm số học sinh thích leo núi?

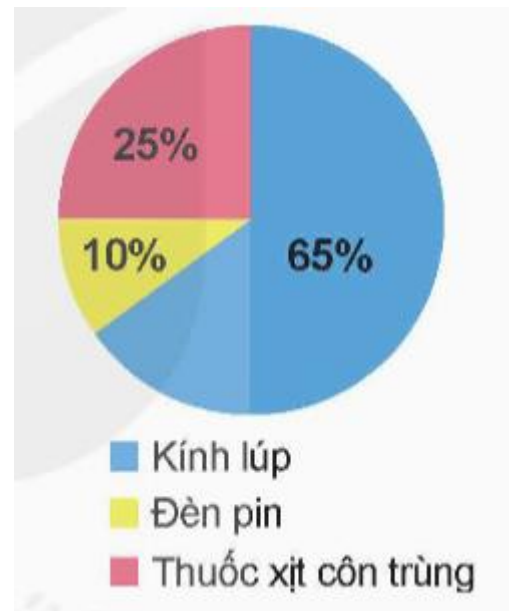
Có 30% số học sinh thích leo núi.



2. Trong chuyến đi đến vườn quốc gia của một nhóm học sinh lớp 5, mỗi học sinh đều mang một trong ba đồ vật: kính lúp, đèn pin và thuốc xịt côn trùng. Biểu đồ bên cho biết tỉ số phần trăm học sinh mang theo mỗi đồ vật đó.

Hãy đọc tỉ số phần trăm của số học sinh mang kính lúp, số học sinh mang đèn pin và số học sinh mang thuốc xịt côn trùng trên biểu đồ.

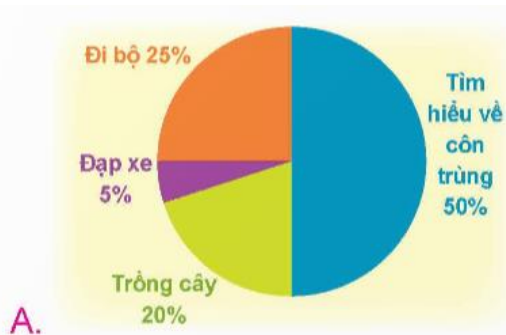
- Số học sinh mang kính lúp chiếm 65%.
- Số học sinh mang đèn pin chiếm 10%.
- Số học sinh mang thuốc xịt côn trùng chiếm 25%.



3 Chọn câu trả lời đúng. Cho bảng số liệu:

Hoạt động	Tìm hiểu về côn trùng	Trồng cây	Đạp xe	Đi bộ
Tỉ số phần trăm số học sinh tham gia mỗi hoạt động vào lúc 5 giờ chiều	50%	5%	20%	25%

Biểu đồ nào dưới đây thể hiện số liệu trong bảng trên?



04

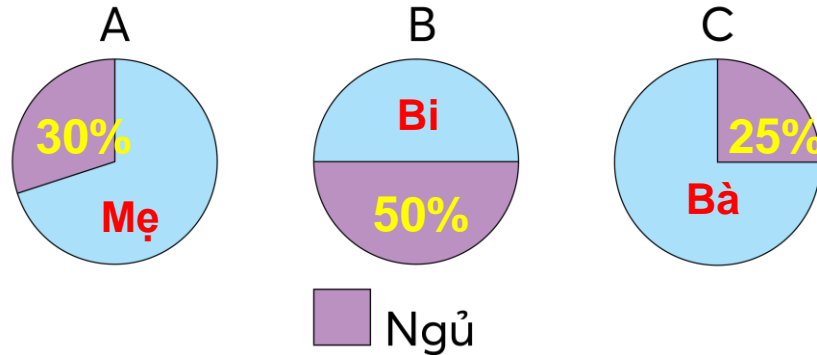
PHÁ ÁN

*Đã phát hiện tung tích của Mipan!!!
Hoàn thành nhiệm vụ cuối cùng để
phá án thành công nhé!*

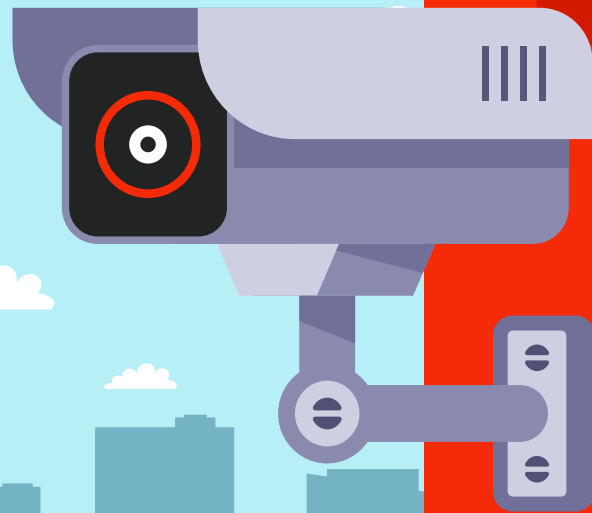


Thời gian ngủ trong một ngày của bà, mẹ và Bi lần lượt là 25%, 30%, 50%. Mỗi biểu đồ bên biểu thị thời gian ngủ trong một ngày của ai?

Thời gian ngủ trong ngày



Đã phát hiện và tóm được tên siêu trộm và gửi lại viên kim cương cho ngài thị trưởng. Còn Jackie thì được trở thành thành viên chính thức của đội thám tử.





*Cảm ơn các bạn đã giúp Jackie
hoàn thành nhiệm vụ phá án.
Hẹn gặp lại nhé!*



**CHÚC CÁC BẠN
HỌC TỐT**