

SÓC NÂU NHẶT HẠT DẼ





SÓC NÂU NHẶT HẠT DẺ

Chơi

Chú Sóc Nâu đang cố gắng nhặt những hạt dẻ để mang về tổ. Các em hãy giúp đỡ chú Sóc Nâu bằng cách trả lời đúng các câu hỏi nhé!





Tính nhẩm: $15\ 000 \times 4 = ?$

A. 70 000

B. 50 000

C. 60 000

D. 80 000

SAI RỒI



SAI RỒI



CHÍNH XÁC



SAI RỒI





Tính nhẩm: $22\ 000 \times 4 = ?$

A. 80 000

B. 88 000

C. 90 000

D. 84 000

SAI RỒI



CHÍNH XÁC



SAI RỒI



SAI RỒI





KẾT NỐI TRI THỨC
VỚI CUỘC SỐNG

TOÁN 3


Bài 71: CHIA SỐ CÓ NĂM CHỮ SỐ CHO SỐ CÓ MỘT CHỮ SỐ

(TIẾT 1)



Yêu cầu cần đạt

- Biết và thực hiện được phép chia số có năm chữ số cho số có một chữ số (trường hợp chia hết)
- Thực hiện được tính nhẩm trong trường hợp đơn giản.
- Vận dụng thực hành vào giải một số bài tập, bài toán có lời văn (một bước tính) liên quan đến phép chia số có năm chữ số cho số có một chữ số.



Khám phá

$$17\ 486 : 2 = ?$$



Khám phá

Chia đều
17 486 con vịt
vào 2 trang trại.

Mỗi trang trại
có bao nhiêu
con vịt nhỉ?

Cách chia tương tự cách
chia số có bốn chữ số
cho số có một chữ số.


**Muốn biết mỗi trang trại có bao nhiêu con vịt ta làm
như thế nào?**

$$17\ 486 : 2 = ?$$

$$\begin{array}{r} 17\ 486 \overline{) 2} \\ \underline{14} \\ 08 \\ \underline{06} \\ 0 \end{array}$$

- 17 chia 2 được 8, viết 8
8 nhân 2 bằng 16, 17 trừ 16 bằng 1.
- Hạ 4; được 14; 14 chia 2 được 7, viết 7.
7 nhân 2 bằng 14, 14 trừ 14 bằng 0.
- Hạ 8; 8 chia 2 được 4, viết 4.
4 nhân 2 bằng 8, 8 trừ 8 bằng 0.
- Hạ 6; 6 chia 2 được 3, viết 3.
3 nhân 2 bằng 6, 6 trừ 6 bằng 0.

$$17\ 486 : 2 = 8\ 743$$



Hoạt động

Bài 1: Tính

$$\begin{array}{r|l} 25\ 684 & 4 \\ \hline & 6421 \\ & 08 \\ & 04 \\ & 0 \end{array}$$

$$\begin{array}{r|l} 37\ 085 & 5 \\ \hline & 7417 \\ & 08 \\ & 35 \\ & 0 \end{array}$$

2

Đặt tính rồi tính

$21\ 684 : 4$

$16\ 025 : 5$

$45\ 789 : 3$

$$\begin{array}{r|l} 21\ 684 & 4 \\ \hline 16 & 5421 \\ 08 & \\ 04 & \\ 0 & \end{array}$$

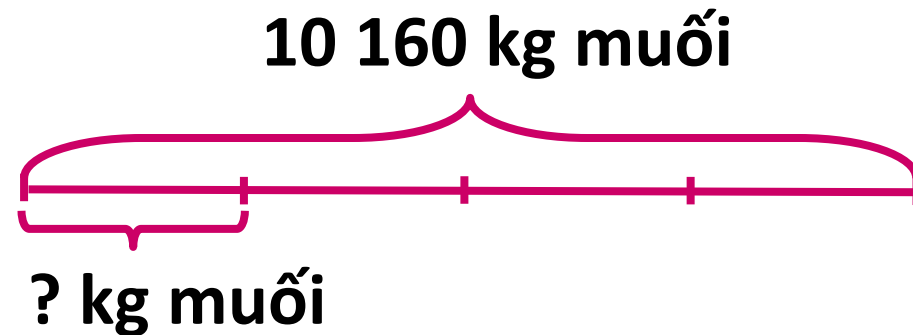
$$\begin{array}{r|l} 16\ 025 & 5 \\ \hline 10 & 3\ 205 \\ 02 & \\ 25 & \\ 0 & \end{array}$$

$$\begin{array}{r|l} 45\ 789 & 3 \\ \hline 15 & 15\ 263 \\ 07 & \\ 18 & \\ 09 & \\ 0 & \end{array}$$

3

Một kho chứa 10 160 kg muối. Người ta chia đều số muối đó vào 4 ô tô để chở lên miền núi. Hỏi mỗi ô tô chở được bao nhiêu ki-lô-gam muối?

Tóm tắt:



Bài giải:

Mỗi ô tô chở được số ki-lô-gam muối là:

$$10\ 160 : 4 = 2540 \text{ (kg)}$$

Đáp số: 2 540 ki-lô-gam muối

DẶN ĐỒ



GV ĐIỀN VÀO ĐÂY



GV ĐIỀN VÀO ĐÂY



GV ĐIỀN VÀO ĐÂY



GV ĐIỀN VÀO ĐÂY





Chúc các em
học tốt!

Chính chủ soạn: Hương Thảo: ZALO: 0972.115.126

Link Facebook: <https://www.facebook.com/huongthaoGADT>

(Thầy cô copy link FB và dán vào trình duyệt sẽ ra nick của em ạ, hoặc gõ tìm kiếm trên Facebook với tên: huongthaogadt

EM SOẠN GIÁO ÁN PPT 1 MÌNH, KHÔNG CÓ LÀM CHUNG VỚI NGƯỜI NÀO CẢ. CÁC NHÓM GỬI BÀI QUA ZALO ĐỀU LÀ GIẢ MẠO.

STK giao dịch duy nhất của em: Techcombank

19030197359010 - Chủ tài khoản: Trần Thu Thảo

Các tài khoản khác đều là giả mạo, trực lợi.

Nick Hương Thảo giả mạo lập thì nhiều chứ số điện thoại Zalo và STK ngân hàng thì có 1 thôi ạ. Mong thầy cô sáng suốt khi lựa chọn địa chỉ soạn chính chủ để được hỗ trợ tốt nhất trong quá trình sử dụng giáo án.