

Chào mừng thầy cô và các
em

đến với môn Toán



BÀI 61: Phép trừ (không nhớ) trong phạm vi 1000





Chim cánh cụt học
bài.





$$465 - 102 = ?$$



363



$$555 - 112 = ?$$



443



$$722 - 111 = ?$$



611



$$796 - 564 = ?$$



232



$$852 - 741 = ?$$



111



$$369 - 147 = ?$$



222



$$789 - 456 = ?$$



333



$$753 - 741 = ?$$



12



Tiết 2: Luyện tập





1 Tìm chữ số thích hợp.

$$\begin{array}{r} \boxed{?}76 \\ - 24\boxed{?} \\ \hline 5\boxed{?}0 \end{array}$$

$$\begin{array}{r} 7\boxed{?}9 \\ - \boxed{?}01 \\ \hline 23\boxed{?} \end{array}$$

$$\begin{array}{r} 86\boxed{?} \\ - 7\boxed{?}5 \\ \hline \boxed{?}24 \end{array}$$

2 Quan sát tranh và trả lời câu hỏi



311 = **311** **412**

- a) Con bọ rùa có 2 chấm ở cánh đậu trên bông hoa ghi phép tính có kết quả bằng bao nhiêu?
- b) Hai bông hoa nào ghi phép tính có kết quả bằng nhau?





3 Tìm ô che mưa thích hợp

$362 - 150$

$729 - 407$

$729 - 407$

$729 - 407$

100

322


805

212






4 Tìm chữ số thích hợp




$$245 - 125 = 12?$$



$$945 - 141 < ?11$$

804



$$727 - 413 > 3?4$$

314



5

Một trường tiểu học có 465 học sinh, trong đó có 240 học sinh nữ.
Hỏi trường tiểu học đó có bao nhiêu học sinh nam?

Tóm tắt:

Có : 465 học sinh

Học sinh nữ: 240 học sinh

Học sinh nữ: ... học sinh?

Bài giải

Trường đó có số học sinh nam là:

$$465 - 240 = 225 \text{ (học sinh)}$$

Đáp số: 225 học sinh nam



Củng cố, dặn dò



$$\begin{array}{r} 43 \\ - 32 \\ \hline 11 \end{array}$$