




KẾT NỐI TRI THỨC
VỚI CUỘC SỐNG

Toán

DÃY SỐ LIỆU
THÔNG KÊ



Yêu cầu cần đạt

- Nhận biết được về dãy số liệu thống kê
- Nhận biết được cách sắp xếp dãy số liệu thống kê theo các tiêu chí cho trước
- Phát triển năng lực tư duy và lập luận toán học.
- Vận dụng bài học vào thực tiễn.





KHỞI
ĐỘNG





Mỗi buổi sáng trong tuần, Rô-bốt đều đạp xe quanh một công viên ở gần nhà.

Cháu chào chú ạ!

Sáng nào chú cháu mình cũng gặp nhau ở đây nhĩ!



Tuần này, Rô - bốt đã lần lượt ghi chép đội dài quãng đường (đơn vị km) mà bạn ấy đi được trong mỗi buổi tập từ thứ Hai đến thứ Sáu. **Vậy mỗi ngày Rô - bốt đạp xe được bao nhiêu ki - lô - mét? Hãy cùng thành **dãy số liệu** như sau: 1, 2, 2, 2, 3.**



KHÁM
PHÁ



Mỗi buổi sáng trong tuần, Rô-bốt đều đạp xe quanh một công viên ở gần nhà.

Sáng nào chú cháu mình cũng gặp nhau ở đây nhỉ!

Cháu chào chú ạ!



Tuần này, Rô - bốt đã lần lượt ghi chép đội dài quãng đường (đơn vị: km) mà bạn ấy đi được trong mỗi buổi tập từ thứ Hai đến thứ Sáu thành **dãy số liệu** như sau: **1, 2, 2, 2, 3.**

Dãy số liệu : 1, 2, 2, 2, 3.

Nhìn vào số liệu trên, ta biết:

- Số thứ nhất là 1, số thứ hai là 2, số thứ ba là 2, số thứ tư là 2, số thứ năm là 3.
- Dãy số liệu trên có 5 số.
- Thứ Hai, Rô - bốt đi được 1 km. Thứ Ba, Rô - bốt đi được 2 km. Thứ Tư, Rô - bốt đi được 2 km. Thứ Năm, Rô - bốt đi được 2 km. Thứ Sáu, Rô - bốt đi được 3 km.

Quãng đường dài nhất mà Rô - bốt đi được trong một buổi tập là 3 km và quãng đường ngắn nhất là 1 km

Dãy số liệu : 1, 2, 2, 2, 3.

Nhìn vào số liệu trên, ta biết:

- Số thứ nhất là 1, số thứ hai là 2, số thứ ba là 2, số thứ tư là 2, số thứ năm là 3.
- Dãy số liệu trên có 5 số.
- Thứ Hai, Rô - bốt đi được 1 km. Thứ Ba, Rô - bốt đi được 2 km. Thứ Tư, Rô - bốt đi được 2 km. Thứ Năm, Rô - bốt đi được 2 km. Thứ Sáu, Rô - bốt đi được 3 km.

Trung bình mỗi ngày, đội dài quãng đường mà Rô - bốt đi được trong một buổi tập là:

$$(1 + 2 + 2 + 2 + 3) : 5 = 2 \text{ (km)}$$



HOẠT ĐỘNG



1

Trong giải đấu bóng đá dành cho học sinh khối Bốn, các bạn Nam, Việt, Rô-bốt và Dũng lần lượt ghi được số bàn thắng là: **7, 6, 2, 4**. Dựa vào dãy số liệu trên, hãy trả lời các câu hỏi dưới đây.



- Dũng ghi được bao nhiêu bàn thắng?
- Số bàn thắng nhiều nhất mà một bạn đã ghi được là bao nhiêu bàn?
- Có bao nhiêu bạn ghi được nhiều hơn 5 bàn thắng?



Trong giải đấu bóng đá dành cho học sinh khối Bốn, các bạn Nam, Việt, Rô-bốt và Dũng lần lượt ghi được số bàn thắng là: 7, 6, 2, 4. Dựa vào dãy số liệu trên, hãy trả lời các câu hỏi dưới đây.

a) Dũng ghi được bao nhiêu bàn thắng?

a) Dũng ghi được 4 bàn thắng.

b) Số bàn thắng nhiều nhất mà một bạn đã ghi được là bao nhiêu bàn?

b) Số bàn thắng nhiều nhất mà một bạn đã ghi được là 7 bàn thắng.

c) Có bao nhiêu bạn ghi được nhiều hơn 5 bàn thắng?

c) Có 2 bạn ghi được nhiều hơn 5 bàn thắng.

2

Hình dưới đây cho biết số cuốn sách mà mỗi bạn đã đọc trong tháng vừa qua.



Hãy viết dãy số liệu chỉ số cuốn sách mà mỗi bạn đã đọc theo thứ tự:

- Từ bé đến lớn.
- Từ lớn đến bé.

2




1 



13 



8 



4 



5 

Hãy viết dãy số liệu chỉ số cuốn sách mà mỗi bạn đã đọc theo thứ tự:

a) Từ bé đến lớn. **1, 4, 5, 8, 13.**

b) Từ lớn đến bé. **13, 8, 5, 4, 1.**


3

Rô-bốt ghi chép tổng số chữ cái có trong tên của tất cả các bạn trong tổ 1 thành dãy số liệu như sau: **4, 3, 2, 3, 4, 5, 3, 5.**

a) Dãy số liệu trên có tất cả bao nhiêu số? Số đầu tiên trong dãy là số mấy?

b) Tên của các bạn trong tổ 1 có nhiều nhất bao nhiêu chữ cái? Ít nhất bao nhiêu chữ cái?

c) Trong tổ 1 có bạn nào tên là Nguyệt hay không? Vì sao?



Rô-bốt ghi chép tổng số chữ cái có trong tên của tất cả các bạn trong tổ 1 thành dãy số liệu như sau: **4, 3, 2, 3, 4, 5, 3, 5.**

a) Dãy số liệu trên có tất cả bao nhiêu số? Số đầu tiên trong dãy là số mấy?

Dãy số liệu trên có tất cả là 8 số. Số đầu tiên trong dãy là số 4.

b) Tên của các bạn trong tổ 1 có nhiều nhất bao nhiêu chữ cái? Ít nhất bao nhiêu chữ cái?

Tên của các bạn trong tổ 1 có nhiều nhất là 5 chữ cái và ít nhất là 2 chữ cái.

c) Trong tổ 1 có bạn nào tên là Nguyệt hay không? Vì sao?


Tên Nguyệt có 6 chữ cái mà trong dãy số liệu không có số 6. Vậy trong tổ 1 không có bạn nào tên là Nguyệt.

Dặn dò

**Chia sẻ bài học với người thân.
Chuẩn bị bài mới.**



CHÚC CÁC EM
HỌC TỐT





MĂNG NON - TÀI LIỆU TIỂU HỌC

Chuyên

SOẠN BÀI GIẢNG ĐIỆN TỬ

LỚP 2, 3, 4

**BỘ KẾT NỐI TRI THỨC VÀ
CHÂN TRỜI SÁNG TẠO**

*Soạn bài giảng yêu cầu, dự giờ,
thao giảng dựa theo chương trình GDPT 2018*

Mời truy cập:

Facebook: MĂNG NON - TÀI LIỆU TIỂU HỌC

Zalo: 0382348780 - 0984848929

Quét mã QR:

