

KHỞI ĐỘNG



Trò chơi: Đố bạn

Hãy hoàn thành các câu đố để nhận được phần thưởng từ cô giáo nhé!





Đố bạn



$$55 + 44 = 99$$





Đố bạn



$$55 + 44 = 99$$





Đố bạn



$$36 + 5 = 31$$





Đố bạn



$$79 + 33 = 46$$



Bài 33:

Luyện tập chung

Tiết 3



Luyện tập



1 Đặt tính rồi tính.

$31 + 7$

$23 + 64$

$86 - 15$

$95 - 3$



Làm bài
vào vở



Cũng chia sẻ?



Kết quả?

$31 + 7$

$$\begin{array}{r} 31 \\ + 7 \\ \hline 38 \end{array}$$

$23 + 64$

$$\begin{array}{r} 23 \\ + 64 \\ \hline 87 \end{array}$$

$86 - 15$

$$\begin{array}{r} 86 \\ - 15 \\ \hline 71 \end{array}$$

$95 - 3$

$$\begin{array}{r} 96 \\ - 3 \\ \hline 93 \end{array}$$

2 Trong hai ngày, tráng sĩ uống hết 49 bầu nước. Ngày thứ nhất, tráng sĩ uống hết 25 bầu nước. Hỏi ngày thứ hai, tráng sĩ uống hết bao nhiêu bầu nước.

$$? \quad ? \quad ? \quad = \quad ?$$

Em hãy nêu câu trả lời.

Làm việc nhóm






Cùng chia sẻ?

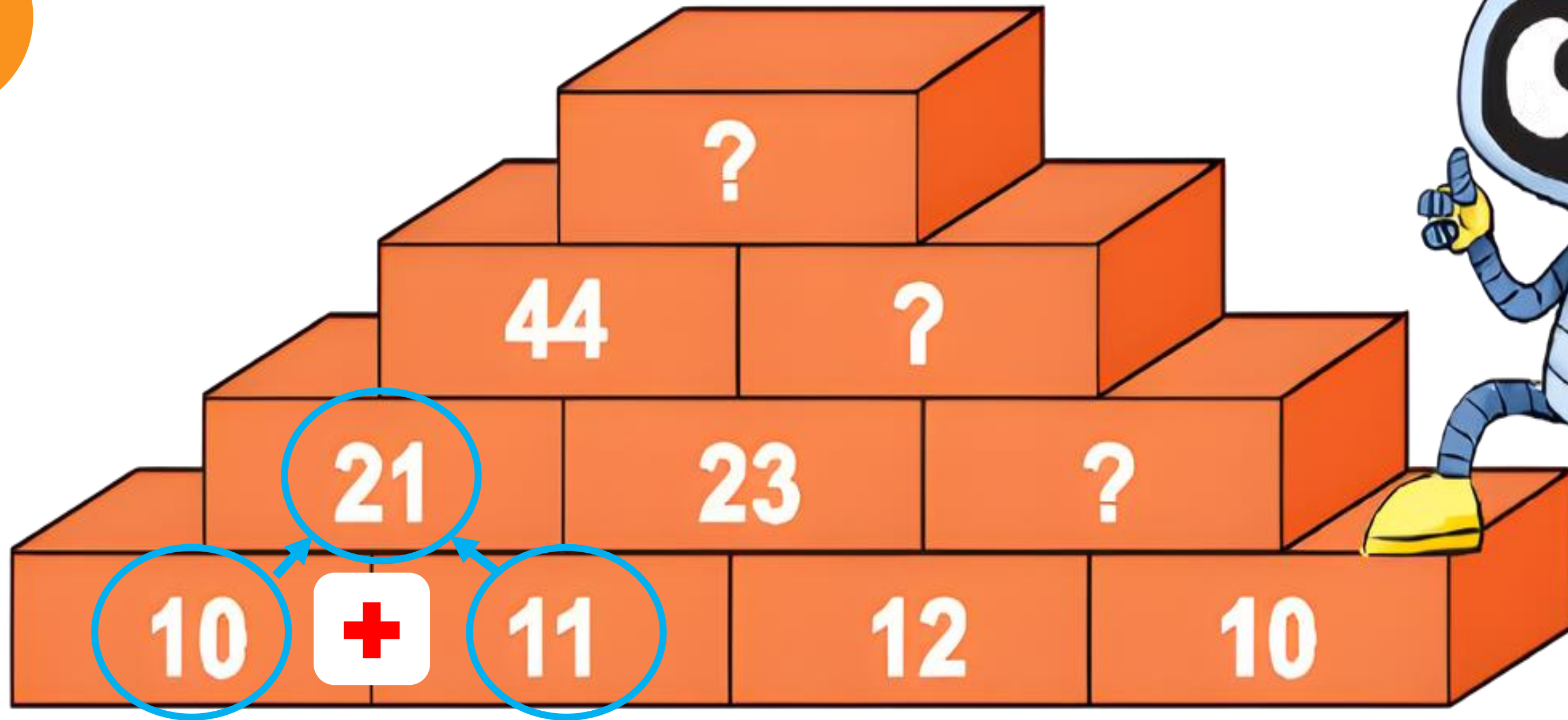


$$49 - 25 = 24$$

Ngày thứ hai, tráng sĩ uống hết **24** bầu nước.



3



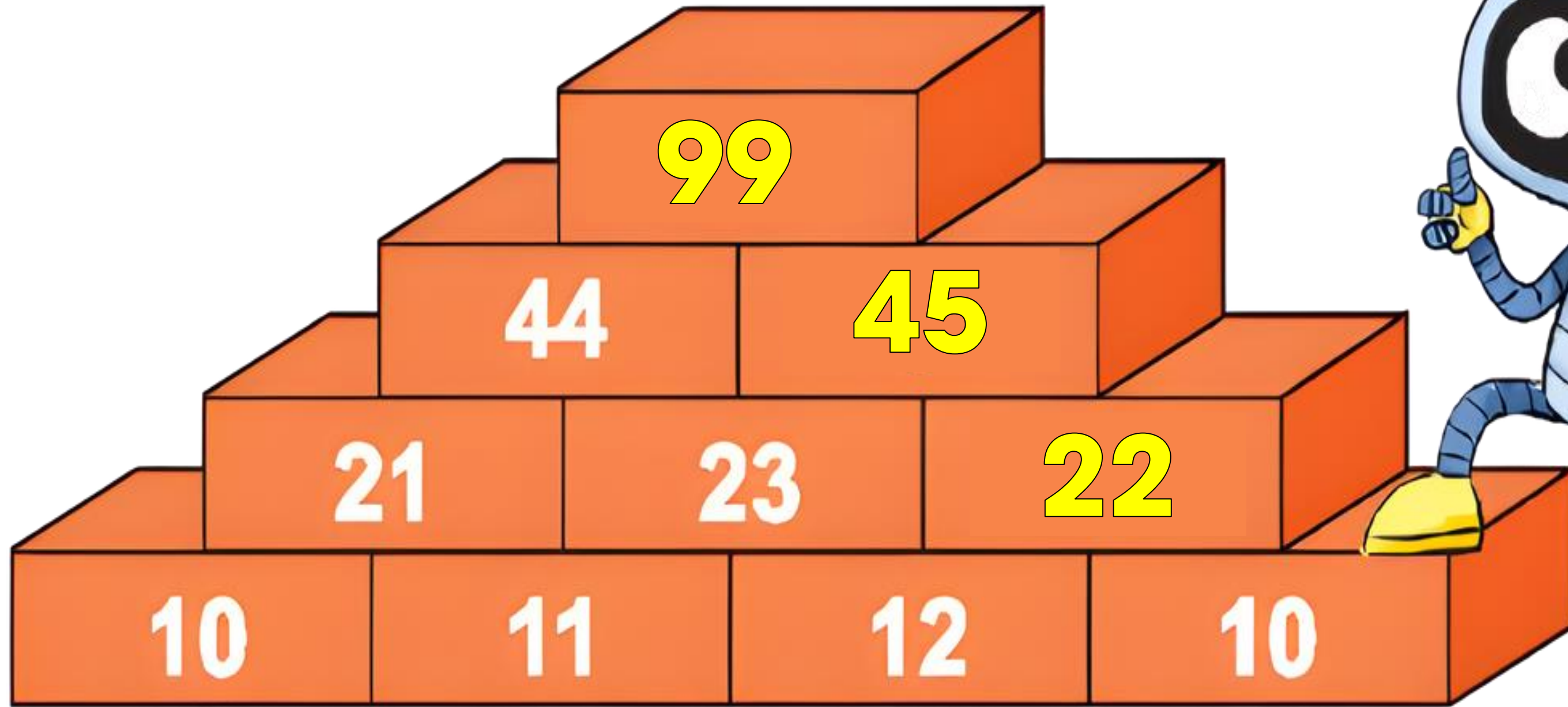
Suy nghĩ cá nhân



Cũng chia sẻ?



3



Văn dụng



4 Tính



Trò chơi:


Ai nhanh,
đi đúng?

Hai bạn cùng bàn lần lượt thực hiện các phép tính cho trên đua đến khi về đích. Nhóm nào làm xong trước thì sẽ giành chiến thắng.



Cũng chia sẻ?





$$23 + 15 = 38$$

$$47 - 11 = 36$$

$$30 + 40 = 70$$

$$61 + 3 = 64$$


$$40 + 5 = 45$$

$$64 - 20 = 44$$

$$14 + 5 = 19$$

$$20 + 70 = 90$$

Đã đến





MĂNG NON - TÀI LIỆU TIỂU HỌC

Chuyên soạn bài giảng điện tử Tiểu học



KẾT NỐI TRI THỨC
VỚI CUỘC SỐNG

LỚP 1, 2, 3, 4, 5



Chân trời sáng tạo

LỚP 1, 4, 5



LỚP 1



SOẠN BÀI THEO YÊU CẦU, DỰ GIỜ, CHUYÊN ĐỀ

Zalo 0382348780 (Cảm)

Zalo 0905919065 (Linh)



Măng Non - Tài liệu Tiểu học



mangnon2024

