

KHƠI ĐỘNG





Bài 33



Luyện tập chung



KẾT NỐI TRI THỨC
VỚI CUỘC SỐNG

Tiết 2



LUYỆN TẬP



BÀI 1 Đặt tính rồi tính

$23 + 5$

$67 + 2$

$48 - 3$

$95 - 41$

23
 $+ 5$

 28

95
 $- 41$

 54

Em này nêu lại cách
đặt tính và tính

LÀM BÀI
VÀO VỞ

BÀI 2 SỐ?

CÙNG CHIA SẺ



Làm việc nhóm đôi



BÀI 2 SỐ?



BÀI 3 SỐ?

CÙNG CHIA SẺ

+	1	2
	2	?
<hr/>		
	3	6

+	4	3
	?	?
<hr/>		
	4	6

-	6	?
	?	1
<hr/>		
	4	7

Em hãy nêu cách thực hiện để tìm số.

Làm việc nhóm đôi



BÀI 3 SỐ?

$$\begin{array}{r} + \quad 1 \quad 2 \\ 2 \quad 4 \\ \hline 3 \quad 6 \end{array}$$

$$\begin{array}{r} + \quad 4 \quad 3 \\ 1 \quad 3 \\ \hline 5 \quad 6 \end{array}$$

$$\begin{array}{r} - \quad 6 \quad 8 \\ 2 \quad 1 \\ \hline 4 \quad 7 \end{array}$$

BÀI 4 Trên cây thị có 74 quả. Gió lay làm rụng 21 quả. Hỏi trên cây còn lại bao nhiêu quả thị? Em hãy nêu câu trả lời.

$$74 - 21 = 53$$

THẢO LUẬN NHÓM 2

CHIA SẺ TRƯỚC LỚP



VẬN DỤNG





BÀI 5 **Đế mèn phiêu lưu kí.**

a) Xem tranh rồi tính:

- Từ nhà đế mèn đến nhà bác xén tóc dài bao nhiêu bước chân?
- Từ nhà đế mèn đến nhà châu chấu voi dài bao nhiêu bước chân?

b) Nhà ai gần nhà đế mèn nhất?

Dế mèn



28 

Dế trũi



30 

31 




LÀM VIỆC NHÓM 4

15 



21 

32 



Châu chấu voi

Xén tóc

Dế mèn



28 


Dế trũi



$$30 + 31 + 32 = 93$$

30 

15 



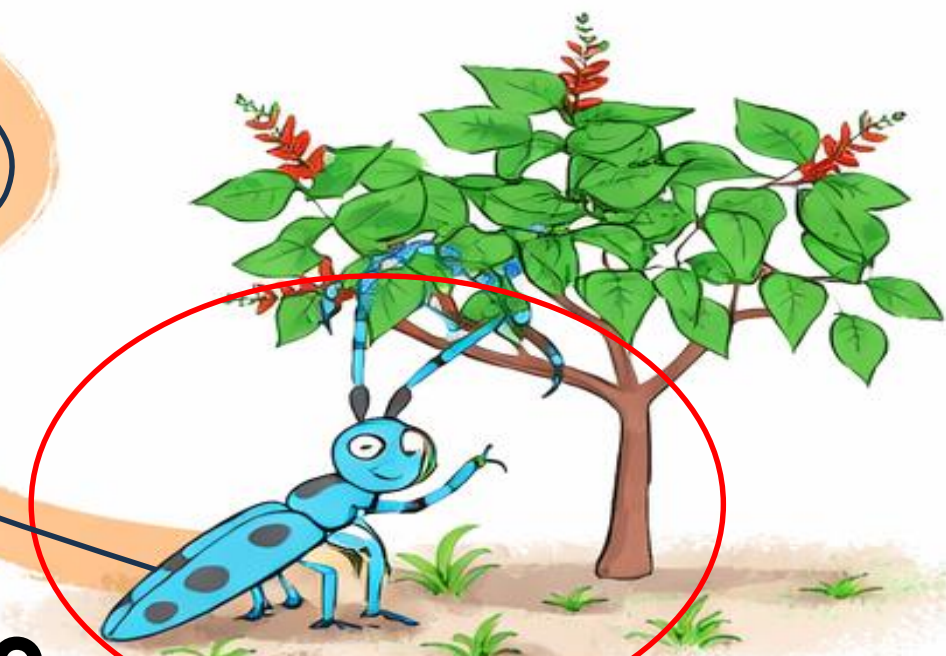
21 

Châu chấu voi

31 

32 

Xén tóc



a) Từ nhà **dế mèn** đến nhà **bác xén tóc** dài bao nhiêu bước chân?

Dế mèn



28 

Dế trũi




$$30 + 15 + 21 = 66$$

30 

93 

31 

15 




21 

32 

Châu chấu voi

Xén tóc



a) Từ nhà **dế mèn** đến nhà **châu chấu voi** dài bao nhiêu bước chân?

Dế mèn

Dế trũi



28 

Vì $28 < 66 < 93$ nên nhà **dế trũi** gần nhà dế mèn nhất

30 

93 

31 

66 

15 



21 

32 



Nhà **dế mèn** đến nhà **dế trũi** dài bao nhiêu bước chân?

Châu chấu

b) Nhà ai gần nhà dế mèn nhất?

CHÀO

TẠM BIỆT



MĂNG NON - TÀI LIỆU TIỂU HỌC

Chuyên soạn bài giảng điện tử Tiểu học



KẾT NỐI TRI THỨC
VỚI CUỘC SỐNG

LỚP 1, 2, 3, 4, 5



Chân trời sáng tạo

LỚP 1, 4, 5



LỚP 1



SOẠN BÀI THEO YÊU CẦU, DỰ GIỜ, CHUYÊN ĐỀ

Zalo 0382348780 (Cảm)

Zalo 0905919065 (Linh)



Măng Non - Tài liệu Tiểu học



mangnon2024

