



Khởi động

NHẤT HẠT DỄ





18

+

31

=

?



49



50



94



39



?

+

18

=

49



33



31



35



36



23

-

?

=

10



10



11



12



13



Bài
33

TOÁN



KẾT NỐI TRI THỨC
VỚI CUỘC SỐNG

Luyện tập chung

(Tiết 1)



Yêu cầu cần đạt

- Đặt tính và thực hiện được phép tính cộng, trừ (không nhớ) số có hai chữ số.
- Tính nhẩm được các phép cộng và trừ (không nhớ) số có hai chữ số.
- Đọc hiểu và tự nêu phép tính các bài toán yêu cầu đặt phép tính.



Luyện tập

1

a) Tính

$20 + 5$

$36 + 1$

$57 - 40$

$74 - 24$

Làm vào bảng con

03:00

THẢO LUẬN NHÓM



1

a) Tính

$20 + 5$

$= 25$

$36 + 1$

$= 37$

$57 - 40$

$= 17$

$74 - 24$

$= 50$



CÙNG CHIA SẺ

1

b) Tính nhẩm

TRUYỀN ĐIỆN

$20 + 30$

$= 50$

$40 + 10$

$= 50$

$70 - 20$

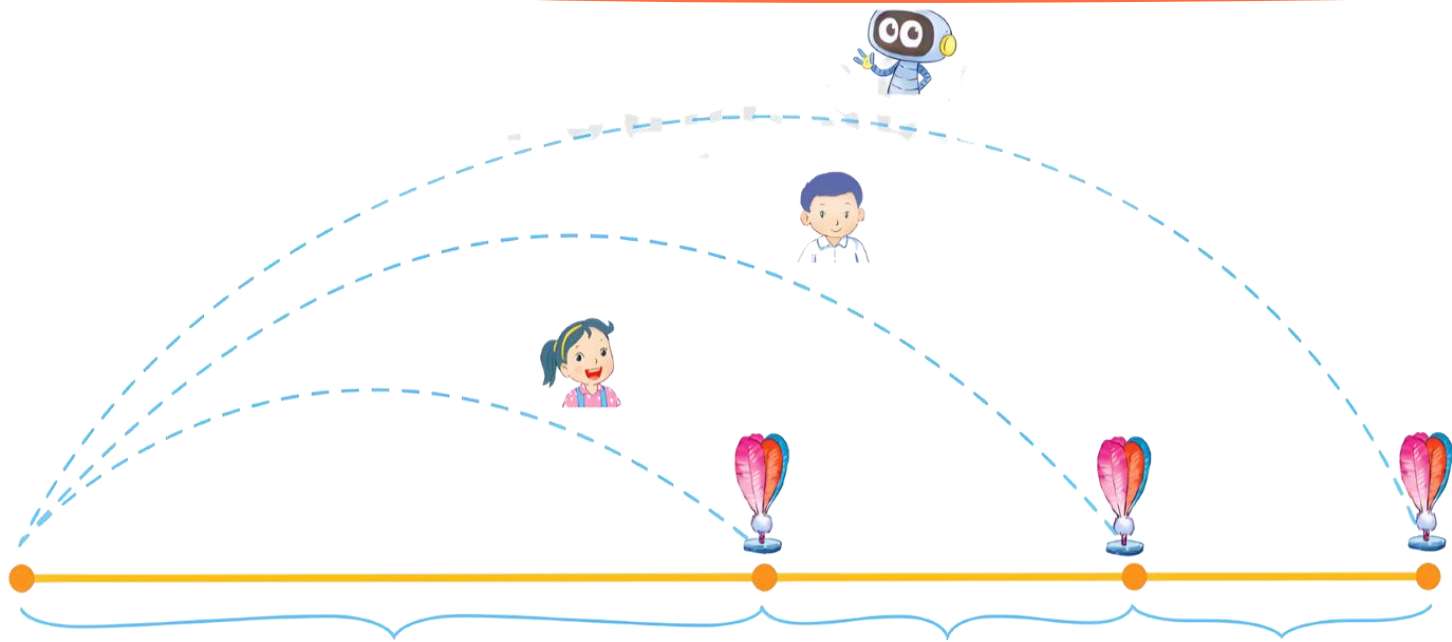
$= 50$

$90 - 40$

$= 50$

2

Mai, Việt và Rô - bốt chơi đá cầu. Em hãy tìm số bước chân thích hợp.



03:00

MR. TIM

THẢO LUẬN NHÓM



?



: ?



: ?



CŨNG CHIA SẺ





10 

5 

4 



10 



15 



19 

3


Chú ếch nào
được ăn hoa
mướp?

03.

LÀM VIỆC CÁ NHÂN



Tớ đi theo các
ô có số bằng
 $20 + 40$.



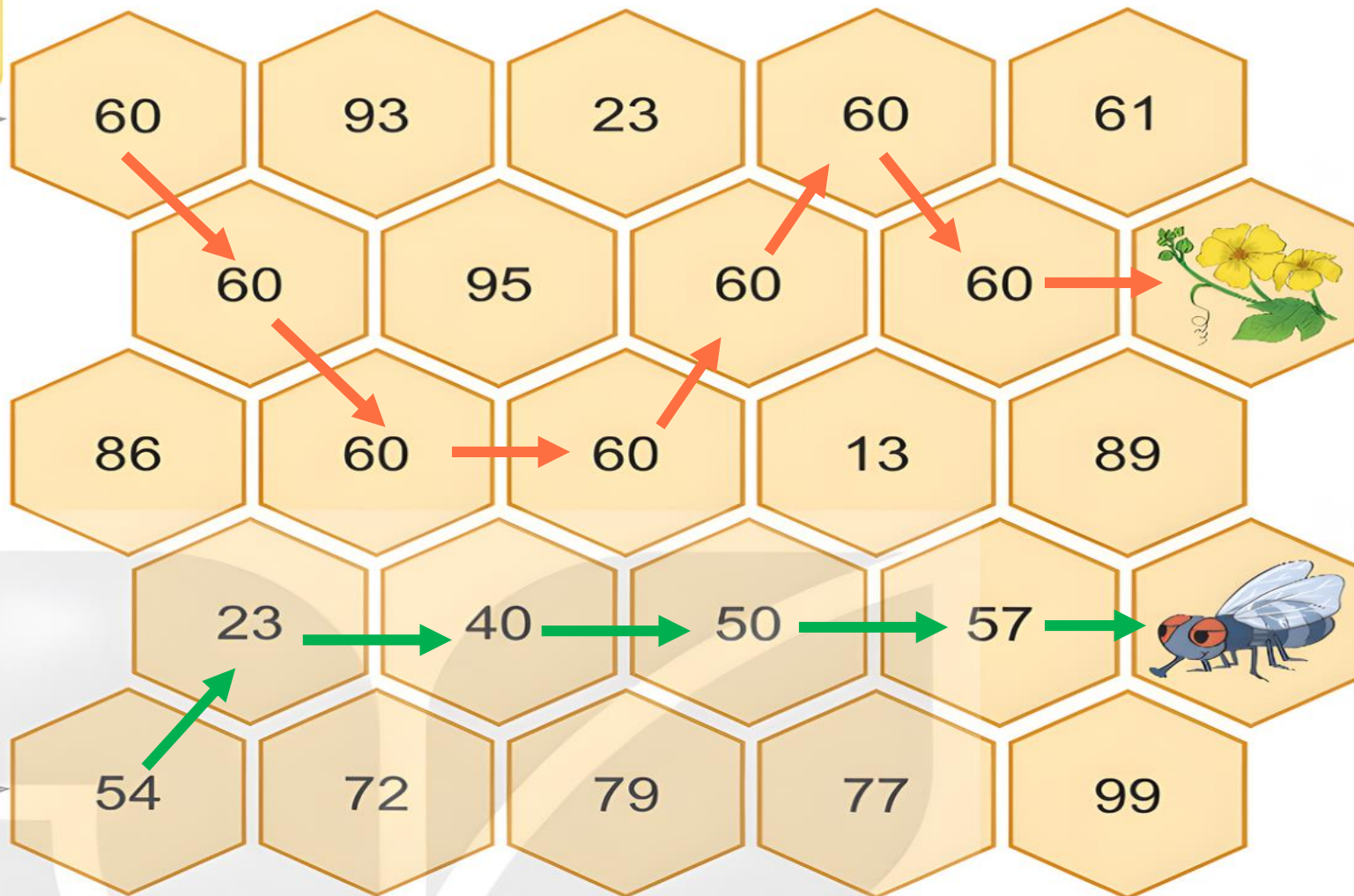
Tớ đi theo
các ô có số
bé hơn 60.



Cùng chia sẻ



Tớ đi theo các ô có số bằng $20 + 40$.



Tớ đi theo các ô có số bé hơn 60.



Vận dụng



4

Anh Khoai phải sắp xếp các đốt tre thành phép tính đúng. Nhưng do vội quá nên anh xếp nhầm hai đốt tre. Em hãy xếp lại giúp anh Khoai nhé!



AI NHANH HƠN?

2:00

Cùng chia sẻ



4

Anh Khoai phải sắp xếp các đốt tre thành phép tính đúng. Nhưng do vội quá nên anh xếp nhầm hai đốt tre. Em hãy xếp lại giúp anh Khoai nhé!



Đản ðò

Xem lại bài ðã học.

Chuẩn bị bài học mới.



Tạm biệt!



MĂNG NON - TÀI LIỆU TIỂU HỌC

Chuyên soạn bài giảng điện tử Tiểu học



KẾT NỐI TRI THỨC
VỚI CUỘC SỐNG

LỚP 1, 2, 3, 4, 5



Chân trời sáng tạo

LỚP 1, 4, 5



LỚP 1



SOẠN BÀI THEO YÊU CẦU, DỰ GIỜ, CHUYÊN ĐỀ

Zalo

0382348780 (Cảm)



Măng Non - Tài liệu Tiểu học



Zalo

0905919065 (Linh)



mangnon2024

