



MĂNG NON - TÀI LIỆU TIỂU HỌC

Chuyên

Soạn bài giảng điện tử Tiểu học

**GIÁ CỰC
ƯU ĐÃI**

Đặt trước bài giảng lớp 5



KẾT NỐI TRI THỨC
VỚI CUỘC SỐNG

**BỘ KẾT NỐI TRI THỨC
CHÂN TRỜI SÁNG TẠO**



Chân trời sáng tạo

MỜI LIÊN HỆ:

Facebook: Măng Non - Tài liệu Tiểu học

Zalo: 0382348780 - 0984848929

Quét mã QR:



TOÁN 4

ÔN TẬP

Chúng

TRANG 117



KẾT NỐI TRI THỨC
VỚI CUỘC SỐNG





Bài 1



Bài 2



Bài 4

Bài 5

Bài 3



Bài 1


CHỌN CÂU TRẢ LỜI ĐÚNG

Đã tô màu $\frac{3}{5}$ hình nào?

$\frac{2}{5}$



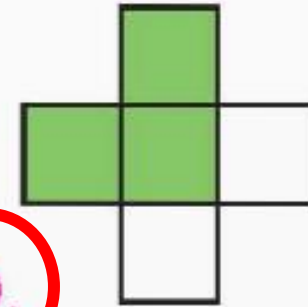
$\frac{3}{4}$



$\frac{3}{8}$



D.



Em hãy nêu phân số hiển thị phần tô màu của các hình còn lại



Bài 2

Bài 1

Bài 3

Bài 4

Bài 5





Bài 2

RÚT GỌN CÁC PHÂN SỐ SAU:




$$\frac{15}{25}; \frac{24}{28}; \frac{18}{33}; \frac{12}{36}$$

$$\frac{15}{25} = \frac{15:5}{25:5} = \frac{3}{5}$$

$$\frac{18}{33} = \frac{18:3}{33:3} = \frac{6}{11}$$

$$\frac{24}{28} = \frac{24:4}{28:4} = \frac{6}{7}$$

$$\frac{12}{36} = \frac{12:12}{36:12} = \frac{1}{3}$$




Bài 2

Bài 1

Bài 4

Bài 5

Bài 3



Bài 3

TÍNH

a. $\frac{3}{5} + \frac{7}{25}$

b. $\frac{8}{11} - \frac{19}{33}$

c. $\frac{16}{21} \times \frac{3}{5}$

d. $\frac{14}{41} : \frac{7}{9}$

a. $\frac{3}{5} + \frac{7}{25} = \frac{15}{25} + \frac{7}{25} = \frac{22}{25}$

c. $\frac{16}{21} \times \frac{3}{5} = \frac{16 \times 3}{3 \times 7 \times 5} = \frac{16}{35}$

b. $\frac{8}{11} - \frac{19}{33} = \frac{24}{33} - \frac{19}{33} = \frac{5}{33}$

d. $\frac{14}{41} : \frac{7}{9} = \frac{14}{41} \times \frac{9}{7} = \frac{18}{41}$





Bài 1

Bài 4

Bài 2

Bài 5

Bài 3

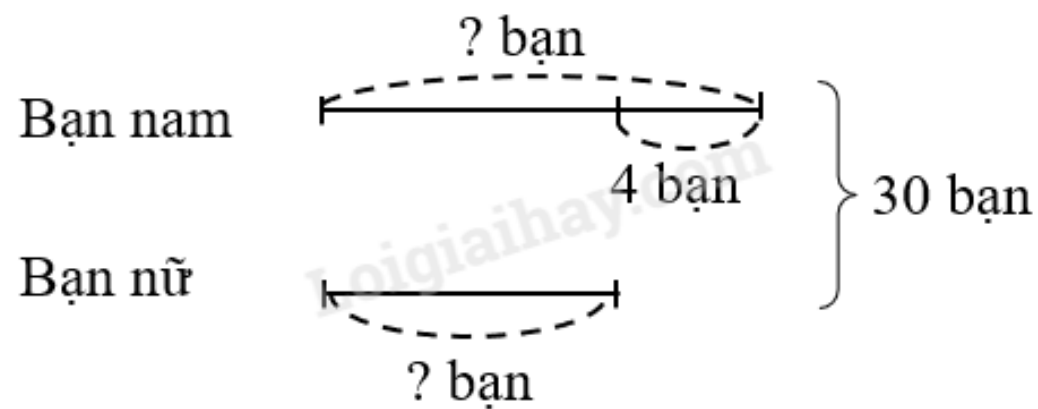


Bài 4

Có 30 bạn tham gia đội văn nghệ của trường. Trong đó, số bạn nam hơn số bạn nữ là 4 bạn. Hỏi đội văn nghệ đó có bao nhiêu bạn nam, bao nhiêu bạn nữ?

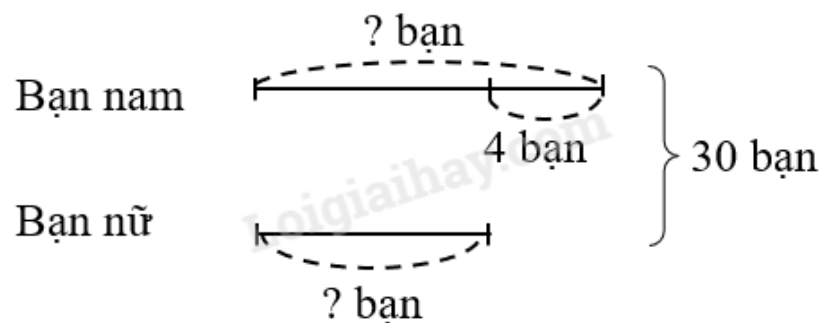


Tóm tắt



Bài 4

Tóm tắt



Bài giải

Cách 1:

Đội văn nghệ có số bạn nam là:

$$(30 + 4) : 2 = 17 \text{ (bạn)}$$

Đội văn nghệ có số bạn nữ là:

$$17 - 4 = 13 \text{ (bạn)}$$

Đáp số: nam: 17 bạn; nữ: 13 bạn

Cách 2:

Đội văn nghệ có số bạn nữ là: $(30 - 4) : 2 = 13 \text{ (bạn)}$

Đội văn nghệ có số bạn nam là: $13 + 4 = 17 \text{ (bạn)}$

Đáp số: nữ: 13 bạn; nam: 17 bạn



Bài 1



Bài 2

Bài 4



Bài 5



Bài 3



Bài 5

Một kho có 31 tấn 5 tạ muối. Người ta chuyển muối từ kho lên miền núi, đợt Một chuyển được $\frac{2}{5}$ số muối trong kho, đợt Hai chuyển được $\frac{3}{7}$ số muối trong kho. Hỏi cả hai đợt đã chuyển được bao nhiêu tạ muối?

Tóm tắt

Có: 31 tấn 5 tạ

Đợt Một : $\frac{2}{5}$ số muối

Đợt Hai : $\frac{3}{7}$ số muối

Cả hai đợt: ? tạ muối

Bài 5

Tóm tắt

Có: 31 tấn 5 tạ

Đợt Một : $\frac{2}{5}$ số muối

Đợt Hai : $\frac{3}{7}$ số muối

Cả hai đợt: ? tạ muối



Bài giải

Đổi: 31 tấn 5 tạ = 315 tạ

Số tạ muối đợt Một chuyển được là:

$$315 \times \frac{2}{5} = 126 \text{ (tạ)}$$


Số tạ muối đợt Hai chuyển được là:

$$315 \times \frac{3}{7} = 135 \text{ (tạ)}$$

Cả 2 đợt chuyển được số tạ muối là:

$$126 + 135 = 261 \text{ (tạ)}$$

Đáp số: 261 tạ muối



TẠM BIỆT CÁC BẠN





MĂNG NON - TÀI LIỆU TIỂU HỌC

Chuyên

SOẠN BÀI GIẢNG ĐIỆN TỬ

LỚP 2, 3, 4

**BỘ KẾT NỐI TRI THỨC VÀ
CHÂN TRỜI SÁNG TẠO**

*Soạn bài giảng yêu cầu, dự giờ,
thao giảng dựa theo chương trình GDPT 2018*

Mời truy cập:

Facebook: MĂNG NON - TÀI LIỆU TIỂU HỌC

Zalo: 0382348780 - 0984848929

Quét mã QR:

