



MĂNG NON - TÀI LIỆU TIỂU HỌC

Chuyên

Soạn bài giảng điện tử Tiểu học

**GIÁ CỰC
ƯU ĐÃI**

Đặt trước bài giảng lớp 5



KẾT NỐI TRI THỨC
VỚI CUỘC SỐNG

**BỘ KẾT NỐI TRI THỨC
CHÂN TRỜI SÁNG TẠO**



Chân trời sáng tạo

MỜI LIÊN HỆ:

Facebook: Măng Non - Tài liệu Tiểu học


Zalo: 0382348780 - 0984848929

Quét mã QR:





ÔN TẬP MỘT SỐ YẾU TỐ THỐNG KÊ VÀ XÁC SUẤT





KẾT NỐI TRI THỨC
VỚI CUỘC SỐNG



**KHỞI
ĐỘNG**



Câu 1. Cho bảng số liệu thống kê số sách bán được trong năm ngày của một cửa hàng như sau. Hỏi tổng số sách của ngày bán được nhiều nhất và ít nhất là bao nhiêu quyển?

Ngày	Thứ hai	Thứ ba	Thứ tư	Thứ năm
Số lượng	12	8	5	15



23



17



20



24





KẾT NỐI TRI THỨC
VỚI CUỘC SỐNG

Câu 2: Dãy số liệu thống kê về số thời gian đọc sách của các bạn theo thứ tự từ nhiều nhất đến ít nhất là:

Tên	Việt	Mai	Quỳnh	Hùng
Thời gian	45 phút	50 phút	40 phút	60 phút

A

60 phút, 45 phút,
50 phút, 40 phút



B

50 phút, 60 phút,
45 phút, 40 phút



C

40 phút, 45 phút,
50 phút, 60 phút



D

60 phút, 50 phút,
45 phút, 40 phút





KẾT NỐI TRI THỨC
VỚI CUỘC SỐNG

Câu 3: Cho dãy số liệu sau:

678, 28, 235, 127, 864

Số thứ năm trong dãy số trên là:

A

678



B

235



C


28



D

864





KẾT NỐI TRI THỨC
VỚI CUỘC SỐNG



KHẪM PHÃ

BÀI 1

Chiều cao lần lượt của 6 vận động viên bóng chày
Thắng, Hùng, Bình, Trung, Lợi, Dũng theo thứ tự là

180 cm, 175 cm, 182 cm, 178 cm, 168 cm, 185 cm

a) Số?

Tên vận động viên	Hùng	Lợi	Thắng	Bình	Dũng	Trung
Chiều cao (cm)	175	168	180	182	185	178

THẢO LUẬN NHÓM ĐÔI



b) Sắp xếp các số đo chiều cao của bốn vận động viên Thắng, Hùng, Bình, Trung theo thứ tự từ thấp đến cao.

175, 178, 180, 182

**c) Vận động viên nào thấp hơn vận động viên Hùng?
Vận động viên nào cao hơn vận động viên Bình?**

**Vận động viên Lợi thấp hơn vận động viên Hùng.
Vận động viên Dũng cao hơn vận động viên Bình.**

THẢO LUẬN NHÓM ĐÔI



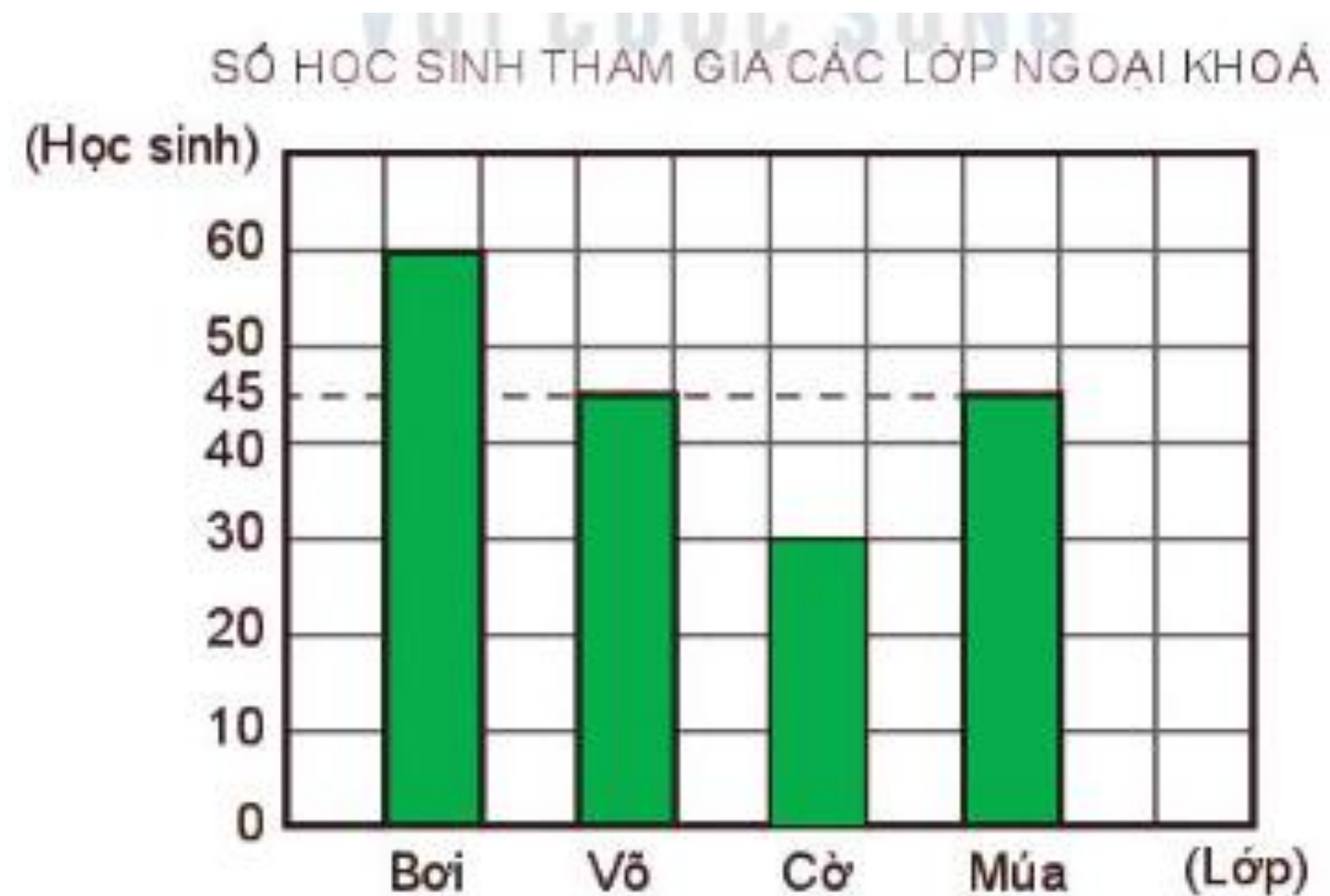
ÀI 2 - SỐ? Biểu đồ dưới đây cho biết số học sinh tham gia các lớp ngoại khoá của một trường tiểu học.

Dựa vào biểu đồ trên, hãy trả lời các câu hỏi.

a) Có mấy lớp ngoại khoá? Đó là những lớp ngoại khoá nào?

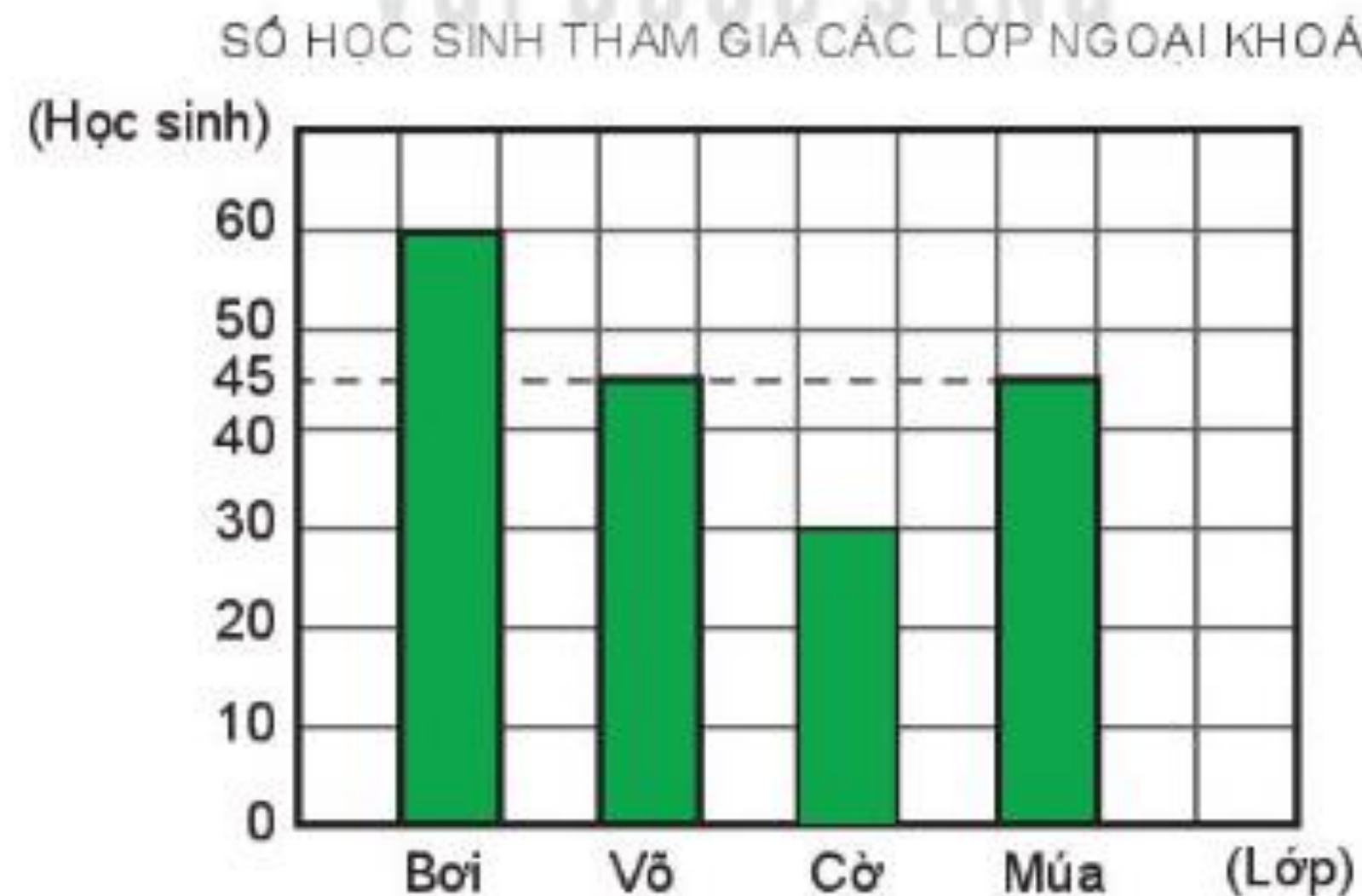
b) Lớp ngoại khoá nào có số học sinh nhiều nhất. Lớp nào có số học sinh ít nhất? Hai lớp ngoại khoá nào có số học sinh bằng nhau?

c) Trung bình mỗi lớp ngoại khoá có bao nhiêu học sinh?



**a) Có mấy lớp ngoại khoá?
Đó là những lớp ngoại khoá nào?**

**Có 4 lớp ngoại
khoá. Đó là những
lớp ngoại khoá:
Bơi, Võ, Cờ, Múa**



b) Lớp ngoại khoá nào có số học sinh nhiều nhất. Lớp nào có số học sinh ít nhất? Hai lớp ngoại khoá nào có số học sinh bằng nhau?

Lớp ngoại khoá Bơi có số học sinh nhiều nhất.

Lớp Cờ có số học sinh ít nhất.

Hai lớp ngoại khoá Võ và Múa có số học sinh bằng nhau.



c) Trung bình mỗi lớp ngoại khoá có bao nhiêu học sinh?

Trung bình mỗi lớp ngoại khoá có số học sinh là:

$$(60 + 45 + 30 + 45) : 4 = 45 \text{ (học sinh)}$$

Đáp số: 45 học sinh




Làm vào vở

BÀI 3

Trong một hộp có 3 quả bóng gồm 1 quả màu đỏ, 1 quả màu vàng và 1 quả màu xanh. Không nhìn vào hộp, Rô-bốt lấy ra 1 quả bóng bất kì, ghi lại màu của quả bóng đó rồi trả lại vào hộp. Bóng màu đỏ ghi Đ, bóng màu xanh ghi X, bóng màu vàng ghi V.


Rô-bốt đã thực hiện 30 lần lấy bóng như trên và ghi được kết quả xuất hiện màu của mỗi quả bóng như bảng sau:



Bóng màu đỏ	Đ	Đ	Đ	Đ	Đ	Đ	Đ	Đ	Đ	Đ		
Bóng màu xanh	X	X	X	X	X	X	X	X	X	X	X	X
Bóng màu vàng	V	V	V	V	V	V	V	V				



Nhóm 2



Trong 30 lần Rô-bốt lấy bóng:

a) Mỗi loại bóng màu đỏ, màu xanh, màu vàng xuất hiện bao nhiêu lần?

Bóng đỏ xuất hiện 10 lần, bóng xanh 12 lần, bóng vàng 8 lần.



Rô-bốt đã thực hiện 30 lần lấy bóng như trên và ghi được kết quả xuất hiện màu của mỗi quả bóng như bảng sau:

Bóng đỏ	màu	Đ	Đ	Đ	Đ	Đ	Đ	Đ	Đ	Đ	Đ		
Bóng xanh	màu	X	X	X	X	X	X	X	X	X	X	X	X
Bóng vàng	màu	V	V	V	V	V	V	V	V				

Trong 30 lần Rô-bốt lấy bóng:

b) Bóng màu nào xuất hiện nhiều lần nhất, bóng màu nào xuất hiện ít lần nhất?

Bóng màu xanh xuất hiện nhiều nhất, bóng màu vàng xuất hiện ít nhất.



CHÀO TẠM BIỆT





MĂNG NON - TÀI LIỆU TIỂU HỌC

Chuyên

SOẠN BÀI GIẢNG ĐIỆN TỬ

LỚP 2, 3, 4

**BỘ KẾT NỐI TRI THỨC VÀ
CHÂN TRỜI SÁNG TẠO**

*Soạn bài giảng yêu cầu, dự giờ,
thao giảng dựa theo chương trình GDPT 2018*

Mời truy cập:

Facebook: MĂNG NON - TÀI LIỆU TIỂU HỌC

Zalo: 0382348780 - 0984848929

Quét mã QR:

