



MĂNG NON - TÀI LIỆU TIỂU HỌC

Chuyên

Soạn bài giảng điện tử Tiểu học

**GIÁ CỰC
ƯU ĐÃI**

Đặt trước bài giảng lớp 5



KẾT NỐI TRI THỨC
VỚI CUỘC SỐNG

**BỘ KẾT NỐI TRI THỨC
CHÂN TRỜI SÁNG TẠO**



Chân trời sáng tạo

MỜI LIÊN HỆ:

Facebook: Măng Non - Tài liệu Tiểu học

Zalo: 0382348780 - 0984848929

Quét mã QR:






KHỎI


ĐÔNG

6.1

TIỆM ĐỒ ĂN NHANH



PIZZA



HAMBUGER



BÁNH MÌ



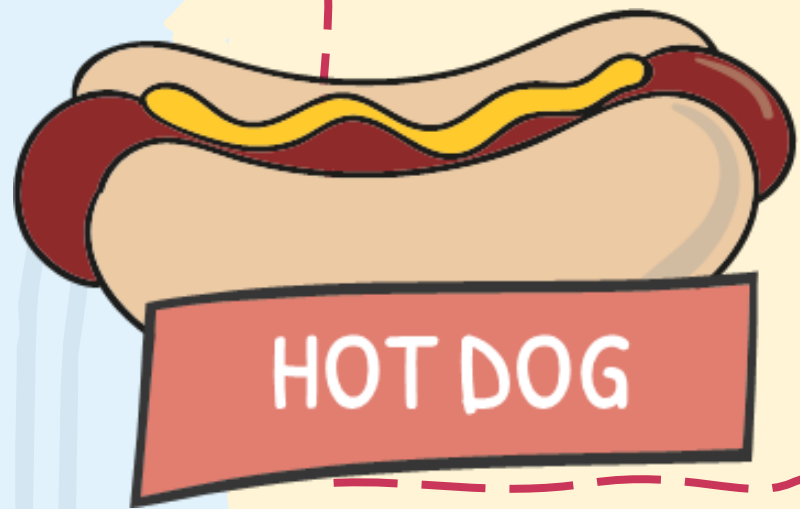
OPEN



HOT DOG



BÁNH KẸP





So sánh phân số:


$$\frac{3}{5} \dots \frac{3}{10}$$



<




=




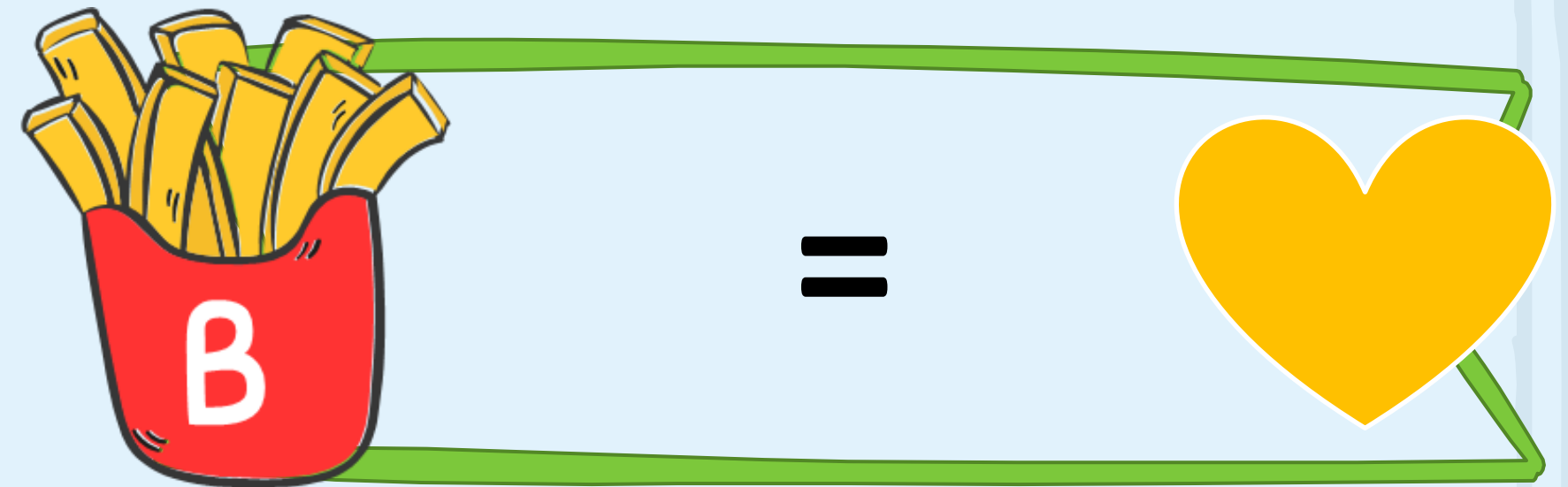

>





So sánh phân số:

$$\frac{2}{3} \dots \frac{6}{9}$$








Phân số nào sau đây
bé hơn 1?





$$\frac{3}{2}$$



$$\frac{5}{4}$$



$$\frac{4}{4}$$




$$\frac{2}{3}$$








Rút gọn phân số $\frac{18}{27}$ tối giản, ta được:





$$\frac{2}{3}$$




$$\frac{6}{9}$$




$$\frac{3}{2}$$



$$\frac{4}{5}$$






HAMBUGER



Qui đồng 2 phân số sau $\frac{2}{3}$ và $\frac{5}{9}$, ta được





$\frac{18}{27}$ và $\frac{15}{27}$




$\frac{9}{27}$ và $\frac{5}{27}$




$\frac{18}{12}$ và $\frac{15}{12}$



$\frac{8}{25}$ và $\frac{15}{25}$





FAST FOOD

*Các bạn
thật giỏi!*






KẾT NỐI TRI THỨC
VỚI CUỘC SỐNG

ÔN TẬP

Phép tính với phân số

TRANG 110





LUNYEN

TAP

6.1

Bài 1

Tính

$$\text{a) } \frac{7}{24} + \frac{11}{6} = \frac{7}{24} + \frac{44}{24} = \frac{51}{24} = \frac{17}{8}$$

$$\text{b) } 3 + \frac{5}{8} = \frac{24}{8} + \frac{5}{8} = \frac{29}{8}$$

$$\text{c) } \frac{19}{28} - \frac{3}{7} = \frac{19}{28} - \frac{12}{28} = \frac{7}{28} = \frac{1}{4}$$

$$\text{d) } \frac{53}{21} - 1 = \frac{53}{21} - \frac{21}{21} = \frac{32}{21}$$



Bài 2

Tính giá trị biểu thức

$$\text{a) } \frac{4}{9} + \frac{2}{9} - \frac{5}{18}$$

$$= \frac{8}{18} + \frac{4}{18} - \frac{5}{18}$$

$$= \frac{12}{18} - \frac{5}{18}$$

$$= \frac{7}{18}$$

$$\text{b) } 2 - \frac{3}{5} + \frac{8}{15}$$

$$= \frac{30}{15} - \frac{9}{15} + \frac{8}{15}$$

$$= \frac{21}{15} + \frac{8}{15}$$

$$= \frac{29}{15}$$

$$\text{c) } \frac{9}{8} - \left(\frac{11}{8} - \frac{19}{32} \right)$$

$$= \frac{36}{32} - \left(\frac{44}{32} - \frac{19}{32} \right)$$

$$= \frac{36}{32} - \frac{25}{32}$$

$$= \frac{11}{32}$$

Bài 3

Bác Tư có 1 khu đất, bác đã sử dụng $\frac{2}{5}$ diện tích để xây nhà và $\frac{3}{10}$ diện tích để trồng cây, diện tích còn lại để làm sân và lối đi. Hỏi bác Tư đã dành bao nhiêu phần diện tích khu đất để làm sân và lối đi?



Bài giải:

Số phần diện tích khu đất để xây nhà và trồng cây là:

Thảo luận nhóm (diện tích khu đất)

đôi nếu cách giải

Số phần diện tích khu đất để làm sân và lối đi là:

bài toán

$$1 - \frac{2}{5} - \frac{3}{10} = \frac{3}{10} \text{ (diện tích khu đất)}$$

Đáp số: $\frac{3}{10}$ diện tích khu đất

Bài 4

Tính bằng cách thuận tiện nhất

$$\frac{4}{27} + \frac{5}{9} + \frac{13}{9} - 2 = \frac{4}{27} + \left(\frac{5}{9} + \frac{13}{9} \right) - 2$$

$$= \frac{4}{27} + \frac{18}{9} - 2$$

$$= \frac{4}{27} + 2 - 2$$

$$= \frac{4}{27}$$



Bài 5

Đố em!

Hãy viết phân số $\frac{3}{4}$ thành tổng hai phân số có tử số là 1 và mẫu số khác nhau.

$$\frac{3}{4} = \frac{1}{4} + \frac{1}{2}$$

Ờ ờ...




**LÀM VIỆC
THEO NHÓM**



Em hãy giúp Nam và Việt thực hiện yêu cầu của Mai

Chúc các em
học tốt!





MĂNG NON - TÀI LIỆU TIỂU HỌC

Chuyên

SOẠN BÀI GIẢNG ĐIỆN TỬ

LỚP 2, 3, 4

**BỘ KẾT NỐI TRI THỨC VÀ
CHÂN TRỜI SÁNG TẠO**

*Soạn bài giảng yêu cầu, dự giờ,
thao giảng dựa theo chương trình GDPT 2018*

Mời truy cập:

Facebook: MĂNG NON - TÀI LIỆU TIỂU HỌC

Zalo: 0382348780 - 0984848929

Quét mã QR:

