



KẾT NỐI TRI THỨC
VỚI CUỘC SỐNG

Bài 68

ÔN phép tính với TẬP số tự nhiên

Trang 105

TOÁN

FRUITS



YÊU CẦU CẦN ĐẠT



- Thực hiện được các phép tính với số tự nhiên.
- Nhận biết và vận dụng được tính chất của phép cộng, phép trừ, phép nhân, phép chia các số tự nhiên trong tính toán.
- Tính được giá trị của biểu thức có và không có dấu ngoặc.
- Tính được giá trị biểu thức bằng cách thuận tiện.
- Giải được bài toán thực tế liên quan đến các phép tính với số tự nhiên.
- Phát triển năng lực tư duy và năng lực tính toán.
- Vận dụng bài học vào thực tiễn.



AI NHANH HƠN




Hãy cùng thi đua
xem ai trả lời
nhanh nhất nào!

01

Làm tròn số 23 764 đến hàng
chục nghìn



20 000



30 000

23 000



24 000



02

Dãy số $0; 1; 2; 3; 4; 5; 6; 7; 8; 9; \dots$
được gọi là gì?



Số tự nhiên lớn nhất



Dãy số tự nhiên

Dãy số liền trước



Dãy số liền sau

03

Từ 4 số **0; 1; 2; 3** có thể lập được
số lẻ lớn nhất có bốn chữ số là:

3 210



1 203

3 201



2 103



Chào các bạn. Hôm nay các bạn hãy cùng mình trải nghiệm một ngày làm Shipper thông qua các nhiệm vụ nhé!



Các bạn hãy cố gắng trả lời đúng để giúp mình lấy được những thùng hàng cần giao nhé!



Đặt tính rồi tính

1

a) $3\ 458 + 639$ 

b) 815×6 

$38\ 794 + 89\ 152$ 

509×37 

$62\ 928 - 45\ 636$ 

$8\ 962 : 28$ 




Đặt tính rồi tính

1

a) $3\ 458 + 639$

$$\begin{array}{r} 3\ 458 \\ +\ 639 \\ \hline 4\ 097 \end{array}$$


$38\ 794 + 89\ 152$

$$\begin{array}{r} 38\ 794 \\ +\ 89\ 152 \\ \hline 127\ 946 \end{array}$$




Đặt tính rồi tính

1

$$62\ 928 - 45\ 636$$

$$\begin{array}{r} 62\ 928 \\ - 45\ 636 \\ \hline 17\ 292 \end{array}$$



Đặt tính rồi tính

1

b) 815×6

$$\begin{array}{r} 815 \\ \times \quad 6 \\ \hline 4890 \end{array}$$



509×37

$$\begin{array}{r} 509 \\ \times 37 \\ \hline 3563 \\ 1527 \\ \hline 18833 \end{array}$$




$8962 : 28$

$$\begin{array}{r|l} 8962 & 28 \\ \hline 56 & 320 \\ 02 & \\ 2 & \end{array}$$



Cảm ơn các bạn đã giúp mình nhận đủ các thùng hàng nhé!



Các bạn hãy hoàn thành các bài tập sau để giúp mình kiểm tra số lượng hàng hoá trước khi giao nhé!



2

Không thực hiện phép tính,
hãy tìm số thích hợp với
dấu “?”



$$319 + 425 = 425 + \boxed{319}$$

$$(173 + 454) + 346 = \boxed{173} + (454 + 346)$$

Các bạn hãy giúp mình sắp xếp các đơn hàng theo lộ trình thích hợp để tiết kiệm thời gian và công sức vận chuyển nhé.




Hai xe bồn chở tất cả 39 000 / nước. Xe thứ nhất chở nhiều hơn xe thứ hai 3 000 / nước. Hỏi mỗi xe chở bao nhiêu lít nước?



3

Hai xe bồn chở tất cả 39 000 l nước. Xe thứ nhất chở nhiều hơn xe thứ hai 3 000 l nước. Hỏi mỗi xe chở bao nhiêu lít nước?



Tìm hai số khi biết tổng và hiệu của hai số đó.

3

Hai xe bồn chở tất cả 39 000 l nước. Xe thứ nhất chở nhiều hơn xe thứ hai 3 000 l nước. Hỏi mỗi xe chở bao nhiêu lít nước?

Bài giải

Xe thứ nhất chở được số lít nước là:

$$(39\ 000 + 3\ 000) : 2 = 21\ 000 \text{ (l)}$$

Xe thứ hai chở được số lít nước là:

$$21\ 000 - 3\ 000 = 18\ 000 \text{ (l)}$$

Đáp số: Xe thứ nhất: 21 000 l nước

Xe thứ hai: 18 000 l nước



Một đoàn tàu chở hàng gồm 17 toa. Trong đó có 9 toa, mỗi toa chở 15 300 kg hàng và 8 toa, mỗi toa chở 13 600 kg hàng. Hỏi trung bình mỗi toa chở bao nhiêu ki-lô-gam hàng?

Bài toán hỏi gì?



4

Bài giải

9 toa tàu chở được số ki-lô-gam hàng là:

$$15\ 300 \times 9 = 137\ 700 \text{ (kg)}$$

Số kg hàng 8 toa chở là:

$$13\ 600 \times 8 = 108\ 800 \text{ (kg)}$$

Trung bình mỗi toa chở số ki-lô-gam hàng là:

$$(137\ 700 + 108\ 800) : 17 = 14\ 500 \text{ (kg)}$$

Đáp số: 14 500 kg hàng.





Cách 2

Bài giải

Trung bình mỗi toa chở số ki-lô-gam hàng là:

$$(15\ 300 \times 9 + 13\ 600 \times 8) : 17 = 14\ 500 \text{ (kg)}$$

Đáp số: 14 500 kg hàng.







Cảm ơn các bạn đã giúp
mình giao hàng.

Nhằm nâng cao độ tin cậy về
chất lượng phục vụ, các bạn hãy
giúp mình đạt chuẩn 5 sao bằng
cách trả lời bài tập sau nhé!

Tính bằng cách thuận tiện.

$$\begin{aligned} & 6\ 650 + 9\ 643 + 3\ 250 - 9\ 900 \\ &= (6\ 650 + 3\ 250) - 9\ 900 + 9\ 643 \\ &= 9\ 900 - 9\ 900 + 9\ 643 \\ &= 9\ 643 \end{aligned}$$





Cảm ơn các bạn đã giúp mình hoàn thành xuất sắc “một ngày làm shipper” nhé! Chào tạm biệt và hẹn gặp lại các bạn.

Dặn dò

Clothing
store

Bakery

TELEPHONE

DELIVERY



Hoàn thành VBT



Chuẩn bị bài tiếp theo



CHÚC CÁC EM

học tốt!





MĂNG NON - TÀI LIỆU TIỂU HỌC

Chuyên

Soạn bài giảng điện tử Tiểu học

**GIÁ CỰC
ƯU ĐÃI**

Đặt trước bài giảng lớp 5



KẾT NỐI TRI THỨC
VỚI CUỘC SỐNG

**BỘ KẾT NỐI TRI THỨC
CHÂN TRỜI SÁNG TẠO**



Chân trời sáng tạo

MỜI LIÊN HỆ:

Facebook: Măng Non - Tài liệu Tiểu học

Zalo: 0382348780 - 0984848929

Quét mã QR:

