






KẾT NỐI TRI THỨC
VỚI CUỘC SỐNG

LUYỆN TẬP CHUNG



Trang 100




KHỞI ĐỘNG





Nhắc lại:

- Cách nhân phân số và cách chia phân số?
- Cách tìm phân số của một số?






Nhắc lại:

Muốn nhân hai phân số, ta lấy tử số nhân với tử số, mẫu số nhân với mẫu số.

Muốn thực hiện phép chia hai phân số, ta lấy phân số thứ nhất nhân với phân số đảo ngược của phân số thứ hai.

Muốn tìm $\frac{2}{3}$ của 12, ta lấy 12 nhân với $\frac{2}{3}$.





**LUYỆN
TẬP**

1. Chọn câu trả lời đúng



A. $15 \times \frac{2}{3}$

B. $\left(\frac{2}{3} - \frac{1}{6}\right) : 5$

C. $\left(\frac{7}{4} \times \frac{8}{3}\right) : \frac{1}{3}$

Biểu thức nào sau đây có giá trị lớn nhất?



1. Chọn câu trả lời đúng

Biểu thức nào sau đây có giá trị lớn nhất?

$$\text{A. } 15 \times \frac{2}{3}$$

$$= \frac{30}{3} = 10$$

$$\text{B. } \left(\frac{2}{3} - \frac{1}{6}\right) : 5$$

$$= \left(\frac{4}{6} - \frac{1}{6}\right) : 5 = \frac{3}{6} \times \frac{1}{5} = \frac{3}{30} = \frac{1}{10}$$

$$\text{C. } \left(\frac{7}{4} \times \frac{8}{3}\right) : \frac{1}{3}$$

$$= \frac{56}{12} \times 3 = \frac{56}{4} = 14$$



1. Chọn câu trả lời đúng

Biểu thức nào sau đây có giá trị lớn nhất?

$$\text{A. } 15 \times \frac{2}{3}$$

$$= \frac{30}{3} = 10 = \frac{100}{10}$$

$$\text{B. } \left(\frac{2}{3} - \frac{1}{6}\right) : 5$$

$$= \left(\frac{4}{6} - \frac{1}{6}\right) : 5 = \frac{3}{6} \times \frac{1}{5} = \frac{3}{30} = \frac{1}{10}$$

$$\text{C. } \left(\frac{7}{4} \times \frac{8}{3}\right) : \frac{1}{3}$$

$$= \frac{56}{12} \times 3 = \frac{56}{4} = 14 = \frac{140}{10}$$




2. Số?

Công ty Kim Sơn nhận được hàng làm 1 000 chiếc hộp cói, trong đó tổ của bác Diễm nhận đơn $\frac{1}{4}$ đơn hàng.



a. Tổ của bác Diễm nhận đơn chiếc hộp cói

b. Sau khi làm xong, toàn bộ số hộp cói của tổ bác Diễm được một rô-bốt chuyển đến kho. Biết mỗi hộp cói nặng $\frac{3}{2}$ kg. Vậy rô-bốt đã chuyển tất cả kg.




2. Số?

Công ty Kim Sơn nhận được hàng làm 1 000 chiếc hộp cối, trong đó tổ của bác Diễm nhận đơn $\frac{1}{4}$ đơn hàng.

a. Tổ của bác Diễm nhận đơn **250** chiếc hộp cối

$$1\ 000 \times \frac{1}{4} = 250$$



2. Số?

Công ty Kim Sơn nhận được hàng làm 1 000 chiếc hộp cối, trong đó tổ của bác Diễm nhận đơn $\frac{1}{4}$ đơn hàng.

b. Sau khi làm xong, toàn bộ số hộp cối của tổ bác Diễm được một rô-bốt chuyển đến kho. Biết mỗi hộp cối nặng $\frac{3}{2}$ kg. Vậy rô-bốt đã chuyển tất cả **375** kg.

$$250 \times \frac{3}{2} = 375 \text{ (kg)}$$




3. Số?

Một cửa hàng kim khí có 8 khay đựng ốc vít theo từng loại màu trắng, vàng, đen và số ốc vít ở mỗi khay là như nhau. Biết tổng số ốc vít là 800 cái



a. Số ốc vít màu đen chiếm $\frac{\boxed{?}}{\boxed{?}}$ tổng số ốc vít của cửa hàng

b. Số ốc vít màu trắng là $\boxed{?}$ cái




3. Số?

Một cửa hàng kim khí có 8 khay đựng ốc vít theo từng loại màu trắng, vàng, đen và số ốc vít ở mỗi khay là như nhau. Biết tổng số ốc vít là 800 cái

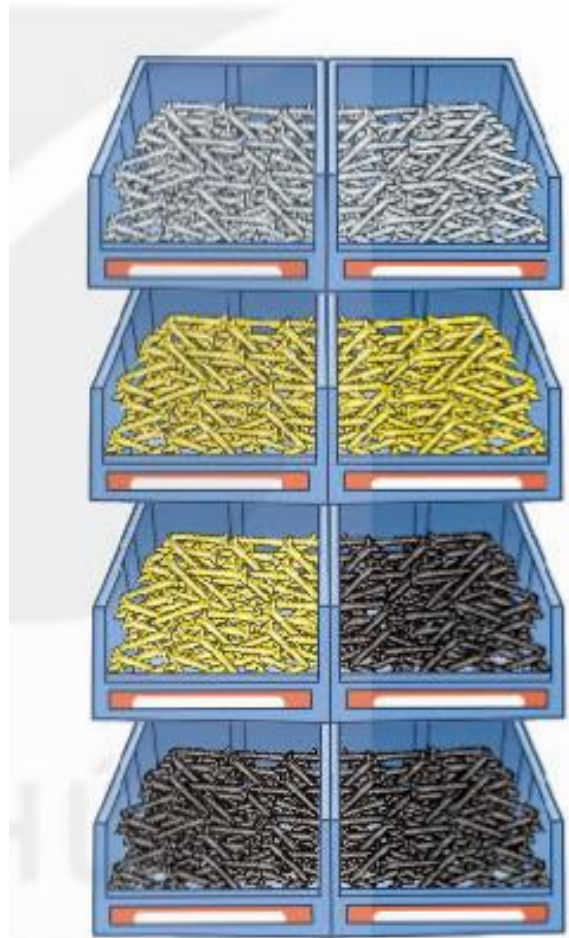


a. Số ốc vít màu đen chiếm $\frac{3}{8}$ tổng số ốc vít của cửa hàng



3. Số?


Một cửa hàng kim khí có 8 khay đựng ốc vít theo từng loại màu trắng, vàng, đen và số ốc vít ở mỗi khay là như nhau. Biết tổng số ốc vít là 800 cái



b. Số ốc vít màu trắng là **200** cái.


Số ốc vít màu trắng chiếm $\frac{2}{8}$ tổng số vít trong cửa hàng.

$$800 \times \frac{2}{8} = 200$$



4. Ai đã nói sai?

Ban đầu, một cái bánh chưng được cắt ra thành các miếng như hình bên. Tí và Tèo đã lấy ra một số miếng rồi nói chuyện với nhau. Tí nói “Tèo đã lấy $\frac{1}{5}$ số miếng bánh chưng.”. Tèo nói: “Tí đã lấy $\frac{1}{4}$ số miếng bánh chưng.” Biết chỉ có một trong hai bạn Tèo, Tí đã nói sai. Hỏi ai đã nói sai?



4. Ai đã nói sai?

Tí nói “Tèo đã lấy $\frac{1}{5}$ số miếng bánh chưng.”

Số bánh chưng Tèo đã lấy là: $8 \times \frac{1}{5} = \frac{8}{5}$

Tèo nói: “Tí đã lấy $\frac{1}{4}$ số miếng bánh chưng.”

Số bánh chưng Tí đã lấy là: $8 \times \frac{1}{4} = 2$ (miếng)



Tí đã nói sai





KẾT NỐI TRI THỨC
VỚI CUỘC SỐNG

CẢM ƠN CÁC EM





MĂNG NON - TÀI LIỆU TIỂU HỌC

Chuyên

Soạn bài giảng điện tử Tiểu học

**GIÁ CỰC
ƯU ĐÃI**

Đặt trước bài giảng lớp 5



KẾT NỐI TRI THỨC
VỚI CUỘC SỐNG

**BỘ KẾT NỐI TRI THỨC
CHÂN TRỜI SÁNG TẠO**



Chân trời sáng tạo

MỜI LIÊN HỆ:

Facebook: Măng Non - Tài liệu Tiểu học

Zalo: 0382348780 - 0984848929

Quét mã QR:

