



# MĂNG NON - TÀI LIỆU TIỂU HỌC

Chuyên

Soạn bài giảng điện tử Tiểu học

GIÁ CỰC  
ƯU ĐÃI

Đặt trước bài giảng lớp 5



KẾT NỐI TRI THỨC  
VỚI CUỘC SỐNG

**BỘ KẾT NỐI TRI THỨC**  
**CHÂN TRỜI SÁNG TẠO**



Chân trời sáng tạo

MỜI LIÊN HỆ:

Facebook: Măng Non - Tài liệu Tiểu học

Zalo: 0382348780 - 0984848929

Quét mã QR:





KẾT NỐI TRI THỨC  
VỚI CUỘC SỐNG

Đón

# LUYỆN TẬP

(Trang 96)



# 7 KHỎI ĐỘNG





Ở đây có bán  
trà sữa





Câu 1: Tính

$$24 \times \frac{5}{6} = ?$$



15




20



12

16






# Câu 2: Tính

$$12 \times \frac{1}{3} = ?$$



4 

3



1

12





Câu 3: Tính  $16 \times \frac{3}{4} = ?$



8

9



12




6





Câu 4: Muốn tìm  $\frac{3}{4}$  của 12  
ta làm thế nào?



Muốn tìm  $\frac{3}{4}$  của 12,  
ta lấy 12 nhân với  $\frac{3}{4}$



# LUYỆN TẬP



# Bài 1

Trên dây điện có 20 con chim đang đậu. Trong đó,  $\frac{3}{5}$  số chim đang đậu là chim sẻ. Hỏi có bao nhiêu con chim sẻ đang đậu trên dây điện?

## Bài giải:

Số con chim sẻ đang đậu trên dây điện là:

$$20 \times \frac{3}{5} = 12 \text{ (con chim sẻ)}$$

Đáp số: 12 con chim sẻ



## Bài 2

Một chiếc tàu thủy cũ kể với ca nô. “Tôi đã làm việc tròn nửa thế kỉ. Trong quãng thời gian đó, tôi dành  $\frac{1}{2}$  thời gian để chở hàng trên Đại Tây Dương,  $\frac{2}{5}$  thời gian chở hàng trên Thái Bình Dương. Thời gian còn lại tôi chở hàng trên Ấn Độ Dương.

- Tàu thủy chở hàng  năm trên Đại Tây Dương.
- Tàu thủy chở hàng  năm trên Thái Bình Dương.
- Tàu thủy chở hàng  năm trên Ấn Độ Dương.



LÀM VIỆC  
THEO NHÓM

## Bài giải:

Một thế kỉ là **100** năm. Nửa thế kỉ là **50** năm.

Tàu thuỷ chở hàng số năm trên Đại Tây Dương là:

$$50 \times \frac{1}{2} = 25 \text{ (năm)}$$

Tàu thuỷ chở hàng số năm trên Thái Bình Dương là:

$$50 \times \frac{2}{5} = 20 \text{ (năm)}$$

Tàu thuỷ chở hàng số năm trên Ấn Độ Dương là:

$$50 - 25 - 20 = 5 \text{ (năm)}$$



Một con báo săn chạy 198 m hết  $\frac{1}{10}$  phút. Hỏi trung bình mỗi giây con báo săn đó chạy được bao nhiêu mét?

### Bài 3

#### Bài giải:

Đổi  $\frac{1}{10}$  phút = 6 giây

Trung bình mỗi giây con báo săn đó chạy được số m là:

$$198 : 6 = 33 \text{ (m)}$$

Đáp số: 33 m

LÀM VIỆC  
CÁ NHÂN

## Bài 4

Chào mào có 16 quả hồng. Chào mào ăn hết một nửa của một nửa số quả hồng đó. Chào mào đã ăn hết **?** quả hồng.

Phân số chỉ một nửa là  $\frac{1}{2}$

Phân số chỉ một nửa của một nửa là  $\frac{1}{4}$

Vậy chào mào đã ăn hết  $16 \times \frac{1}{4} = 4$  quả hồng.



LÀM VIỆC  
THEO NHÓM

# CHÚC CÁC EM HỌC TỐT!





**MĂNG NON - TÀI LIỆU TIỂU HỌC**

*Chuyên*

**SOẠN BÀI GIẢNG ĐIỆN TỬ**

**LỚP 2, 3, 4**

**BỘ KẾT NỐI TRI THỨC VÀ  
CHÂN TRỜI SÁNG TẠO**

*Soạn bài giảng yêu cầu, dự giờ,  
thao giảng dựa theo chương trình GDPT 2018*

Mời truy cập:

**Facebook: MĂNG NON - TÀI LIỆU TIỂU HỌC**

**Zalo: 0382348780 - 0984848929**

Quét mã QR:

