



MĂNG NON - TÀI LIỆU TIỂU HỌC

Chuyên

Soạn bài giảng điện tử Tiểu học

**GIÁ CỰC
ƯU ĐÃI**

Đặt trước bài giảng lớp 5



KẾT NỐI TRI THỨC
VỚI CUỘC SỐNG

**BỘ KẾT NỐI TRI THỨC
CHÂN TRỜI SÁNG TẠO**



Chân trời sáng tạo

MỜI LIÊN HỆ:

Facebook: Măng Non - Tài liệu Tiểu học

Zalo: 0382348780 - 0984848929

Quét mã QR:



TOÁN 4



KẾT NỐI TRI THỨC
VỚI CUỘC SỐNG

LUYỆN TẬP

Trang 90



START

01



Chinh phục đại dương

03



05



Bài 1

Tính rồi rút gọn

$$\text{a) } \frac{5}{11} \times \frac{11}{6} = \frac{55}{66} = \frac{5}{6}$$

$$\text{b) } 7 \times \frac{6}{21} = \frac{7 \times 6}{21} = \frac{42}{21} = 2$$

Muốn nhân hai phân số, ta làm gì?





START

01

02

03

04

05

Bài 2

Tính bằng cách thuận tiện nhất

$$\text{a) } \frac{3}{5} \times \frac{17}{21} + \frac{2}{5} \times \frac{17}{21}$$

$$= \frac{17}{21} \times \left(\frac{3}{5} + \frac{2}{5} \right)$$

$$= \frac{17}{21} \times \frac{5}{5}$$

$$= \frac{17}{21} \times 1 = \frac{17}{21}$$

$$\text{b) } \frac{11}{19} \times \frac{2}{7} + \frac{5}{7} \times \frac{11}{19}$$

$$= \frac{11}{19} \times \left(\frac{2}{7} + \frac{5}{7} \right)$$

$$= \frac{11}{19} \times \frac{7}{7}$$

$$= \frac{11}{19} \times 1 = \frac{11}{19}$$





START

01



03



04



05

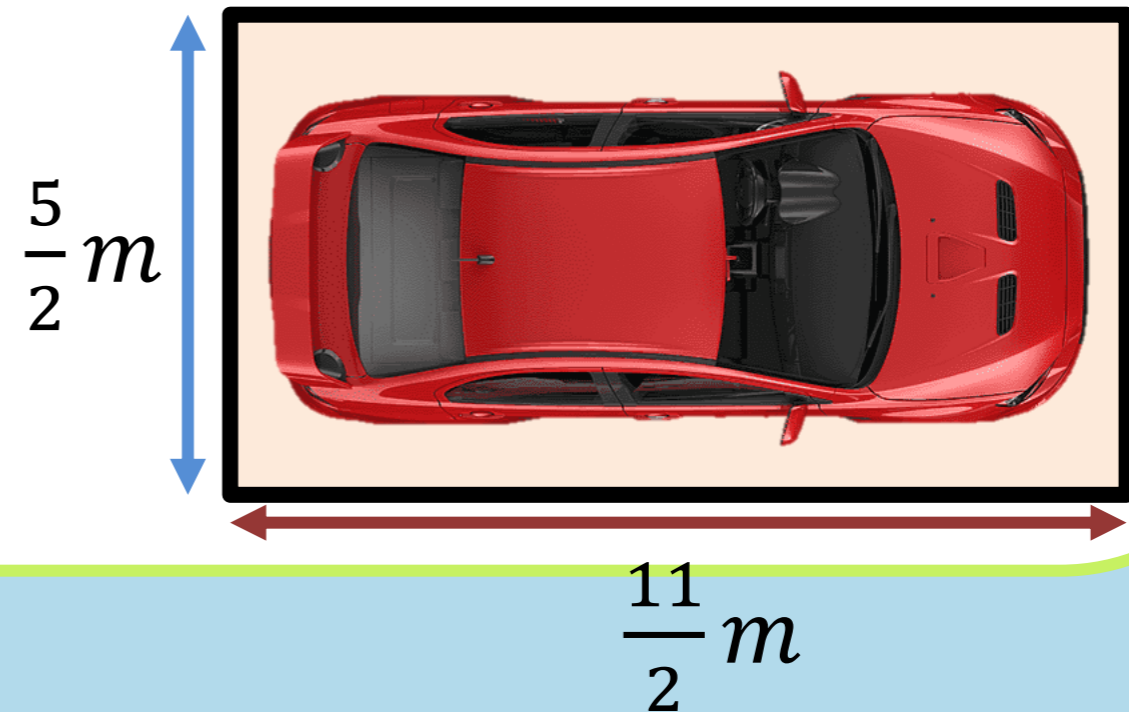


Bài 3

Tìm phân số thích hợp

Một ô đỗ xe ô tô có dạng hình chữ nhật với chiều dài $\frac{11}{2} m$ và chiều rộng $\frac{5}{2} m$.

- Diện tích mỗi ô đỗ xe đó là ..?.. m^2
- Tổng diện tích của 3 ô đỗ xe đó là: ..?.. m^2



Bài 3

Tìm phân số thích hợp

Một ô đỗ xe ô tô có dạng hình chữ nhật với chiều dài $\frac{11}{2} m$ và chiều rộng $\frac{5}{2} m$.

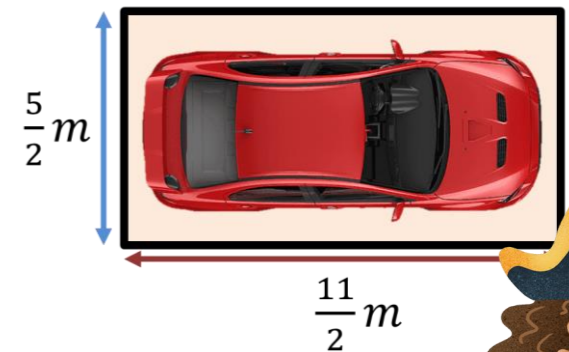
a) Diện tích mỗi ô đỗ xe đó là $\frac{55}{4} m^2$

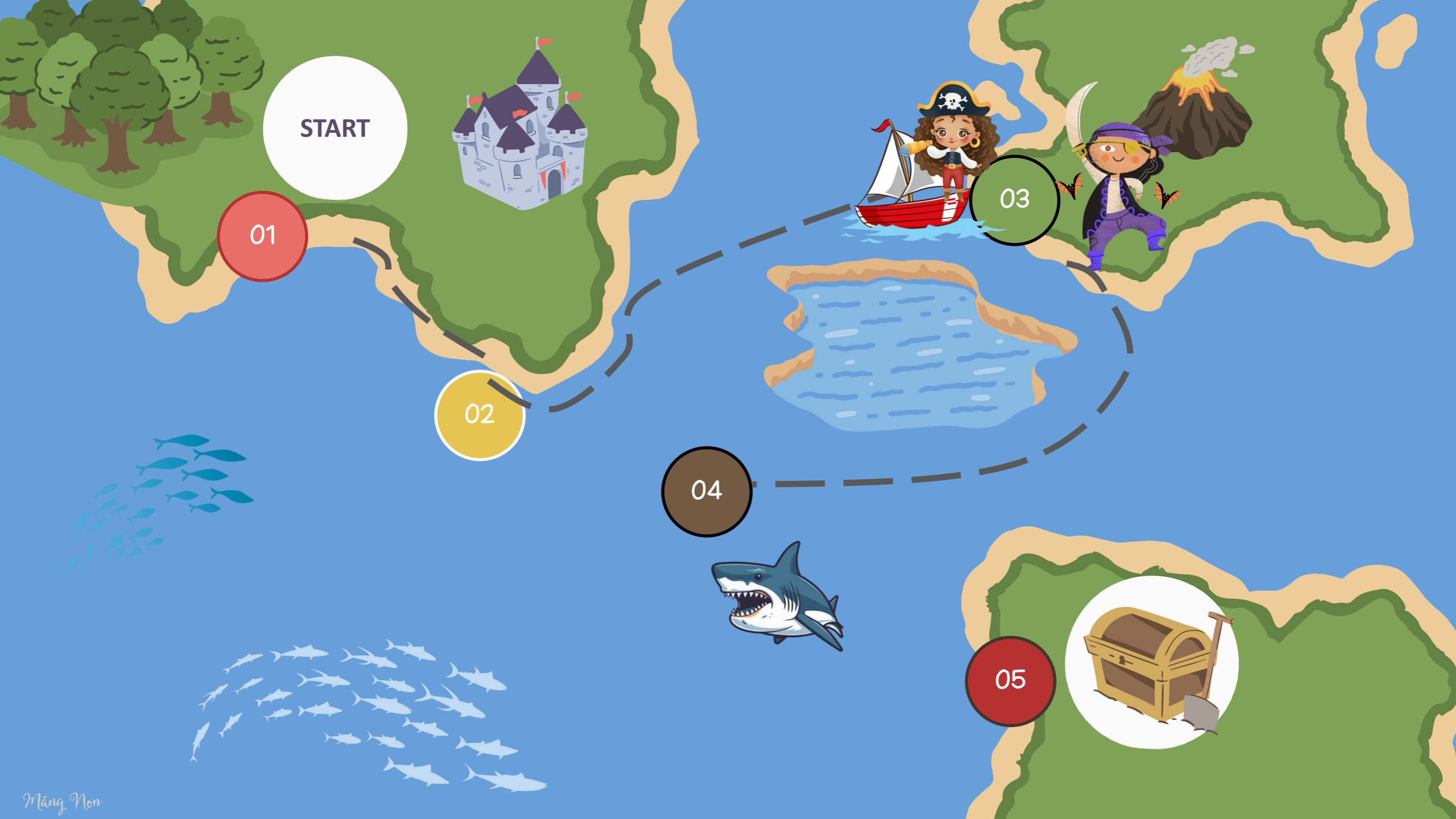
b) Tổng diện tích của 3 ô đỗ xe đó là: $\frac{165}{4} m^2$

a) Diện tích mỗi ô đỗ xe đó là: $\frac{11}{2} \times \frac{5}{2} = \frac{55}{4} m^2$

b) Tổng diện tích của 3 ô đỗ xe đó là:

$$\frac{55}{4} \times 3 = \frac{165}{4} m^2$$





START

01

02

03

04

05

Bài 4

Trong bữa tiệc, nhà vua chia bánh cho 8 hiệp sĩ. Mỗi hiệp sĩ được chia nửa cái bánh pi-da bò và $\frac{1}{8}$ cái bánh pi-da gà. Hỏi 8 hiệp sĩ được chia tất cả bao nhiêu cái bánh?



Bài 4

Bài giải:

Mỗi hiệp sĩ nhận được số cái bánh là:

$$\frac{1}{2} + \frac{1}{8} = \frac{5}{8} \text{ (cái bánh)}$$

8 hiệp sĩ nhận được số cái bánh là:

$$\frac{5}{8} \times 8 = 5 \text{ (cái bánh)}$$

Đáp số: **5 cái bánh**



Bài 4

Trong bữa tiệc, nhà vua chia bánh cho 8 hiệp sĩ. Mỗi hiệp sĩ được chia nửa cái bánh pi-da bò và $\frac{1}{8}$ cái bánh pi-da gà. Hỏi 8 hiệp sĩ được chia tất cả bao nhiêu cái bánh?

Bài giải:

8 hiệp sĩ được chia tất cả số cái bánh là:

$$\frac{1}{2} \times 8 + \frac{1}{8} \times 8 = 5 \text{ (cái bánh)}$$

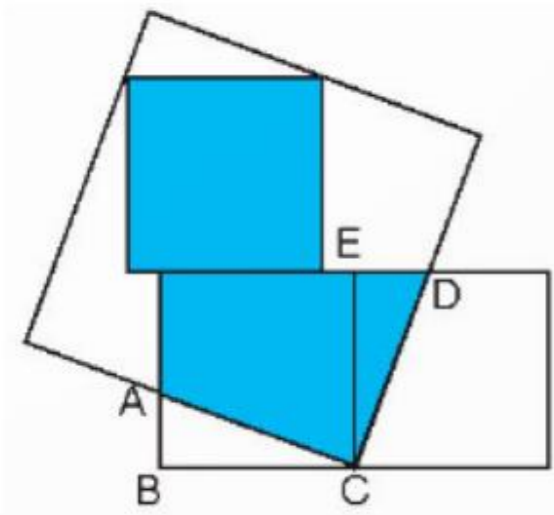
Đáp số: **5 cái bánh**





Bài 5

Nhà vua đồ trạng Hiền tính được diện tích phần màu xanh trong hình bên. Biết diện tích hình tam giác ABC bằng diện tích hình tam giác CDE và độ dài cạnh mỗi hình vuông nhỏ là $\frac{8}{5} dm$. Diện tích phần màu xanh là ..?.. dm^2 Diện tích hình vuông màu xanh là:



$$\frac{8}{5} \times \frac{8}{5} = \frac{64}{25} (dm^2)$$

Vì diện tích phần màu xanh bằng 2 lần diện tích của hình vuông màu xanh. Khi đó, diện tích phần màu xanh là:

$$\frac{64}{25} \times 2 = \frac{128}{25} (dm^2)$$

Đáp số: $\frac{128}{25} dm^2$





START

01

02

03

04

05



CẢM ƠN CÁC BẠN
HẸN GẶP LẠI CÁC BẠN NHÉ!



MĂNG NON - TÀI LIỆU TIỂU HỌC

Chuyên

SOẠN BÀI GIẢNG ĐIỆN TỬ

LỚP 2, 3, 4

**BỘ KẾT NỐI TRI THỨC VÀ
CHÂN TRỜI SÁNG TẠO**

*Soạn bài giảng yêu cầu, dự giờ,
thao giảng dựa theo chương trình GDPT 2018*

Mời truy cập:

Facebook: MĂNG NON - TÀI LIỆU TIỂU HỌC

Zalo: 0382348780 - 0984848929

Quét mã QR:

