


# WYÊN TẬP

Trang 79



KẾT NỐI TRI THỨC  
VỚI CUỘC SỐNG



# KHỞI ĐỘNG



# Khi con qua cầu



Muốn cộng hai phân số khác mẫu số ta  
lấy tử cộng với tử, mẫu cộng với mẫu.

*Đúng hay sai? Nếu sai hãy sửa lại*



**A**

**Đúng**

**B**

**Sai**



Tính:  $\frac{5}{10} + \frac{3}{5}$



$\frac{8}{15}$



10



5

$\frac{11}{10}$



$\frac{4}{7}$



$\frac{11}{20}$



Tính:  $\frac{1}{3} + \frac{6}{4}$



$$\frac{7}{12}$$



$$2$$



$$\frac{6}{12}$$



$$\frac{11}{6}$$



# Khi con qua cầu



LUYỆN  
TẬP




## Bài 1 Tính

a  $\frac{3}{11} + \frac{14}{11}$

b  $\frac{1}{16} + \frac{3}{4}$

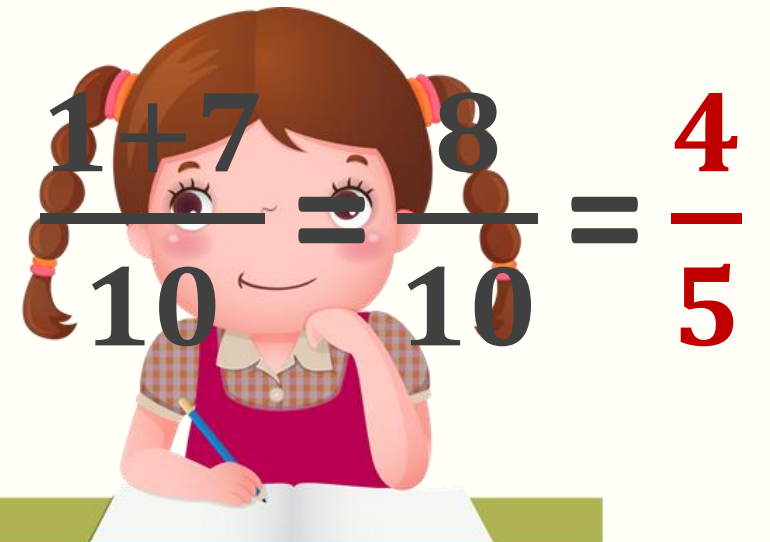
c  $\frac{2}{20} + \frac{7}{10}$



a  $\frac{3}{11} + \frac{14}{11} = \frac{3+14}{11} = \frac{17}{11}$

b  $\frac{1}{16} + \frac{3}{4} = \frac{1}{16} + \frac{12}{16} = \frac{1+12}{16} = \frac{13}{16}$

c  $\frac{2}{20} + \frac{7}{10} = \frac{1}{10} + \frac{7}{10} = \frac{1+7}{10} = \frac{8}{10} = \frac{4}{5}$



Làm bài cá nhân

## Bài 2 - So sánh giá trị các biểu thức dưới đây.



LÀM VIỆC  
THEO NHÓM



$$\left(\frac{2}{9} + \frac{5}{9}\right) + \frac{1}{9}$$

?

$$\frac{2}{9} + \left(\frac{5}{9} + \frac{1}{9}\right)$$

?

$$\frac{2}{9} + \frac{5}{9} + \frac{1}{9}$$

$$\left(\frac{2}{9} + \frac{5}{9}\right) + \frac{1}{9} = \frac{7}{9} + \frac{1}{9} = \frac{8}{9}$$

$$\frac{2}{9} + \left(\frac{5}{9} + \frac{1}{9}\right) = \frac{2}{9} + \frac{6}{9} = \frac{8}{9}$$

$$\frac{2}{9} + \frac{5}{9} + \frac{1}{9} = \frac{2+5+1}{9} = \frac{8}{9}$$



$$\begin{aligned} &\left(\frac{2}{9} + \frac{5}{9}\right) + \frac{1}{9} \\ &= \frac{2}{9} + \left(\frac{5}{9} + \frac{1}{9}\right) \\ &= \frac{2}{9} + \frac{5}{9} + \frac{1}{9} \end{aligned}$$

### Bài 3 Tính bằng cách thuận tiện nhất.



$$\text{a) } \frac{16}{15} + \frac{7}{15} + \frac{4}{15}$$

$$= \left( \frac{16}{15} + \frac{4}{15} \right) + \frac{7}{15}$$

$$= \frac{20}{15} + \frac{7}{15}$$

$$= \frac{27}{15} = \frac{9}{5}$$


$$\text{b) } \frac{5}{17} + \frac{7}{17} + \frac{13}{17}$$

$$= \frac{5}{17} + \left( \frac{7}{17} + \frac{13}{17} \right)$$

$$= \frac{5}{17} + \frac{20}{17}$$

$$= \frac{25}{17}$$

## Bài 1<sub>p</sub>



Việt dùng  $\frac{1}{2}$  số tiền của mình để mua một quyển vở. Sau đó, bạn ấy dùng thêm  $\frac{1}{6}$  số tiền của mình để mua bút. Hỏi Việt đã dùng bao nhiêu phần số tiền của mình để mua vở và bút?

### Tóm tắt

**Vở:**  $\frac{1}{2}$  số tiền

**Bút:**  $\frac{1}{6}$  số tiền

**Hỏi** Việt đã dùng .?.  
phần số tiền

### Bài giải:

Việt đã dùng số phần số tiền của mình để mua vở và bút là:

$$\frac{1}{2} + \frac{1}{6} = \frac{2}{3} \text{ (phần số tiền)}$$

Đáp số:  $\frac{2}{3}$  phần số tiền

## Bài 5



Các bạn đang pha nước cam cho buổi liên hoan. Mai pha được  $\frac{1}{4} l$ , Việt pha được  $\frac{5}{6} l$ , còn Nam pha được  $\frac{11}{12} l$ . Tính số lít nước cam cả ba bạn pha được.

### Bài giải:

Cả ba bạn pha được số lít nước cam là:

$$\frac{1}{4} + \frac{5}{6} + \frac{11}{12} = \frac{3}{12} + \frac{10}{12} + \frac{11}{12} = \frac{3 + 10 + 11}{12} = \frac{24}{12} = 2 \text{ (l)}$$

Đáp số: 2 l nước cam.



**TẠM**  
**BIẾT**

