

MẶT TRỜI

TRÁI ĐẤT

MẶT TRĂNG

Tự nhiên và xã hội 3

KHƠI ĐỘNG



**Em thường nhìn thấy Mặt Trời, Mặt Trăng
khi nào? Nói những điều em biết về Mặt
Trời, Mặt Trăng.**



MẶT TRỜI

TRÁI ĐẤT

MẶT TRĂNG

Tự nhiên và xã hội 3

A vibrant, cartoon-style illustration of outer space. The background is a deep blue, filled with white stars of various sizes and colors. Several planets are depicted: a large Jupiter-like planet with orange and white bands in the top left; a blue and white striped planet with a white ring in the top right; a smaller blue and white striped planet in the middle left; and a pink and blue planet with a white ring in the bottom center. A yellow and orange rocket with red flames is flying towards the right in the bottom right. An astronaut in a white and orange suit is floating on the left side. The text 'KHÁM' is written in large, bold, dark blue letters with a white outline, positioned above a thick yellow horizontal bar. Below the bar, the word 'PIHÁ' is written in the same style. The overall scene is bright and cheerful, representing a space exploration theme.

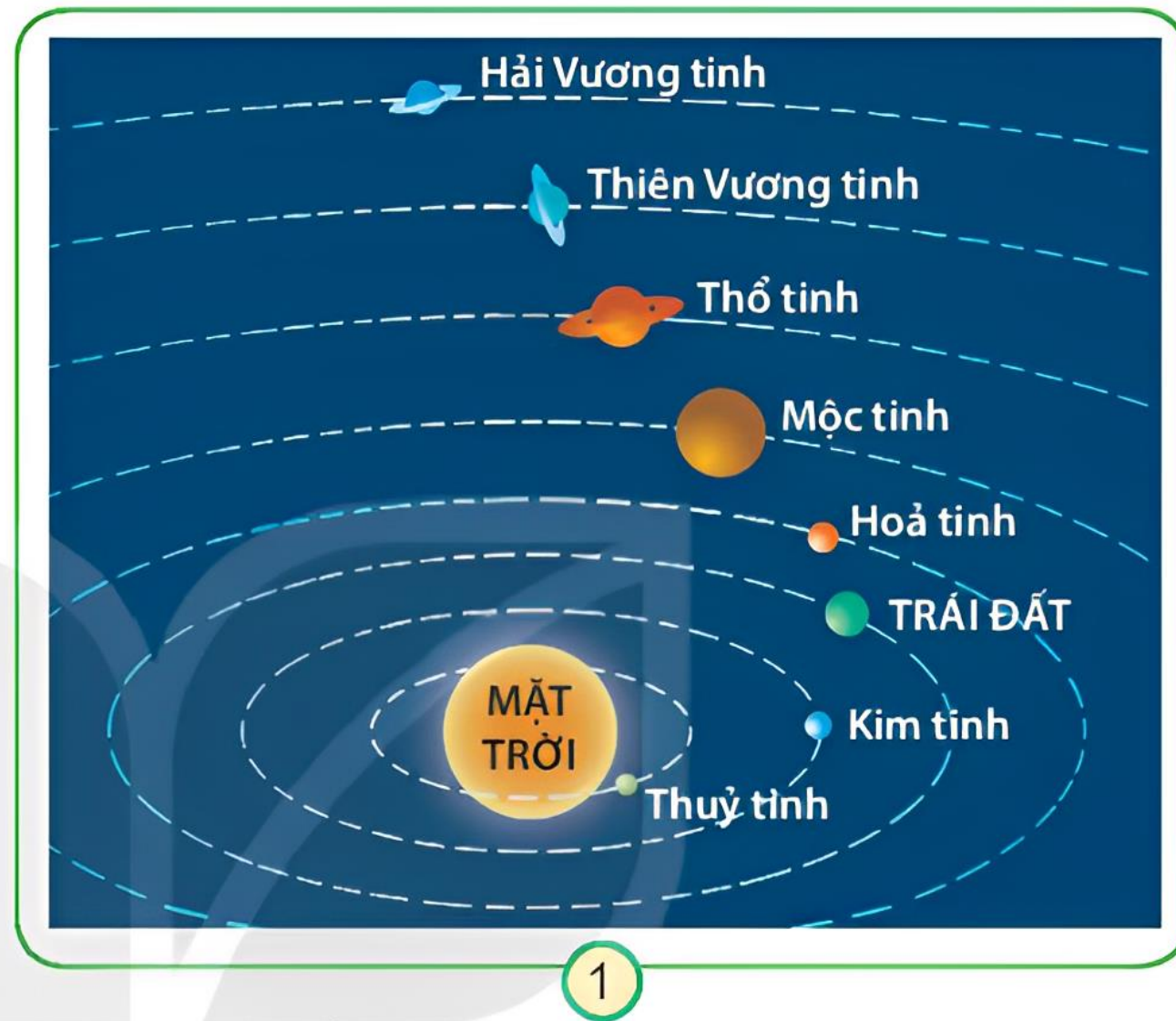
KHÁM

PIHÁ

1

Quan sát hình 1

- Chỉ vị trí của Mặt Trời và Trái Đất
- Hệ Mặt Trời có **8** hành tinh?
- Từ Mặt Trời ra xa dần, Trái Đất là hành tinh thứ **3**

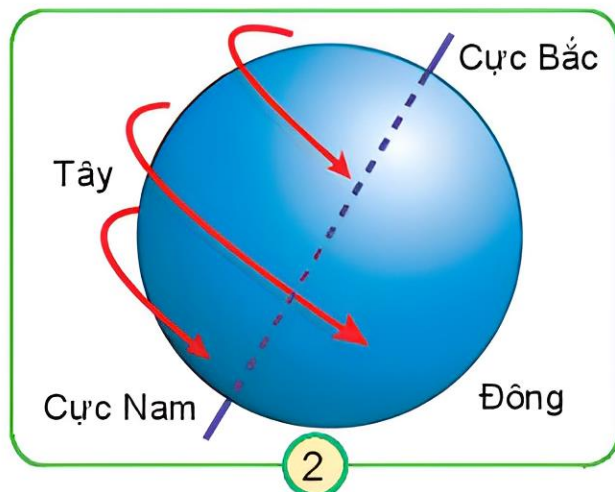


Sơ đồ các hành tinh trong hệ Mặt Trời

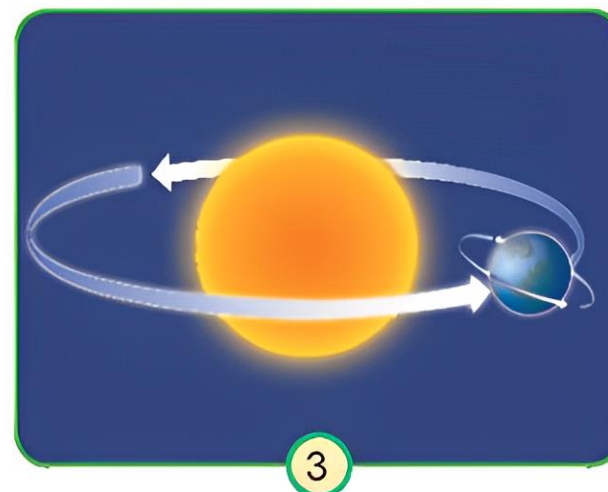
2

Quan sát hình 2 và hình 3

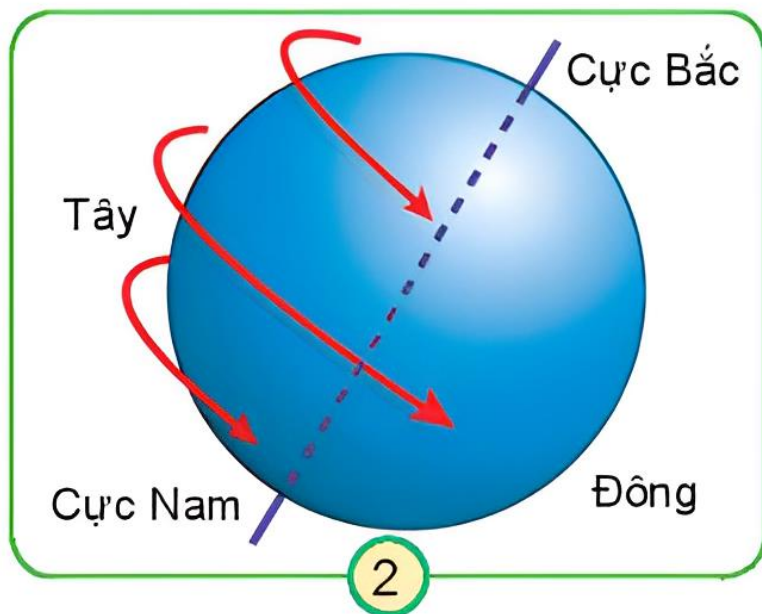
- Chỉ, nói chiều chuyển động của Trái Đất quanh mình nó và quanh Mặt Trời.
- Nếu nhìn từ cực Bắc xuống, Trái Đất quay cùng chiều hay ngược chiều kim đồng hồ?
- Trái Đất chuyển động quanh Mặt Trời theo chiều nào?



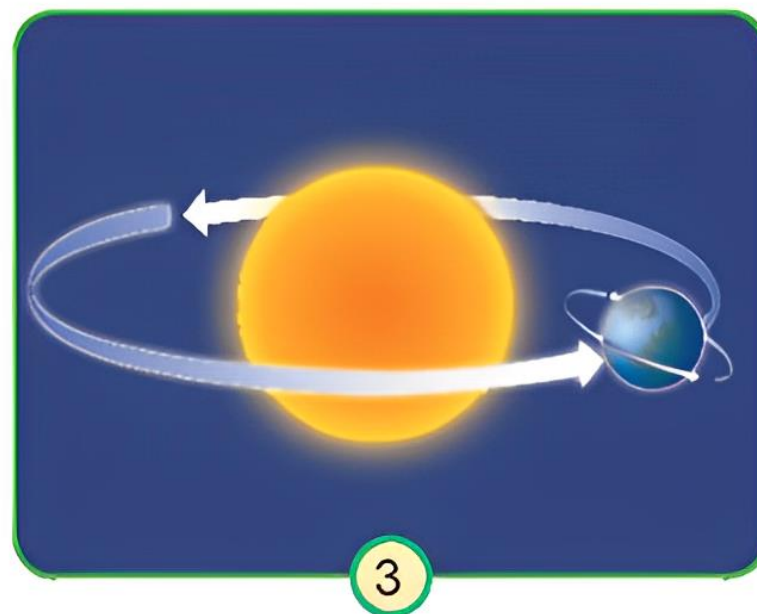
Sơ đồ Trái Đất chuyển động quanh mình nó



Sơ đồ Trái Đất chuyển động quanh mình nó và quanh Mặt Trời




Sơ đồ Trái Đất chuyển động quanh mình nó

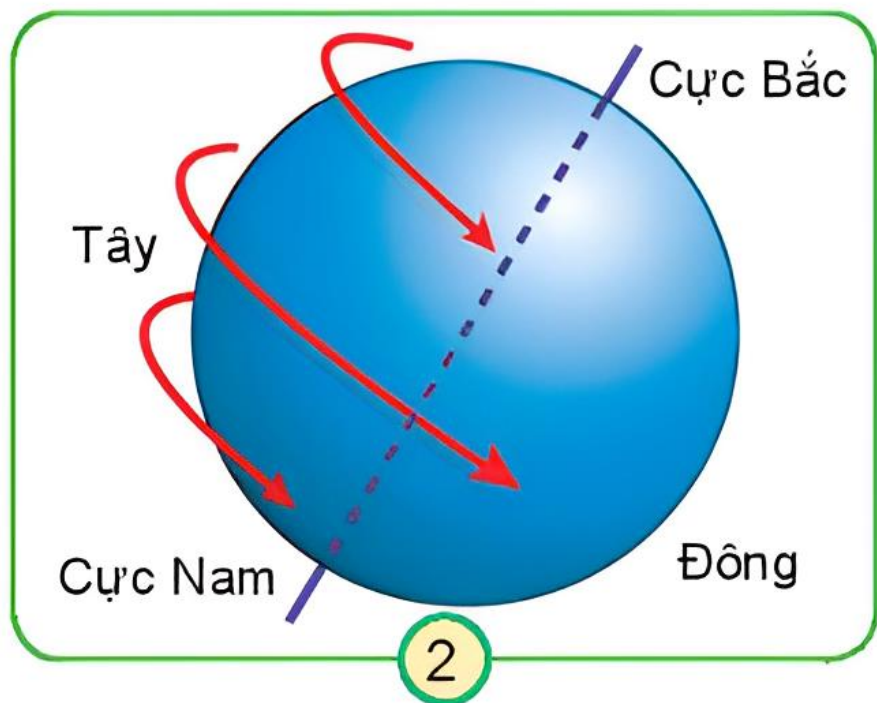


Sơ đồ Trái Đất chuyển động quanh mình nó và quanh Mặt Trời

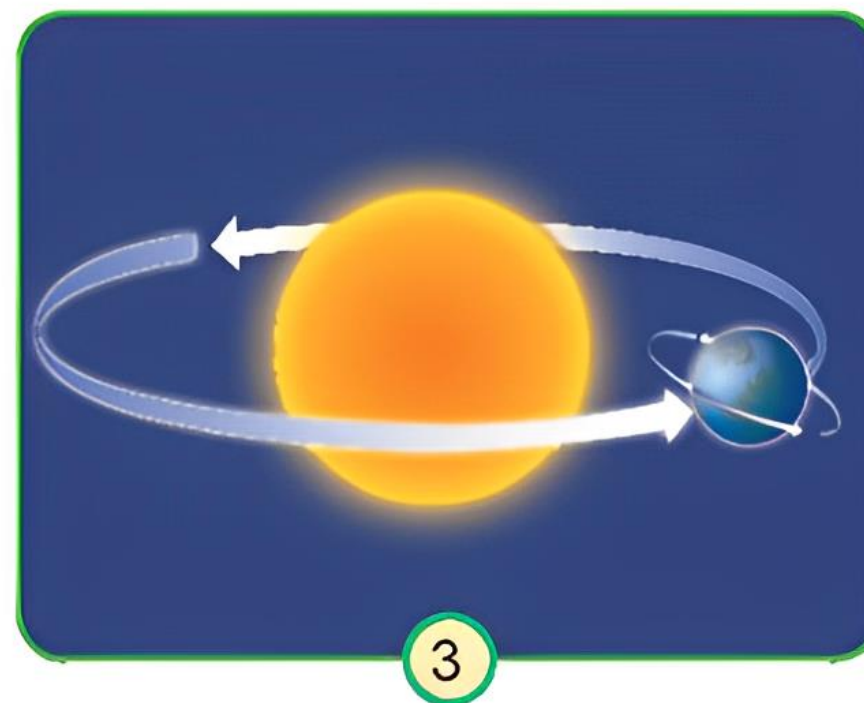
Thảo luận nhóm



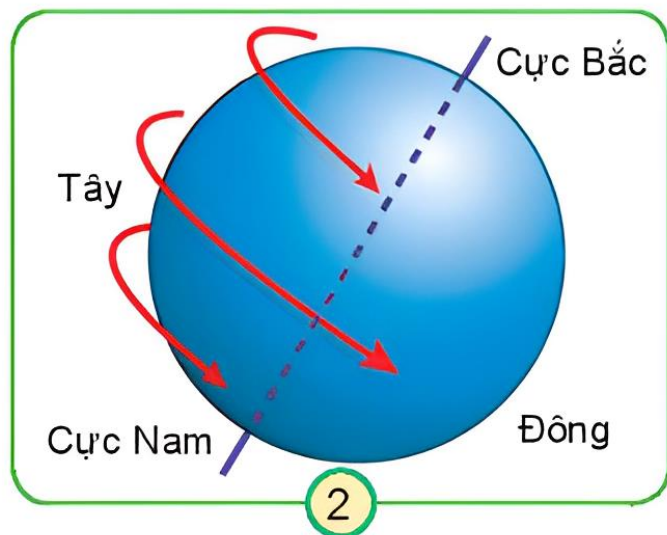
Chỉ và nói chuyển động của Trái Đất quanh mình nó và quanh Mặt Trời.



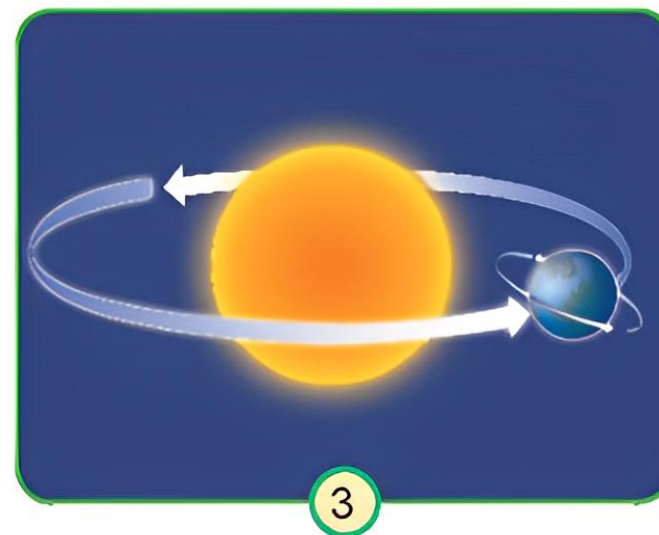
Sơ đồ Trái Đất chuyển động quanh mình nó



Sơ đồ Trái Đất chuyển động quanh mình nó
và quanh Mặt Trời

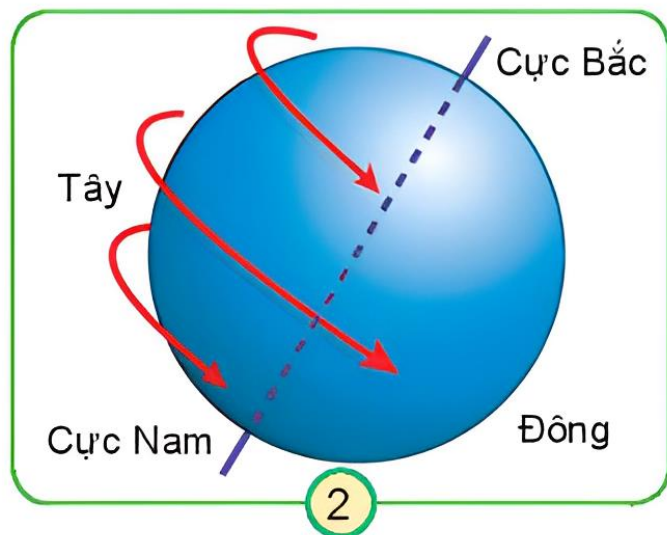


Sơ đồ Trái Đất chuyển động quanh mình nó

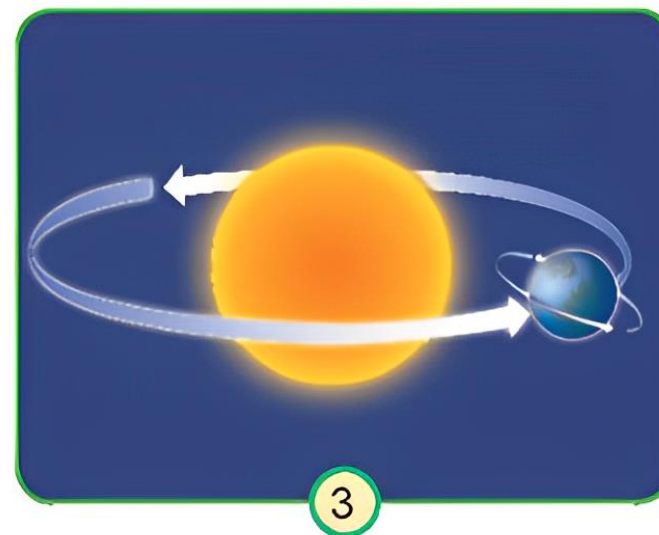


Sơ đồ Trái Đất chuyển động quanh mình nó và quanh Mặt Trời

Trái Đất chuyển động quanh mình nó theo chiều từ tây sang đông.

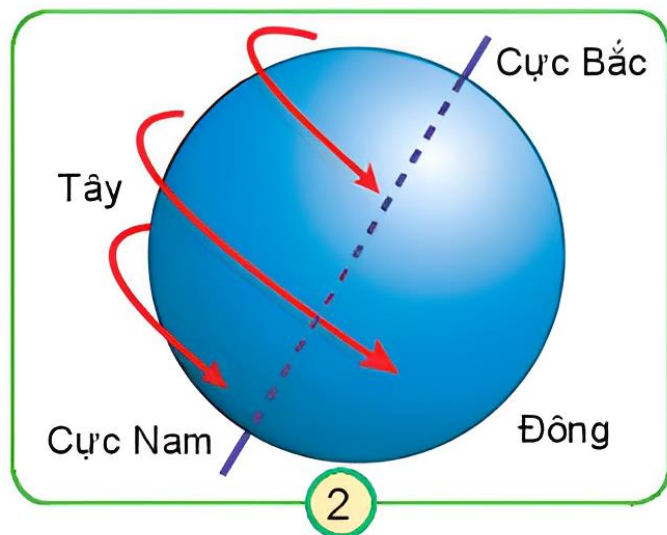


Sơ đồ Trái Đất chuyển động quanh mình nó

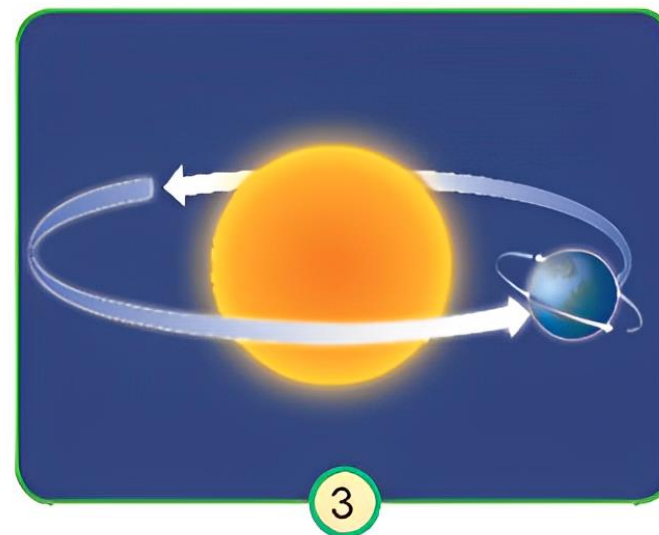


Sơ đồ Trái Đất chuyển động quanh mình nó
và quanh Mặt Trời

Nếu nhìn từ cực Bắc xuống, Trái Đất chuyển động ngược chiều kim đồng hồ.



Sơ đồ Trái Đất chuyển động quanh mình nó



Sơ đồ Trái Đất chuyển động quanh mình nó
và quanh Mặt Trời

**Trái Đất chuyển động quanh Mặt Trời theo
chiều từ tây sang đông.**

suquan.tv

SỬ QUÁN TV

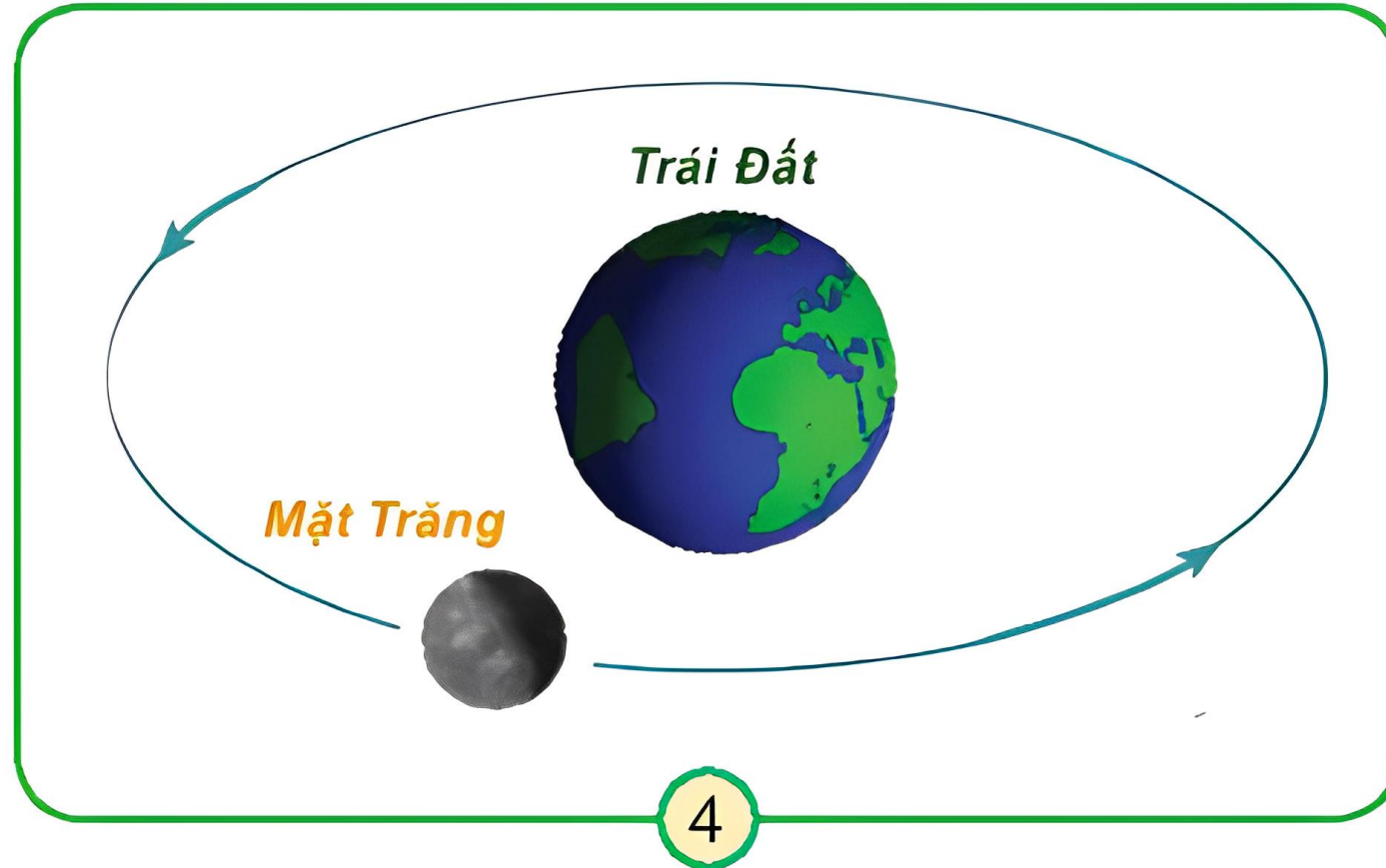


SUBSCRIBE

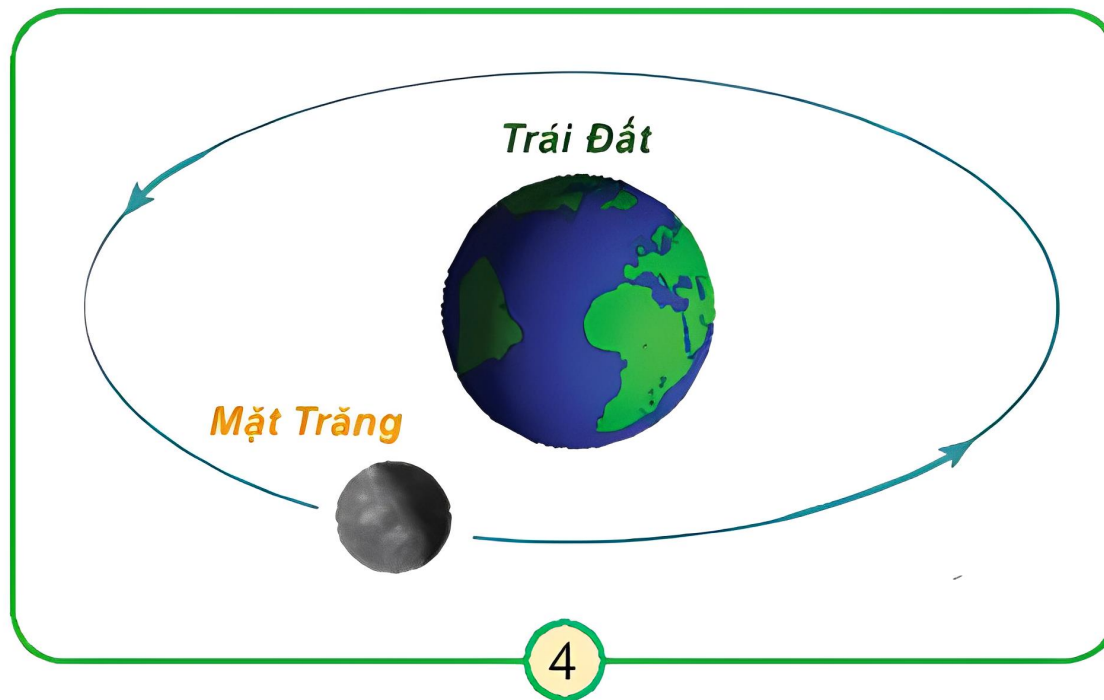


3

Chỉ và nói chiều chuyển động của Mặt Trăng quanh Trái Đất trên hình 4.



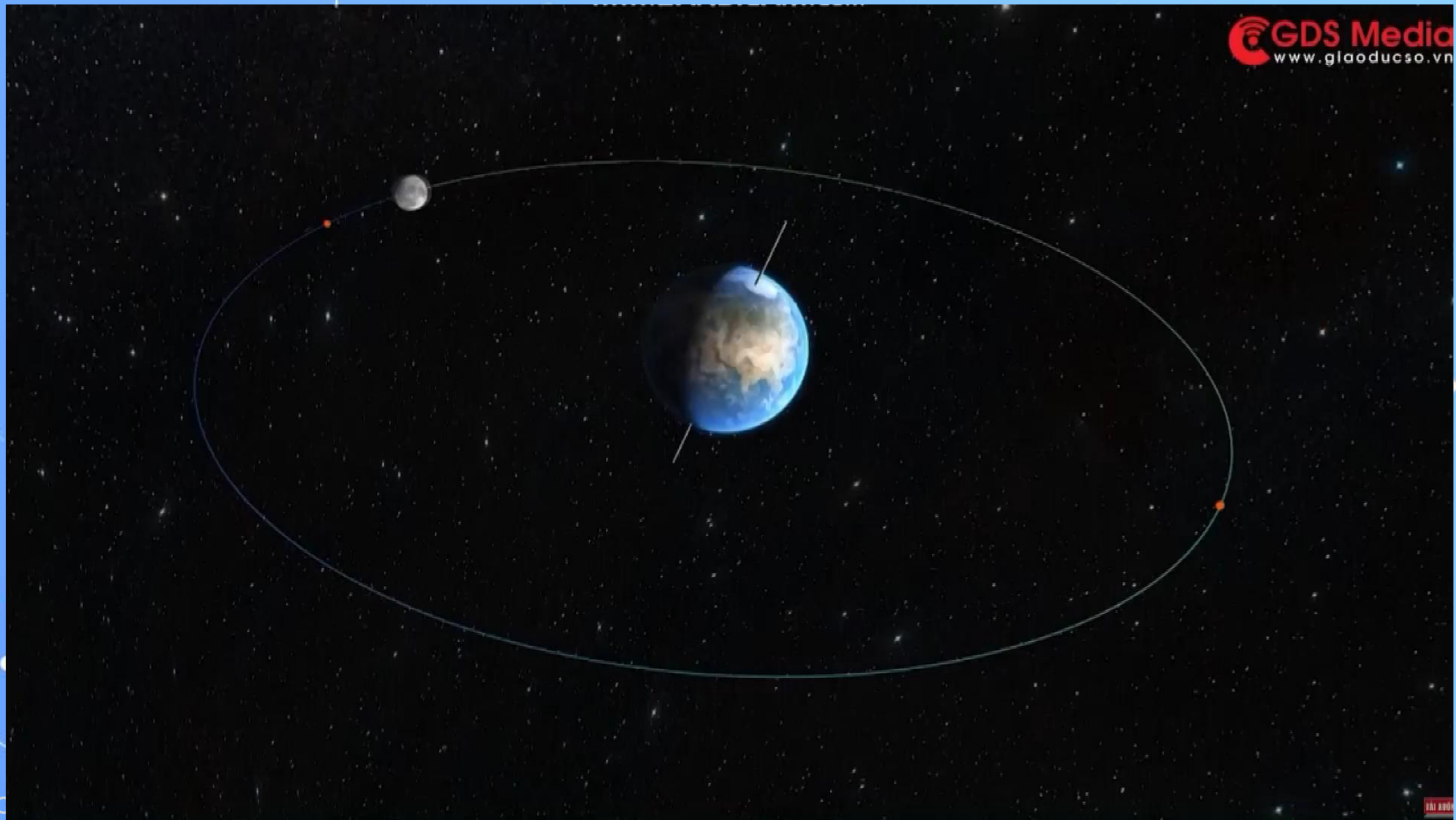
Sơ đồ Mặt Trăng chuyển động quanh Trái Đất



Sơ đồ Mặt Trăng chuyển động quanh Trái Đất

Mặt Trăng quay quanh Trái Đất theo chiều từ tây sang đông. Nếu nhìn từ cực Bắc xuống, Mặt Trăng quay quanh Trái Đất ngược chiều kim đồng hồ.

<https://www.youtube.com/watch?v=afN5SdibwkE>




EM CÓ BIẾT?

Khi chuyển động
quanh Trái Đất, Mặt
Trăng luôn hướng một
mặt về Trái Đất.



✓ Vì sao Trái Đất được gọi là hành tinh trong hệ Mặt Trời?

Do Trái Đất chuyển động quanh Mặt Trời nên gọi là hành tinh (hành = chuyển động, tinh = sao).



✓ Vì sao Mặt Trăng được gọi là vệ tinh của Trái Đất?

Do Mặt Trăng chuyển động xung quanh Trái Đất nên gọi là vệ tinh



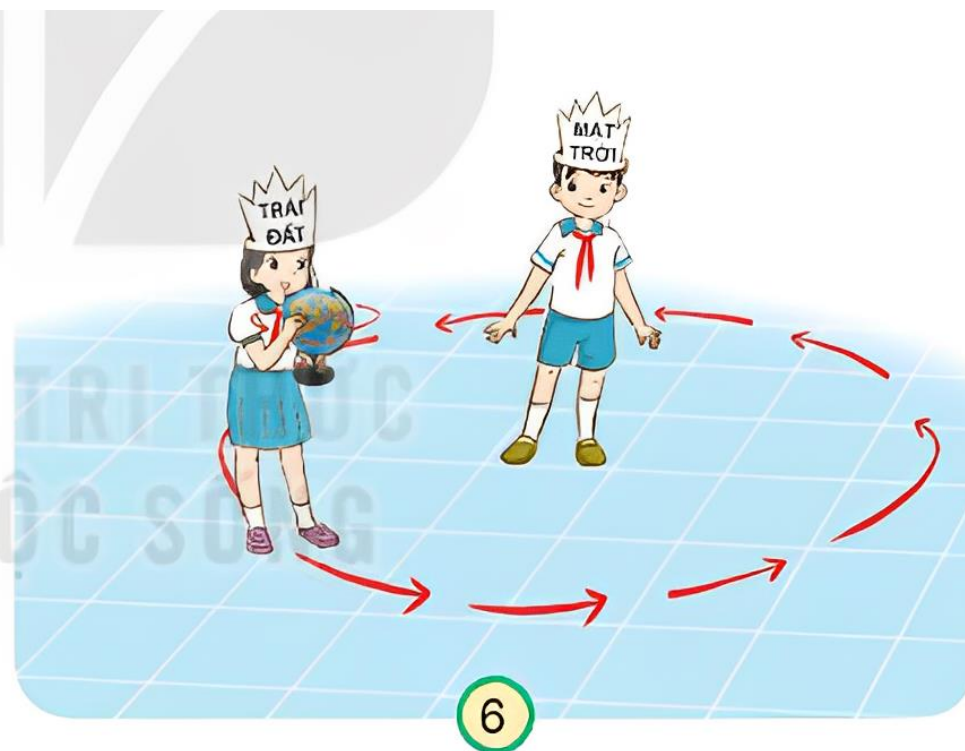
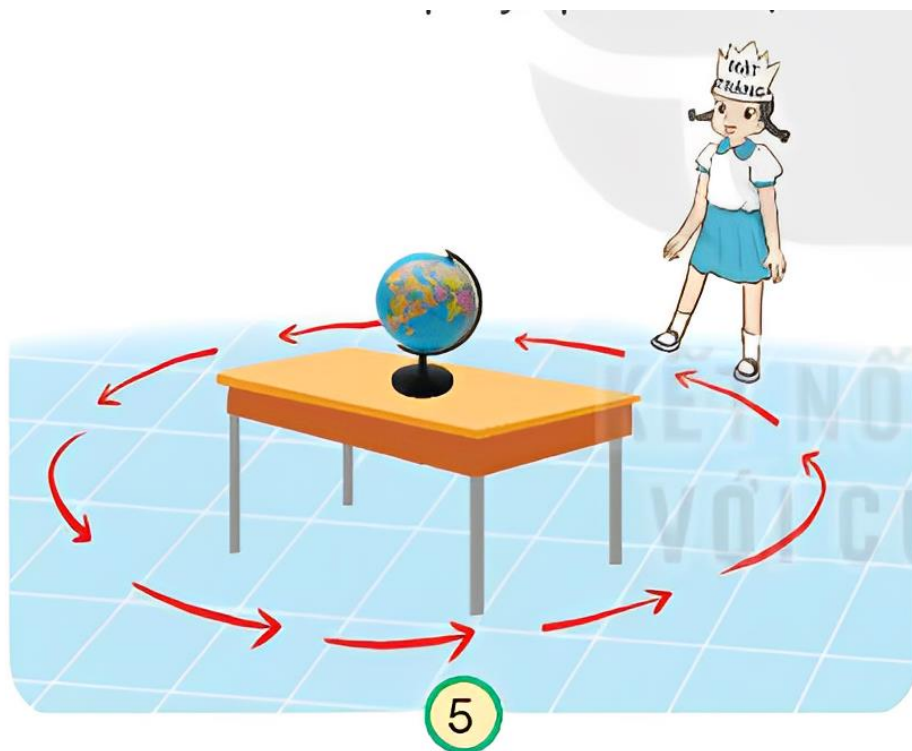
The background is a vibrant blue space scene. In the top left, there's a planet with orange and brown bands. In the top right, a large blue and white striped planet with a white ring system. In the middle left, a small blue and white striped planet. In the bottom left, a cartoon astronaut in a white and orange suit with arms raised. In the bottom center, a pink and blue planet with a white ring system. In the bottom right, a yellow and orange rocket with red flames. The text 'THỰC HÀNH' is centered in a bold, dark blue font with a white outline. A yellow horizontal bar is positioned behind the word 'THỰC'.

THỰC

HÀNH

Thực hành theo gợi ý trong hình 5 và hình 6:

- Mặt Trăng quay quanh Trái Đất.
- Trái Đất quay quanh Mặt Trời.





Trái Đất là một hành tinh trong hệ Mặt Trời. Từ Mặt Trời ra xa dần, Trái Đất là hành tinh thứ ba. Trái Đất chuyển động quanh mình nó, đồng thời chuyển động quanh Mặt Trời. Mặt Trăng chuyển động quanh Trái Đất. Mặt Trăng là vệ tinh của Trái Đất.

Trái Đất chuyển động quanh mình nó và quanh Mặt Trời theo hướng từ tây sang đông. Nếu nhìn từ cực Bắc xuống, Trái Đất quay ngược chiều kim đồng hồ.

HƯỚNG DẪN VỀ NHÀ



Quan sát Mặt Trăng xem hình dạng của Mặt Trăng như thế nào.

Chuẩn bị quả địa cầu, đèn pin, giấy nhớ (hoặc băng dính) cho tiết học sau.



CHÀO TẠM BIỆT

GIÁO ÁN ĐIỆN TỬ LỚP 4
GIÁO ÁN ĐIỆN TỬ LỚP 2 & LỚP 3
BỘ KẾT NỐI TRI THỨC

Soạn bài giảng yêu cầu các khối lớp
Thiết kế bài giảng E – Learning

MĂNG NON – TÀI LIỆU TIỂU HỌC

Mời truy cập: MĂNG NON- TÀI LIỆU TIỂU HỌC | Facebook

ZALO : 0382348780 - 0984848929

