

Tự nhiên và xã hội 3

BỀ MẶT TRÁI ĐẤT

(Tiết 1 + 2)





କ୍ଷତ୍ରୀ ବିଦ୍ୟାଳୟ



Hãy nói về quang cảnh
thiên nhiên nơi em sống.



Tự nhiên và xã hội 3

BỀ MẶT TRÁI ĐẤT

(Tiết 1)





คำศัพท์

1. Đọc thông tin và quan sát quả địa cầu, em hãy:

- Chỉ đại dương và lục địa.
- Nhận xét diện tích của hai phần này.

Bề mặt Trái Đất có các lục địa và đại dương. Trên quả địa cầu tự nhiên, màu xanh nước biển thể hiện đại dương; màu nâu đỏ và vàng thể hiện núi, đồi và cao nguyên; còn màu xanh lá cây thể hiện đồng bằng.





Đại dương chiếm phần lớn diện tích bề mặt Trái Đất. Lục địa là phần đất liền rộng lớn được bao bọc bởi đại dương.



2. Quan sát lược đồ hình 2, em hãy tìm và nói tên các châu lục, đại dương



2

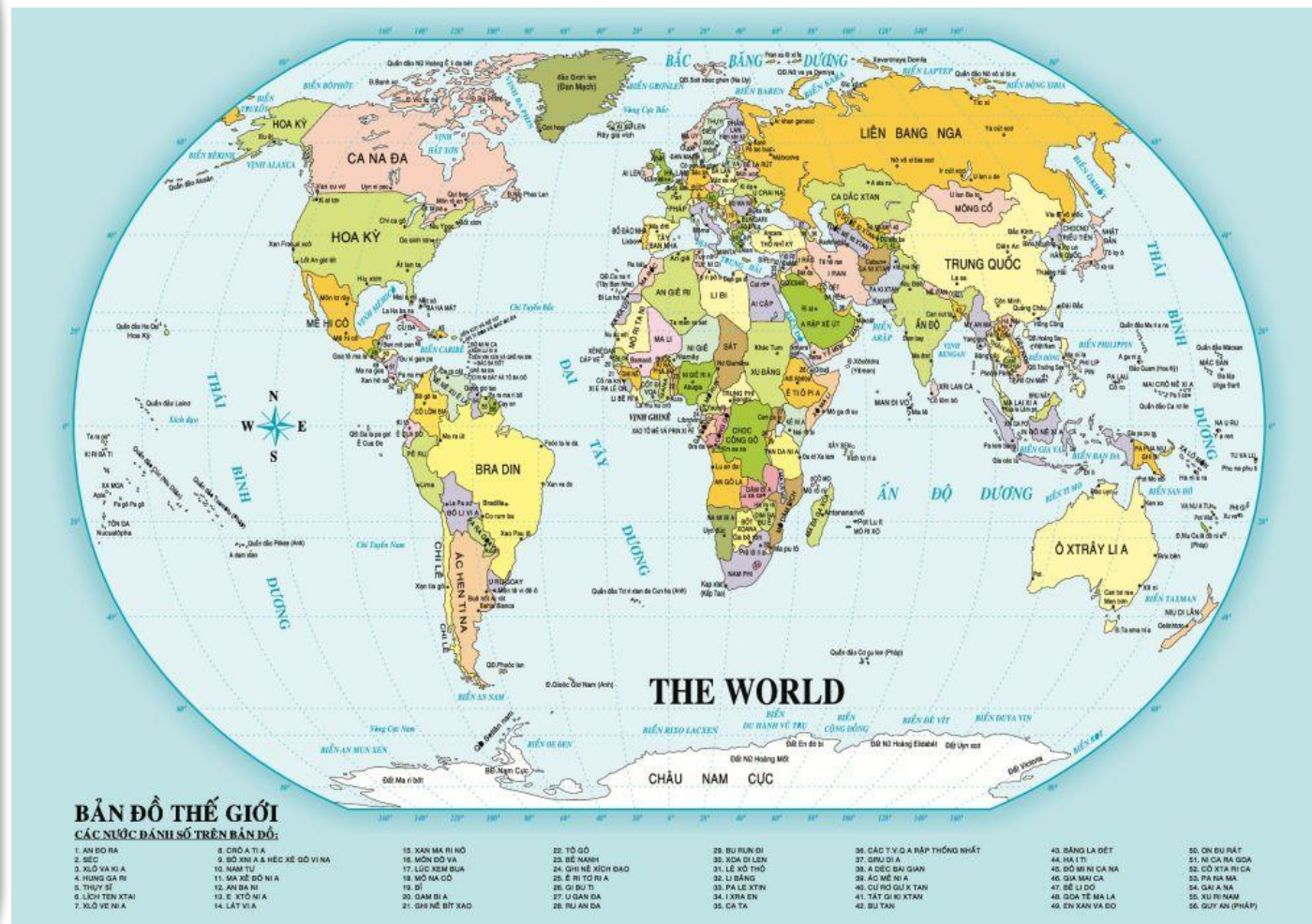
Lược đồ các châu lục và đại dương



ពង្ស័ទេ ឯសិកា

Quan sát quả địa cầu và chia sẻ với bạn:

- Từng châu lục tiếp giáp với đại dương nào?
- Nước Việt Nam nằm ở châu lục nào? Châu lục đó tiếp giáp với đại dương nào?



- **Từng châu lục tiếp giáp với đại dương nào?**

Tên châu lục	Các đại dương tiếp giáp
Châu Á	Bắc Băng Dương, Thái Bình Dương, Ấn Độ Dương
Châu Âu	Bắc Băng Dương, Đại Tây Dương
Châu Phi	Ấn Độ Dương, Đại Tây Dương
Châu Mỹ	Bắc Băng Dương, Đại Tây Dương, Thái Bình Dương
Châu Đại Dương	Thái Bình Dương, Ấn Độ Dương
Châu Nam Cực	Thái Bình Dương, Đại Tây Dương, Ấn Độ Dương

- Nước Việt Nam nằm ở châu lục nào?
- Châu lục đó tiếp giáp với đại dương nào?

Châu Á

**Thái Bình Dương,
Ấn Độ Dương,
Bắc Băng Dương**



Bề mặt Trái Đất được chia làm 6 châu lục và 4 đại dương. Các châu lục là châu Á, châu Âu, châu Phi, châu Mỹ, châu Đại Dương và châu Nam Cực. Các đại dương là Thái Bình Dương, Đại Tây Dương, Ấn Độ Dương Và Bắc Băng Dương.





GỐC
NHÌN
3D



หม้อจืดจืด รดสี
ขี้ กล้วย

Thu thập, sưu tầm các tranh ảnh và thông tin về các dạng địa hình: núi, cao nguyên, đồi, đồng bằng,...





କ୍ଷମା ବିଭୀତ

Kể tên các châu lục

Á

Mỹ

Âu

Đại Dương

Phi

Nam Cực

Chọn từ ngữ trong ngoặc đơn để hoàn thành câu có nội dung đúng.

Trên bề mặt Trái Đất, diện tích đại dương **(lớn hơn/ nhỏ hơn)** diện tích lục địa.

Kể tên các đại dương

Thái Bình Dương

Ấn Độ Dương

Đại Tây Dương

Bắc Băng Dương

Nam Băng Dương

Tự nhiên và xã hội 3

BỀ MẶT TRÁI ĐẤT

(Tiết 2)





កម្លាំង រុងរឿង

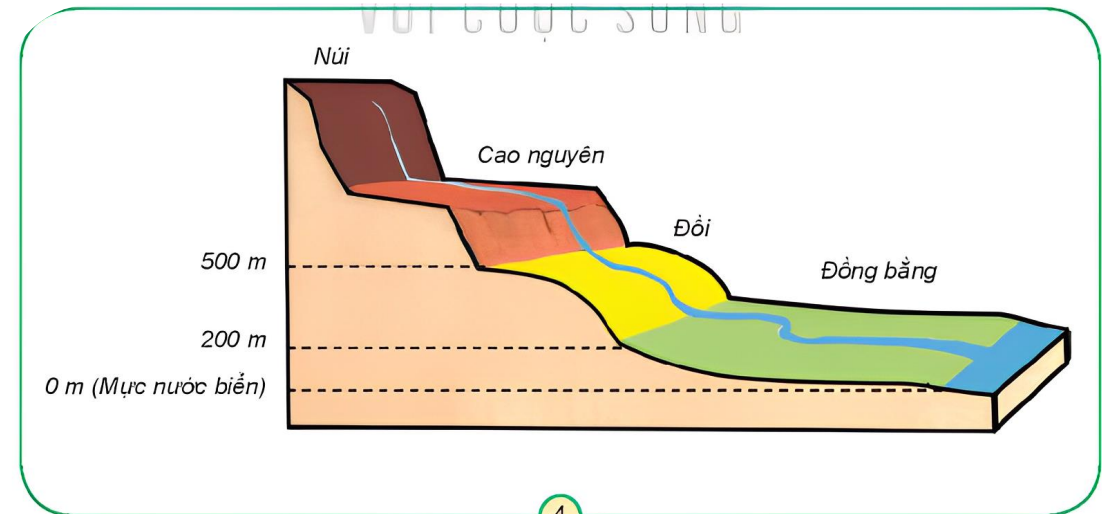
1. Quan sát hình 3 và chỉ núi, đồi, cao nguyên, đồng bằng, sông, hồ, biển.



2. Quan sát hình 3 và 4, em hãy mô tả núi, đồi, cao nguyên, đồng bằng dựa vào các gợi ý: *cao, dốc, tương đối tròn, thoải, thấp, đỉnh thường nhọn, bằng phẳng.*



3



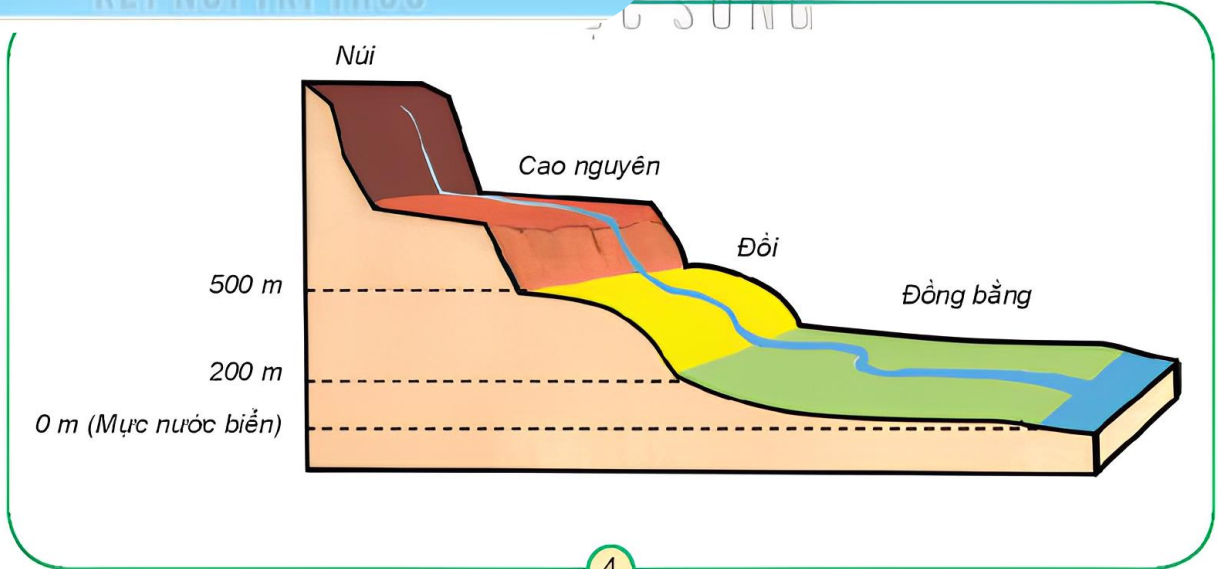
4

Mô hình các dạng địa hình



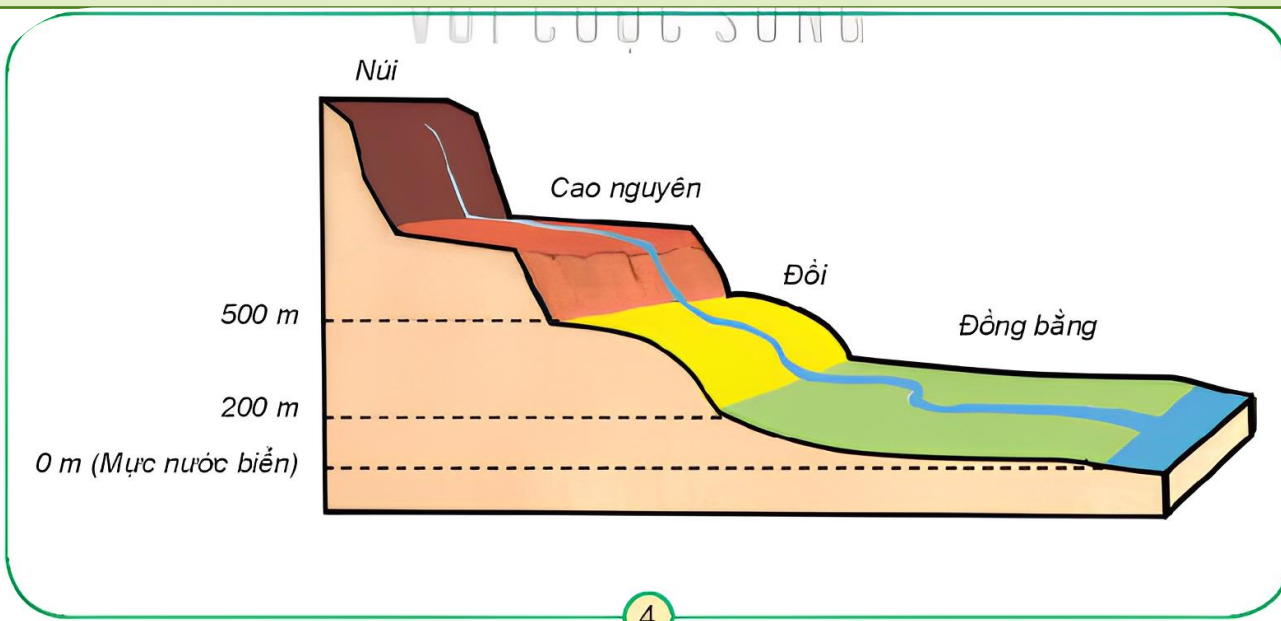
3

**G: cao, dốc, tương đối
tròn, thoải, thấp, đỉnh
thường nhọn, bằng phẳng**



4

Mô hình các dạng địa hình



Mô hình các dạng địa hình

Núi:

Cao, dốc, đỉnh thường nhọn

Cao nguyên

Cao, bằng phẳng, dốc thoải

Đồi:

Tương đối tròn, dốc thoải

Đồng bằng

Thấp, bằng phẳng, dốc thoải



ពង្ស័យ ឯកសិក្សា

Hoàn thành bảng theo gợi ý sau:

	Núi	Đồi		Cao nguyên	Đồng bằng
Điểm giống			Điểm giống		
Điểm khác:			Điểm khác:		
<ul style="list-style-type: none"> • Độ cao • Đỉnh • Sườn 					



**Thảo luận
nhóm**

	Núi	Đồi
Điểm giống	Đều nhô cao	
Điểm khác: <ul style="list-style-type: none">• Độ cao• Đỉnh• Sườn	Trên 500 m Nhọn Dốc	Từ 200 – 500 m Tròn Thoải

	Cao nguyên	Đồng bằng
Điểm giống	Đều bằng phẳng	
Điểm khác:	Cao (trên 500m)	Thấp (từ 0 – 200 m)



สนุก ดนุค

Thi kể tên một số dạng địa hình núi, đồi, cao nguyên, đồng bằng của Việt Nam.

M: Cao nguyên Lâm Đồng





អប់រំក្រៅ គ្រឹះស្ថាន
បរិ ក្រសី

Sưu tầm tranh ảnh và thông tin về các dạng địa hình: sông, hồ, biển và đại dương chuẩn bị cho tiết học sau.



Chào tạm biệt!





GIÁO ÁN ĐIỆN TỬ LỚP 4

GIÁO ÁN ĐIỆN TỬ LỚP 2 & LỚP 3

BỘ KẾT NỐI TRI THỨC

Soạn bài giảng yêu cầu các khối lớp

Thiết kế bài giảng E – Learning

MĂNG NON – TÀI LIỆU TIỂU HỌC

Mời truy cập: MĂNG NON- TÀI LIỆU TIỂU HỌC | Facebook

ZALO : 0382348780 - 0984848929

