



KẾT NỐI TRI THỨC  
VỚI CUỘC SỐNG

Bài 27

# TRÁI ĐẤT


&

các đới khí hậu





# KHỞI ĐỘNG



# KHÁM PHÁ




## Hoạt động 1.

Tìm hiểu về hình  
dạng Trái Đất  
qua quả địa cầu



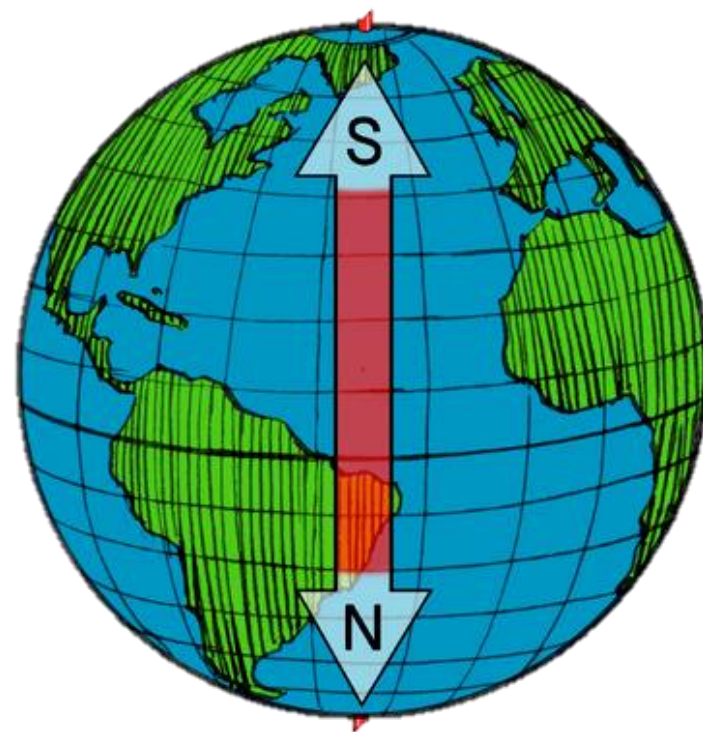
# Quan sát hình 1 và mô tả hình dạng của Trái Đất



Trái Đất có dạng hình cầu

## Hoạt động 2.

Tìm hiểu vị trí cực Bắc, cực Nam, đường xích đạo, bán cầu Bắc, bán cầu Nam



**Quan sát hình 2 và chỉ cực Bắc, cực Nam, đường Xích đạo, bán cầu Bắc, bán cầu Nam trên hình.**



## ? EM CÓ BIẾT

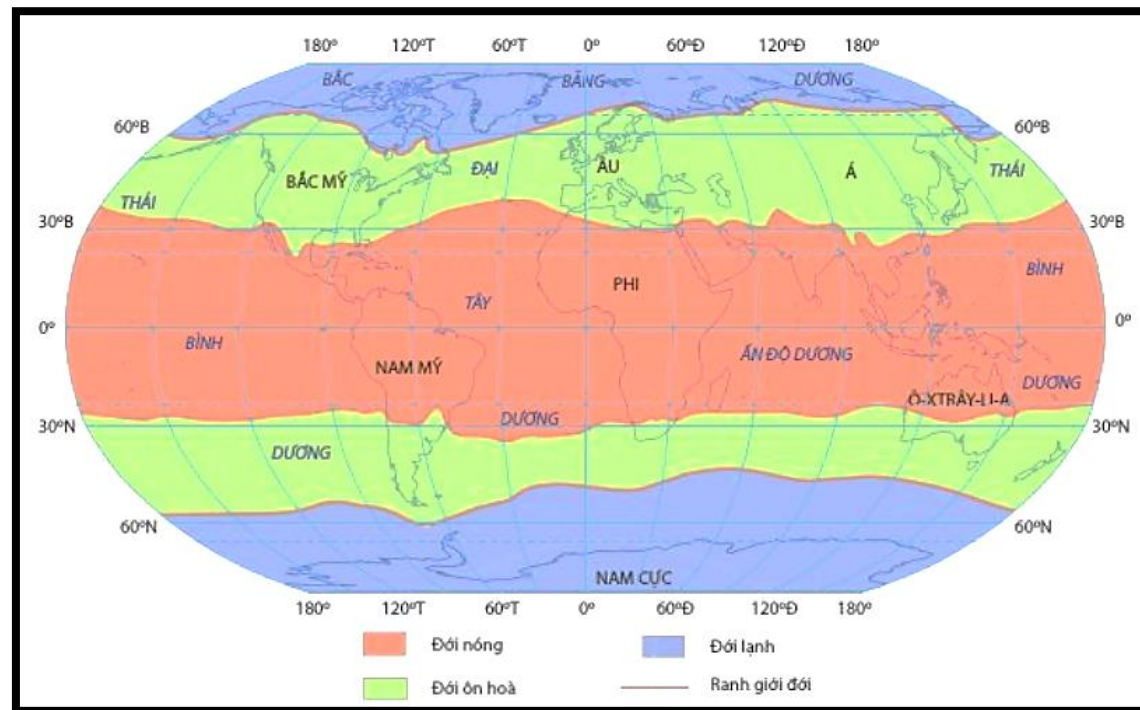
Quả địa cầu là mô hình thu nhỏ của Trái Đất. Đường Xích đạo chia Trái Đất thành hai nửa là bán cầu Bắc và bán cầu Nam.





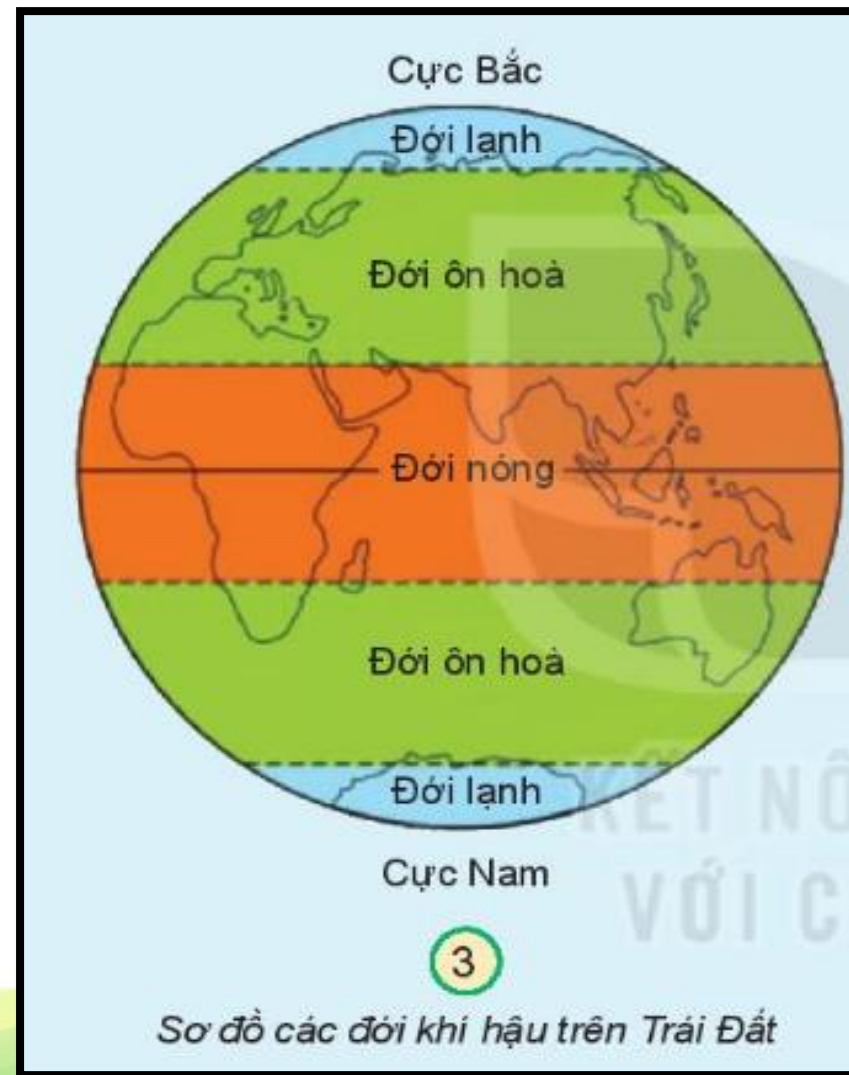
## Hoạt động 3.

Tìm hiểu về các đới khí hậu trên quả cầu.





+ Quan sát hình 3 và chỉ và nói tên các đới khí hậu ở hai nửa bán cầu



+ Quan sát hình 4; 5; 6 và nêu đặc điểm của từng đới khí hậu. Dựa vào đặc điểm đó HS giải thích tên gọi của từng đới khí hậu.



Thảo luận nhóm 4

**Đới lạnh**



**4**

**Đới nóng**




**6**

**Đới ôn hòa**



**5**

## Đổi lạnh



4

Khí hậu giá lạnh,  
có băng tuyết  
quanh năm.

## Đổi ôn hòa



5

Khí hậu bốn mùa.

## Đổi nóng



6

Khí hậu khô nóng.

## Đổi lạnh



## Đổi ôn hòa



## Đổi nóng





PEEK  
a  
BOO

# THỰC HÀNH



## NHIỆM VỤ

Tìm và chỉ vị trí cực Bắc, cực Nam, đường Xích đạo, bán cầu Bắc, bắc cầu Nam và vị trí của Việt Nam trên quả địa cầu. Nước ta thuộc đới khí hậu nào?

*Mỗi nhóm sẽ được phát một quả địa cầu.  
Các em sẽ thực hành và hoàn thành  
nhiệm vụ được giao nhé!*



# TẠM BIỆT

