

Toán 3



10000


Trang 6





Hoi An

Đông



non

ong

hoc

việc



The little bee



Số nghìn không
trăm linh ba

A. 6 003

B. 6 030

C. 6 300

D. 6 03



Bảy nghìn bốn
trăm mười hai

A. 7 400

B. 7 214

C. 7 420

D. 7 412



Hai nghìn chín trăm
tám mươi chín

A. 2 998

B. 2 989

C. 2 899

D. 2 889

Toán 3



100000

Trang 6






КХАМ

РНА

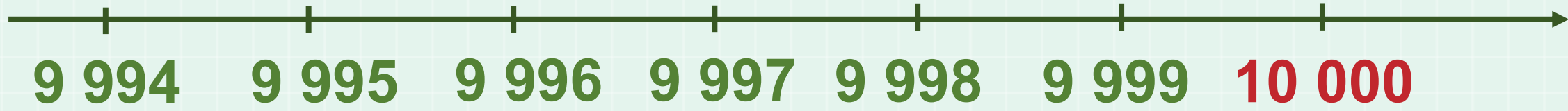
a)



10 000

(Mười nghìn)

b)





HOẠT

ĐỘNG

TRỒNG HOA

HƯỞNG DƯỠNG





**Viết số rồi đọc số, biết số đó gồm:
M: 2 nghìn, 9 trăm, 4 chục và 5 đơn vị**

Hai nghìn chín trăm
bốn mươi lăm.





**Viết số rồi đọc số, biết số đó gồm:
5 nghìn, 0 trăm, 7 chục và 2 đơn vị**



5 072



**Viết số rồi đọc số, biết số đó gồm:
6 nghìn, 3 trăm, 0 chục và 1 đơn vị**



6 301



**Viết số rồi đọc số, biết số đó gồm:
8 nghìn, 0 trăm, 6 chục và 0 đơn vị**



8 060



**Giỏi lắm!
Chúng mình
cùng gieo hạt
nhé!**





Số liền trước của số 10 000 là số nào?



9 999



Số liền sau của số 8 999 là số nào?



9 000



Số 9 000 là số liền sau của số nào?



8 999



Số 4 087 là số liền trước của số nào?



4 088

**Giỏi lắm!
Chúng mình
cùng tưới cây
thôi!**





Chọn câu trả lời đúng:
a) Số nào dưới đây có chữ số hàng trăm là 7?

A 8 275

B 7 285

C 5 782

D 2 587



Chọn câu trả lời đúng:
b) Số nào dưới đây có chữ số hàng chục là 7?

A 8 275

B 7 285

C 5 782

D 2 587



Chọn câu trả lời đúng:
c) Số nào dưới đây có chữ số hàng nghìn là 7?

A

8 275

B



7 285

C

5 782

D

2 587



**Tuyệt quá!
Chúng mình
tiếp tục tưới
cây nhé!**





Dưới đây là nhà của Nam, Việt và Mai.



Biết: - Nhà của Việt có trồng cây trước nhà.
- Nhà của Mai có ô cửa sổ dạng hình tròn.
Em hãy tìm xem số được ghi trên nhà của mỗi bạn là số nào rồi đọc số đó.







**Thật tuyệt!
Chúng mình đã
hoàn thành
nhiệm vụ trồng
hoa rồi**







Chúc các em học tốt!

