

# Khởi động





# ĐÈN GIAO THÔNG



Trò chơi sẽ có 4 câu hỏi trắc nghiệm.  
Để trả lời các câu hỏi này, em hãy đưa hai  
cánh tay về trước mặt, chọn đáp án **ĐÈN**  
**ĐỎ** thì cánh tay đứng yên, **ĐÈN XANH** cánh  
tay quay nhanh, **ĐÈN VÀNG** cánh tay quay  
chậm nhé!








Kết quả của phép tính:

$$39 - 5 = ?$$

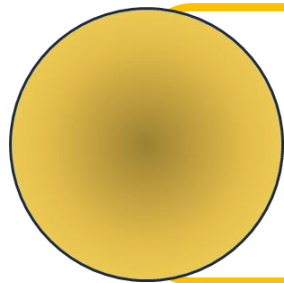
5



34




31





92






Kết quả của phép tính:  
 $97 - 7 = ?$

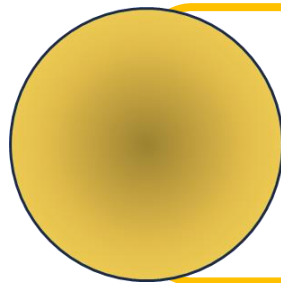
5



91




93



90







Kết quả của phép tính:

$$78 - 3 = ?$$

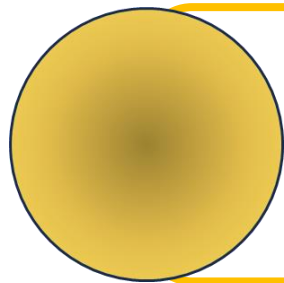
5



71



75



74



BÀI  
31

TOÁN



KẾT NỐI TRI THỨC  
VỚI CUỘC SỐNG

# Phép trừ số có hai chữ số cho số có một chữ số

(TIẾT 2)



# Yêu cầu cần đạt

- Thực hiện được phép trừ số có hai chữ số cho số có một chữ số.
- Biết tính nhẩm trong trường hợp đơn giản.
- Vận dụng: HS Giải được các bài toán tình huống thực tế liên quan tới phép trừ số có hai chữ số cho số có một chữ số.

# Luyện tập



1

Tìm số thích hợp (theo mẫu)

a)  $35 - 2 = ?$



$35 - 2 =$

33




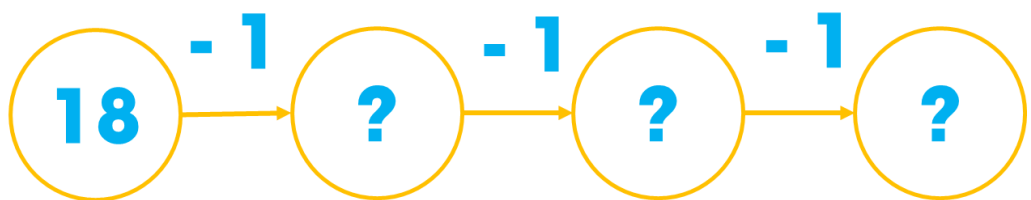
1

Tìm số thích hợp (theo mẫu)

03:00

b)  $18 - 3 = ?$

c)  $16 - 4 = ?$



$18 - 3 =$

$16 - 3 =$



THẢO LUẬN NHÓM

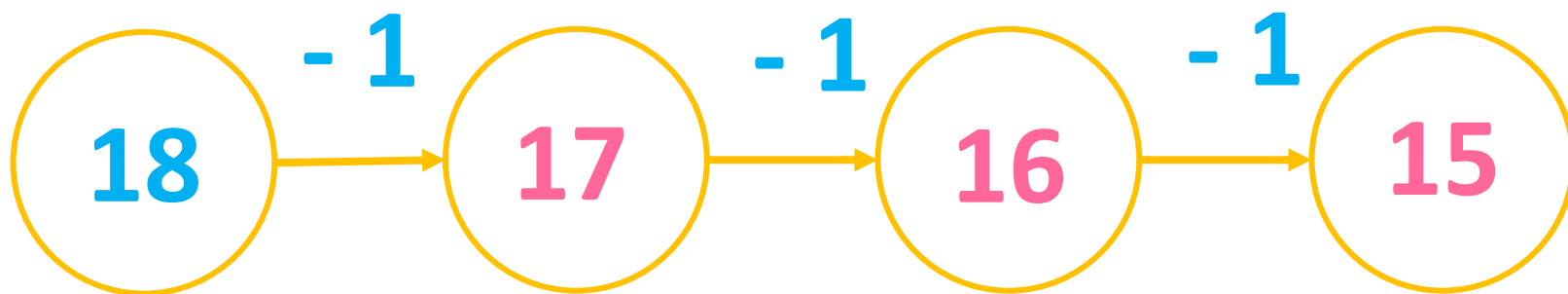
# CÙNG CHIA SẺ



1

Tìm số thích hợp (theo mẫu)

b)  $18 - 3 = ?$




$18 - 3 =$

15

1

Tìm số thích hợp (theo mẫu)

c)  $16 - 4 = ?$




$16 - 4 =$

12

2

Đ, S ?



03:00

LÀM VIỆC CÁ NHÂN

a)

$$\begin{array}{r} 49 \\ - 3 \\ \hline 46 \end{array} \quad ?$$

b)

$$\begin{array}{r} 88 \\ - 5 \\ \hline 73 \end{array} \quad ?$$

c)

$$\begin{array}{r} 35 \\ - 2 \\ \hline 15 \end{array} \quad ?$$

d)


$$\begin{array}{r} 56 \\ - 4 \\ \hline 52 \end{array} \quad ?$$

# CÙNG CHIA SẺ



2

Đ, S ?



a)

$$\begin{array}{r} 49 \\ - 3 \\ \hline 46 \end{array}$$

Đ

b)

$$\begin{array}{r} 88 \\ - 5 \\ \hline 73 \end{array}$$

S

c)

$$\begin{array}{r} 35 \\ - 2 \\ \hline 15 \end{array}$$

S

d)

$$\begin{array}{r} 56 \\ - 4 \\ \hline 52 \end{array}$$

Đ

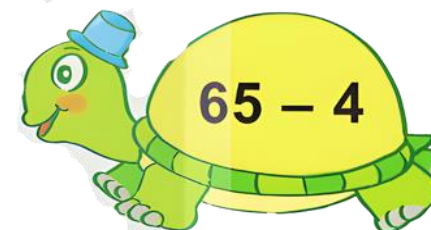




3

Hai phép tính nào có cùng kết quả?

03:00

MR. TIME


THẢO LUẬN NHÓM




3

Hai phép tính nào có cùng kết quả?

CÙNG  
CHIA SẺ




$$98 - 3 = 95$$




$$66 - 5 = 61$$



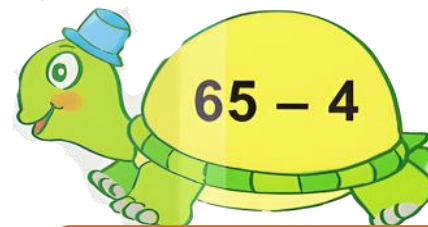
$$77 - 7 = 70$$



$$76 - 6 = 70$$



$$96 - 1 = 95$$



$$65 - 4 = 61$$



# Vận dụng



4

Có 18 bạn rùa và thỏ chơi trốn tìm, trong đó có 8 bạn rùa.  
Hỏi có bao nhiêu bạn thỏ?

?

?


?

=

?

AI NHANH HƠN?

1:00



4

Có 18 bạn rùa và thỏ chơi trốn tìm, trong đó có 8 bạn rùa.  
Hỏi có bao nhiêu bạn thỏ?

18

-

8

=

10

Có 10 bạn thỏ.

# Dẫn dò



Xem lại bài đã học.

Chuẩn bị bài học mới.

# Tam biệt!





# MĂNG NON - TÀI LIỆU TIỂU HỌC

Chuyên soạn bài giảng điện tử Tiểu học



KẾT NỐI TRI THỨC  
VỚI CUỘC SỐNG

LỚP 1, 2, 3, 4, 5



Chân trời sáng tạo

LỚP 1, 4, 5



LỚP 1



**SOẠN BÀI THEO YÊU CẦU, DỰ GIỜ, CHUYÊN ĐỀ**

Zalo

0382348780 (Cảm)



Măng Non - Tài liệu Tiểu học



Zalo

0905919065 (Linh)



mangnon2024

