



KHỎI ĐỘNG



Trò chơi:

ĐẠI DƯƠNG BÍ ẨN





Hãy chọn con vật
mình thích mà
vượt qua thử
thách mà con vật
đó mang đến nhé!



$72 + 15 = 87$

$52 + 16 = 68$

$45 + 10 = 55$



KẾT NỐI TRI THỨC
VỚI CUỘC SỐNG


Tiến - Bài 31


PHÉP TRỪ SỐ CÓ HAI CHỮ SỐ VỚI SỐ CÓ MỘT CHỮ SỐ

Tiết 1

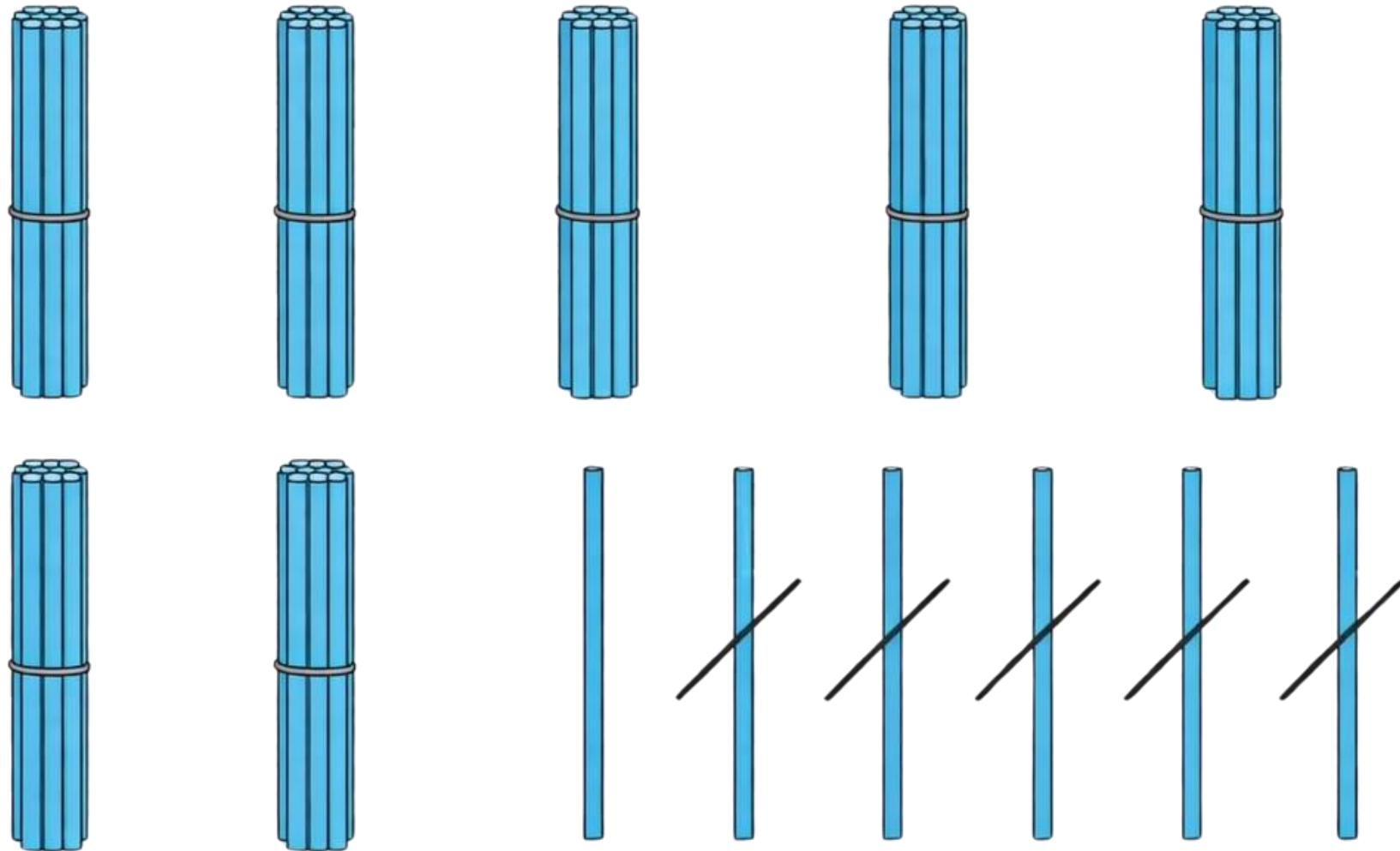


KHÁM PHÁ





Khám phá






Sau khi bớt đi 5 que tính, số que tính còn lại là bao nhiêu?

$$76 - 5 = 71$$

| Chục | Đơn vị |
|--------|------------|
| 7 — | 6 5 |
| 7 | 1 |

$$\begin{array}{r}
 76 \\
 - 5 \\
 \hline
 71
 \end{array}$$

- 6 trừ 5 bằng 1, viết 1
- Hạ 7, viết 7






$$34 - 4 = ?$$

Nêu kết quả và cách thực hiện phép tính trên.

CỪNG CHIA SẺ






$$34 - 4 = 30$$

| Chục | Đơn vị |
|---------------------------------------|---------------------------------------|
| $\begin{array}{r} 3 \\ - \end{array}$ | $\begin{array}{r} 4 \\ 4 \end{array}$ |
| 3 | 0 |

$$\begin{array}{r} 34 \\ - 4 \\ \hline 30 \end{array}$$

- 4 trừ 4 bằng 0, viết 0.
- Hạ 3, viết 3.

HOẠT ĐỘNG





1 Tính:

$$\begin{array}{r} 19 \\ - 4 \\ \hline \end{array}$$

$$\begin{array}{r} 35 \\ - 2 \\ \hline \end{array}$$

$$\begin{array}{r} 66 \\ - 1 \\ \hline \end{array}$$

$$\begin{array}{r} 78 \\ - 5 \\ \hline \end{array}$$

$$\begin{array}{r} 93 \\ - 3 \\ \hline \end{array}$$



LÀM VÀO BẢNG CON

CỪNG CHIA SẺ



KẾT QUẢ

$$\begin{array}{r} 19 \\ - 4 \\ \hline 15 \end{array}$$

$$\begin{array}{r} 35 \\ - 2 \\ \hline 33 \end{array}$$

$$\begin{array}{r} 66 \\ - 1 \\ \hline 65 \end{array}$$

$$\begin{array}{r} 78 \\ - 5 \\ \hline 63 \end{array}$$

$$\begin{array}{r} 93 \\ - 3 \\ \hline 90 \end{array}$$

2

Đặt tính rồi tính.

$18 - 5$

$46 - 4$

$75 - 3$

$99 - 9$



LÀM BÀI VÀO VỞ
ĐỔI VỞ SOÁT BÀI

CỪNG CHIA SẺ



KẾT QUẢ

$$18 - 5$$

$$\begin{array}{r} 18 \\ - 5 \\ \hline 13 \end{array}$$

$$46 - 4$$

$$\begin{array}{r} 46 \\ - 4 \\ \hline 42 \end{array}$$

$$75 - 3$$

$$\begin{array}{r} 75 \\ - 3 \\ \hline 72 \end{array}$$

$$99 - 9$$

$$\begin{array}{r} 99 \\ - 9 \\ \hline 90 \end{array}$$

3 Tìm chỗ đỗ cho xe ô tô.



73

45

50

SUY NGHĨ TRONG 1 PHÚT

CỪNG CHIA SẺ




KẾT QUẢ



| |
|----|
| 73 |
| 45 |
| 50 |

VẬN DỤNG



4 Một xe buýt chở 29 hành khách. Đến bến đỗ có 5 hành khách xuống xe. Hỏi trên xe buýt còn lại bao nhiêu hành khách?



$$? - ? = ?$$

CỪNG CHIA SẺ



Một xe buýt chở 29 hành khách. Đến bến đỗ có 5 hành khách xuống xe. Hỏi trên xe buýt còn lại bao nhiêu hành khách?



$$29 - 5 = 24$$

DẶN DỒ





MĂNG NON - TÀI LIỆU TIỂU HỌC

Chuyên soạn bài giảng điện tử Tiểu học



KẾT NỐI TRI THỨC
VỚI CUỘC SỐNG

LỚP 1, 2, 3, 4, 5



Chân trời sáng tạo

LỚP 1, 4, 5



LỚP 1



SOẠN BÀI THEO YÊU CẦU, DỰ GIỜ, CHUYÊN ĐỀ

Zalo 0382348780 (Cảm)

Zalo 0905919065 (Linh)



Măng Non - Tài liệu Tiểu học



mangnon2024

