

UBND PHƯỜNG BÒ ĐỀ
TRƯỜNG THCS NGỌC THỤY



**NỘI DUNG
ÔN TẬP CUỐI HỌC KÌ II**

HỌ VÀ TÊN:

LỚP:.....

Thứ	Thời gian	Buổi	Tiết	Môn	Lớp	GV coi thi
Ba	21/4/2026	Sáng	1-2	Ngữ văn	67	Theo phân công
			3	Tiếng Anh	67	Theo phân công
Tư	22/4/2026	Sáng	1-2	Toán	8	Theo phân công
			3-4	Toán	67	Theo phân công
Năm	23/4/2026	Sáng	1-2	Ngữ văn	8	Theo phân công
			3	Tiếng Anh	8	Theo phân công
Sáu	24/4/2026	Sáng	1-2	KHTN	678	Theo TKB
Ba	05/5/2026	Sáng	2	LSĐL	678	Theo TKB
Tư	06/5/2026	Sáng	1	GDCD	678	Theo TKB
Năm	07/5/2026	Sáng	2	Công nghệ	678	Theo TKB
Sáu	08/5/2026	Sáng	3	Tin học	678	Theo TKB

NĂM HỌC 2025 - 2026

NỘI DUNG ÔN TẬP CUỐI HỌC KỲ II KHỐI 6 MÔN TIẾNG ANH

A. THEORY:

I. Vocabulary: Vocabulary in Unit 7, 8, 9, 10, 11

II. Pronunciation:

- Sounds: /θ/, /ð/, /e/, /æ/, /əʊ/, /aʊ/

III. Grammar:

- Conjunction words
- WH-question words
- The past simple tense
- Imperatives
- Possessive adjectives
- Possessive pronouns
- The future simple tense
- “Might” for future possibility
- Articles
- First conditional

B. EXERCISES:

PRACTICE TEST 1

Mark the letter A, B, C or D on your answer sheet to indicate the word whose underlined part differs from the other three in pronunciation in each of the following questions.

- Question 1.** A. thief B. that C. thin D. north
Question 2. A. snow B. how C. allow D. cow
Question 3. A. eight B. neighbor C. weight D. height
Question 4. A. shoulder B. around C. house D. mouth

Mark the letter A, B, C, or D on your answer sheet to indicate the correct answer to each of the following questions.

- Question 5.** Future houses might _____ much cheaper than current houses.
A. be B. are C. to be D. being
- Question 6** The robot will _____ of the flowers in the garden.
A. take care B. take note C. be careful D. carry
- Question 7.** Sewage from the factories is the main cause of _____ in this river.
A. soil pollution. B. air pollution C. water pollution D. noise pollution
- Question 8.** If we _____ waste paper, we will save a lot of trees.
A. repeat B. recycle C. rewrite D. remake
- Question 9.** _____ eat too much salt. It’s not good for you.
A. Do B. Don’t C. Please D. Can’t
- Question 10.** _____ cities will have smart transportation systems with self-driving cars.
A. Lot of B. A lot C. A lot of D. Much
- Question 11.** We _____ the movies last night and watched a funny animated film.
A. walked B. visit to C. went to D. come
- Question 12.** Tom and Linda are talking about their favourite film.
Tom: “What kind of film do you prefer?” - **Linda:** “_____”
A. I don’t watch TV C. I like/ prefer horror films
B. I love Tom – the cat D. Oh, watching TV is very interesting

Read the following instructions and mark the letter A, B, C, or D on your answer sheet to indicate the correct option that best fits each of the numbered blanks.

CINEMA RULES

1. Movie Times: Please (13) _____ 10 minutes before the show.
2. Food and Drinks: No outside food or drinks allowed. You can buy snacks and drinks (14) _____ the counter.
3. Silence Please: Please (15) _____ off your phone and do not chat during the movie.
4. Lost Items: If you lost (16) _____ item, please check at the Cinema Desk.

- Question 13.** A. to arrive B. arriving C. arrived D. arrive
Question 14. A. in B. at C. on D. of
Question 15. A. call B. get C. turn D. put
Question 16. A. a B. an C. the D. X (no article)

Mark the letter A, B, C or D on your answer sheet to indicate the correct option that best fits each of the numbered blank.

Da Nang is one of the most (17) _____ in Viet Nam with a lot of beautiful beaches. It is (18) _____ its beautiful beaches and relaxed atmosphere.

It is not only a wonderful place but also a safe place (19) _____ in. In the evenings, many families go to the beach. They often leave (20) _____ there, believing they will still be safe when they return. There are no beggars, and the air is very clean.

(21) _____, the food in Da Nang is another reason to visit. The seafood is fresh, and the prices are affordable. Many visitors also (22) _____ exploring local seafood markets, where you can taste a variety of fresh dishes. This makes the city a perfect place to enjoy both the sea and delicious food.

Question 17. A. peaceful city B. peaceful cities C. cities peaceful D. peacefully cities

Question 18. A. famous for B. popular for C. known as D. lovely for

Question 19. A. to living B. to live C. for live D. to lived

Question 20. A. their motorbikes' B. theirs motorbikes C. their motorbikes D. motorbikes' their

Question 21. A. But B. Because of C. Although D. Moreover

Question 22. A. get time B. make time C. take time D. spend time

Mark the letter A, B, C or D on your answer sheet to indicate the sentence that is closest in meaning to the original sentence in each of the following questions.

Question 23. How beautiful this waterfall is!

A. What a beautiful waterfall is!

B. What a beautiful waterfall!

C. What an beautiful waterfall!

D. What an beautiful waterfall is!

Question 24. This book is mine and those are hers.

A. This is my book and those are hers books.

B. This is mine book and those are her books.

C. This is mine book and those are hers books.

D. This is my book and those are her books.

Mark the letter A, B, C, or D on your answer sheet to indicate the sentence that is made from the given cues in each of the following questions.

Question 25. If/ you/ recycle/ more/ plastic waste/ we/ reduce/ pollution.

A. If you recycle more plastic waste, we reduces pollution.

B. If you will recycle more plastic waste, we reduce pollution.

C. If you recycle more plastic waste, we will reduce pollution.

D. If you recycle more plastic waste, we reducing pollution.

Question 26. My parents/ not/ visit/ their friends/ last summer.

A. My parents weren't visit their friends last summer.

B. My parents didn't visit their friends last summer.

C. My parents didn't visited their friends last summer.

D. My parents weren't visited their friends last summer.

Read the passage and mark the letter A, B, C or D on your answer sheet to indicate the correct answer to each of the questions below.

A robot cannot think or do things alone. People use a computer to control it. Today, robots are not very popular because they are too expensive, but they are very useful. They can help us save a lot of time and work. A robot can do the same work for 24 hours, and yet, it does not complain or get tired. In the US, people use robots to guard some important places. These robots can listen to certain noises and sends signals for help if there's **trouble** or danger. In Japan, people use robots in factories to **build** cars. In the future, scientists will design many types of intelligent robots. Their robots will be able to do many more complicated things. However, some people do not like robots. They fear that one day robots will be too powerful.

Question 27. What is the passage mainly about?

A. Robots can do everything better than humans.

B. Robots are useful but also expensive.

C. People do not like robots.

D. Robots will never be popular.

Question 28. Why are robots not very popular today?

- A. Because they are too slow.
- B. Because they are too expensive.
- C. Because they do not work well.
- D. Because they make mistakes.

Question 29. What do robots do in Japan?

- A. Build cars in factories.
- B. Guard important places.
- C. Teach in schools.
- D. Work in hospitals.

Question 30. The word “trouble” in the passage is **CLOSEST** in meaning to _____.

- A. solution
- B. problem
- C. success
- D. safety

Question 31. Which statement is **NOT** mentioned in the passage?

- A. Robots can work for 24 hours without getting tired.
- B. Robots are used to guard important places.
- C. Robots are used to help doctors in hospitals.
- D. Some people fear that robots will be too powerful.

Question 32. The word “build” in the passage is **OPPOSITE** in meaning to _____.

- A. repair
- B. create
- C. make
- D. destroy

Read the following sign or notice and mark the letter A, B, C, or D on your answer sheet to indicate the correct answer to each of the following questions.

Question 33: What does the sign say?



- A. You can go on the grass.
- B. Do not drive on the grass.
- C. Please stay on the grass.
- D. Do not walk on the grass.

Question 34: What does the notice say?



- A. You must use this machine.
- B. You should look for another machine.
- C. You need to choose this machine
- D. You mustn't turn on this machine.

LISTENING

Task 1: People are talking about some amazing homes around the world. Listen and choose the correct answer A, B, C or D.

Question 35. Architect Sou Fujimoto designed it for _____.

- A. his boss
- B. a friend
- C. his daughter
- D. a couple

Question 36. The house was inspired from _____.

- A. the girl who lives in the trees
- B. the man who lives in the trees
- C. a normal Japanese house
- D. the couple who love nature

Question 37. The couple like the house because they love _____.

- A. plenty of daylight
- B. no privacy in the house
- C. the feeling of being surrounded by the natural world
- D. the ideas living on the trees

Task 2: Listen to a talk about television then choose the correct answer A, B, C or D.

Question 38. How were the pictures on a TV then?

- A. The pictures on a TV were black only.
- B. The pictures on a TV were white only.
- C. The pictures on a TV were colourful.
- D. The pictures on a TV were black and white only.

Question 39. Where can you find out the time of your favourite TV show?

- A. TV guides
- B. ABC channel
- C. ABS channel
- D. Western Australia

Question 40. How long do episodes on TV usually last for?

- A. either 30 minutes or a full hour
- B. about 30 minutes
- C. usually in an hour
- D. In a series

PRACTICE TEST 2

Mark the letter A, B, C or D on your answer sheet to indicate the word whose underlined part differs from the other three in pronunciation in each of the following questions.

- Question 1. A. there B. they C. this D. thank
Question 2. A. power B. crowded C. snowing D. flower
Question 3. A. mouse B. sound C. though D. found
Question 4. A. channel B. charity C. machine D. champion

Mark the letter A, B, C, or D on your answer sheet to indicate the correct answer to each of the following questions.

- Question 5. A hi-tech robot will help us _____ children while we are away.
A. look at B. look out C. look after D. look up
Question 6. Using _____ energy can help save the environment.
A. sun B. sunny C. solar D. source
Question 7. Mr Bean has _____ old car. _____ car is blue.
A. an/ The B. an/ A C. a/ The D. the/The
Question 8. Last weekend, my friends and I _____ a football match.
A. watch B. watching C. watched D. watches
Question 9. That's not your phone. It's _____. There's my name on its back.
A. your B. mine C. my D. yours

- Question 10. Linh shows Alice a photo of her last trip.
Linh: "I took this photo on my trip last vacation. It's the Big Ben Tower." – Alice: " _____ "
A. What a beautiful voice! B. What a nice photo!
C. That's a great idea. D. I'm so proud of you

- Question 11. This _____ building has been here for centuries.
A. noisy B. peaceful C. narrow D. historic
Question 12. Do you think he _____ the match tomorrow?
A. will win B. wins C. is winning D. won

Read the following announcement and mark the letter A, B, C, or D on your answer sheet to indicate the correct option that best fits each of the numbered blanks.

Who Wants to Be a Millionaire? – Test Your Knowledge & Win Big!

Do you have what it takes to be a millionaire? "Who Wants to Be a Millionaire?" is a world-famous TV game show, now available _____ (13) over 100 countries!

- Answer 15 multiple-choice questions – each with four options, but only one correct answer!
 - _____ (14) 3 lifelines – Remove two wrong answers, ask the audience, or call a friend for help!
 - Win the final prize – Answer _____ (15) final question correctly and take home VND 250,000,000!
- The first five questions are easy, but the challenge grows with every step. Will you make it to the top? _____ (16) and test your knowledge now!

- Question 13. A. at B. on C. in D. with
Question 14. A. Use B. Watch C. Listen D. Meet
Question 15. A. the B. a C. an D. x
Question 16. A. take out B. participate in C. put away D. pick up

Mark the letter A, B, C, or D on your answer sheet to indicate the correct option that best fits each of the numbered blanks.

Starbucks U.K. will give customers a discount if they _____ (17) their own cup. It wants to reduce _____ (18) and recycle more. Starbucks U.K. said: "Reusable cups are a key part of our overall waste reduction strategy". Customers who bring their own cups will not get a discount on the cheaper coffee. Paper cups are in the news a lot. Seven million cups are thrown away every day. Some cafes lie about _____ (19) cups they recycle. People might _____ (20) a cafe is _____ (21) the environment, _____ (22) it is not. Fewer than one in 400 paper cups at cafes are recycled. A coffee drinker said, "I am disappointed that cafes recycle so little."

- Question 17: A. will bring B. is bringing C. brought D. bring
Question 18: A. air B. water C. trees D. rubbish

- Question 19:** A. what B. how many C. why D. how
Question 20: A. thought B. is thinking C. thinks D. think
Question 21: A. terrible with B. bad at C. good for D. good at
Question 22: A. and B. so C. or D. but

Mark the letter A, B, C, or D on your answer sheet to indicate the sentence that is closest in meaning to the original sentence in each of the following questions.

- Question 23.** Remember to turn the tap off when you are brushing your teeth.
A. Don't forgetting to turn the tap off when you are brushing your teeth.
B. Turning the tap on when you are brushing your teeth.
C. Forgetting to turn the tap off when you are brushing your teeth.
D. Don't forget to turn the tap off when you are brushing your teeth.
- Question 24** We will probably go to the Moon for our summer holidays in 2050.
A. We will go to the Moon for our summer holidays in 2050.
B. We can go to the Moon for our summer holidays in 2050.
C. We might go to the Moon for our summer holidays in 2050.
D. We must go to the Moon for our summer holidays in 2050.

Mark the letter A, B, C, or D on your answer sheet to indicate the sentence that is made from the given cues in each of the following questions.

- Question 25.** We / live / happier and healthier life / if / keep / our environment / clean.
A. We'll live a happier and healthier life if we keep our environment clean.
B. We'll live happier and healthier life if we keep our environment clean.
C. We live a happier and healthier life if we'll keep our environment clean.
D. We won't live happier and healthier life if we keep our environment clean..
- Question 26.** I / not/ sleep/ because/ neighborhood/ very / noisy /.
A. I do not sleep because neighborhood is very noisy.
B. I can not sleep because my neighborhood be very noisy.
C. I can not sleep because my neighborhood very noisy.
D. I can not sleep because my neighborhood is very noisy.

Read the following sign or notice and mark the letter A, B, C, or D on your answer sheet to indicate the correct answer to each of the following questions.

- Question 27.** What does the sign mean?
A. Bring a trash bin.
B. Don't litter here
C. Don't pick up trash.
D. Litter here.



Question 28. What does the notice say?



- A. Turn on the light because they are cheaper.
B. Turn off electrical devices when they are not being used to save energy.
C. Single-use bags are more convenient for shopping.
D. There is no harm in using plastic bags for groceries.

Read the passage and mark the letter A, B, C, or D on your answer sheet to indicate the correct answer to each of the questions below.

Have you ever wondered what homes of the future will be like? In our opinion, they will be cheap, environmentally friendly, easy to build, and will use **sustainable** energy sources. Actually, these types of homes already exist. They are called Earthships.

Earthships are made from natural and recycled materials like tires, cans, bottles, earth, used wood, and plastic. Also, they don't need to rely on public utilities (like electricity) which is usually generated with fossil fuels or nuclear power.

Earthships rely mostly on the sun and the wind for their energy. They also harvest and purify rain water for drinking, bathing and washing clothes, and **recycle** that water for watering the garden and flushing the toilet. And some Earthships have their own greenhouse, where herbs and vegetables are grown all year round.

Question 29. What is the main idea of the reading passage?

- A. The history of Earthships
- B. The features and benefits of Earthships
- C. How to build a traditional house
- D. The disadvantages of using recycled materials

Question 30. What are Earthships made from?

- A. Only new and expensive materials
- B. Natural and recycled materials like tires, cans, and bottles
- C. Materials that are harmful to the environment
- D. Materials that require a lot of energy to produce

Question 31. The word **sustainable** in the text is **CLOSEST** in meaning to _____.

- A. harmful
- B. renewable
- C. expensive
- D. temporary

Question 32. Where do Earthships get their energy from?

- A. Fossil fuels and nuclear power
- B. Public utilities
- C. The sun and the wind
- D. Generators and batteries

Question 33. The word **recycle** in the text is **OPPOSITE** in meaning to _____.

- A. clean
- B. discard
- C. recover
- D. reuse

Question 34. According to the passage, what is NOT true about Earthships?

- A. They use natural and recycled materials.
- B. They rely on public utilities for energy.
- C. They harvest and recycle water.
- D. Some have greenhouses for growing herbs and vegetables.

Listen to the conversation between Ms Sara and a traffic warden and choose A, B, C or D.

Question 35. Nam is collecting some _____.

- A. plastic bottles
- B. rubbish
- C. used paper
- D. old books

Question 36. Their school will celebrate Green Day _____.

- A. next week
- B. next month
- C. tomorrow
- D. on Sunday

Question 37. Nam is collecting _____ materials to make something more useful.

- A. old
- B. reusable
- C. new
- D. used

Question 38. Karen will try _____ the rubbish around the schoolyard.

- A. reusing
- B. picking up
- C. throwing away
- D. moving

Question 39. Nam will plant more trees to help the _____.

- A. scenery
- B. environment
- C. schoolyard
- D. decoration

Question 40. When will they plant trees?

- A. next week
- B. Next month
- C. tomorrow
- D. yesterday

NỘI DUNG ÔN TẬP CUỐI HỌC KỲ II KHỐI 6 MÔN NGHỆ THUẬT

A. NỘI DUNG ÂM NHẠC

* Ôn Tập bài hát:

1/ Mưa rơi.

2/Chỉ có một trên đời.

3/Con đường đến trường

4/Thầy cô là tất cả.

5/Những ước mơ.

*Ôn Tập :Tập đọc nhạc số 1,2,3,4.

B. NỘI DUNG MỸ THUẬT

I. NỘI DUNG ÔN TẬP:

HS ôn tập các thể loại tranh theo đề tài.

II. ĐỀ TÀI:

1. *Tranh đề tài phong cảnh*
2. *Tranh đề tài học tập*
3. *Tranh vẽ theo giai điệu âm nhạc*
4. *Tranh tĩnh vật*
5. *Thảm trang trí với họa tiết trống đồng*
6. *Tranh vẽ chân dung*
7. *Trang phục Lễ Hội*

NỘI DUNG ÔN TẬP CUỐI HỌC KỲ II KHỐI 6 MÔN GDCD

A. NỘI DUNG ÔN TẬP: Ôn các bài từ tuần 19 đến hết tuần 29, trong đó trọng tâm kiến thức:

- Bài 7: *Ứng phó với tình huống nguy hiểm*
- Bài 8: *Tiết kiệm*
- Bài 9: *Công dân nước Cộng hòa Xã hội Chủ nghĩa Việt Nam*
- Bài 10: *Quyền và nghĩa vụ cơ bản của công dân*

B. YÊU CẦU ÔN TẬP:

- Khái niệm, biểu hiện, ý nghĩa, cách rèn luyện liên quan đến các đơn vị kiến thức.
- Sưu tầm các câu ca dao, tục ngữ thể hiện nội dung kiến thức đã học.
- Làm các bài tập tình huống trong sách giáo khoa, sách bài tập GDCD Lớp 6
- Vận dụng các kiến thức đã học vào giải quyết các tình huống trong thực tế.

C. HÌNH THỨC RA ĐỀ: Trắc nghiệm 70% (20 câu trắc nghiệm chọn 1/4 đáp án đúng; 02 câu trắc nghiệm đúng/sai); Tự luận 30% (2 câu)

D. MỘT SỐ DẠNG CÂU HỎI TRẮC NGHIỆM.

I. Trắc nghiệm nhiều lựa chọn: Chọn ¼ đáp án đúng nhất. (Mỗi câu đúng 0,25 điểm)

Câu 1: Tình huống nào dưới đây *không* gây nguy hiểm đến con người?

- A. Bạn A được bố dạy bơi ở bể bơi của nhà văn hóa huyện.
- B. Khu chung cư nhà bạn B đang xảy ra hỏa hoạn lớn.
- C. Các bạn đang tụ tập tắm ở khu vực bãi biển cấm.
- D. Bạn T lợi qua suối để về nhà trong lúc trời mưa to.

Câu 2: Dấu hiệu ban đầu nào dưới đây để chúng ta nhận biết về đám cháy?

- A. Khói, mùi cháy khét.
- B. Ánh lửa, khói đen.
- C. Ánh lửa, khói nghi ngút.
- D. Khói, ánh lửa, tiếng nổ, mùi cháy.

Câu 3: Những sự việc bất ngờ xảy ra, có nguy cơ đe dọa nghiêm trọng đến sức khỏe, tính mạng, gây thiệt hại về tài sản, môi trường cho bản thân, gia đình và cộng đồng xã hội là tình huống:

- A. Xã hội.
- B. Môi trường.
- C. Nguy hiểm.
- D. Nhân tạo.

Câu 4: Tình huống nguy hiểm từ tự nhiên là:

- A. Những hiện tượng tự nhiên có thể gây tổn thất về người, tài sản.

- B. Những hiện tượng xã hội có thể gây tổn thất về người, tài sản.
- C. Những mối nguy hiểm xuất phát từ hành vi cố ý từ con người.
- D. Những mối nguy hiểm xuất phát từ hành vi vô tình từ con người.

Câu 5: Câu ca dao tục ngữ nào dưới đây nói về sự keo kiệt, bủn xỉn?

- A. Vung tay quá trán.
- B. Năng nhặt chặt bị.
- C. Vắt cổ chày ra nước.
- D. Kiếm củi 3 năm thiêu 1 giờ.

Câu 6: Bạn Q đỗ đại học nên gia đình bạn quyết định sẽ tổ chức liên hoan thật to để mọi người trong làng biết và đến mừng. Gia đình không đủ tiền mua lợn để tổ chức liên hoan mời dân làng nên bố mẹ bạn Q quyết định đi vay tiền về để tổ chức cho mát mặt. Em có nhận xét gì về việc làm của gia đình Q?

- A. Gia đình Q làm như vậy là hợp lí.
- B. Gia đình Q làm như vậy là lãng phí, không phù hợp với hoàn cảnh gia đình.
- C. Gia đình Q làm như vậy là phù hợp với hoàn cảnh gia đình.
- D. Gia đình Q làm như vậy là vi phạm pháp luật.

Câu 7: Đối lập với tiết kiệm là

- A. xa hoa, lãng phí.
- B. cần cù, chăm chỉ.
- C. cầu thả, hời hợt.
- D. trung thực, thẳng thắn.

Câu 8: Hành động nào sau đây thể hiện sự tiết kiệm?

- A. Tiết kiệm tiền để mua sách.
- B. Bật đèn sáng khắp nhà cho đẹp.
- C. Vứt rác bừa bãi tại nơi công cộng.
- D. Khai thác tài nguyên khoáng sản bừa bãi.

Câu 9: Ngoài việc tiết kiệm về tiền của, theo em chúng ta cần tiết kiệm

- A. nhân phẩm.
- B. sức khỏe.
- C. lời nói.
- D. danh dự.

Câu 10: Câu nói: Cơm thừa gạo thiếu, là nói đến

- A. lãng phí, thừa thãi.
- B. cần cù, siêng năng.
- C. trung thực, thẳng thắn.
- D. tiết kiệm.

Câu 11: Để tiết kiệm thời gian, vào những lúc rảnh rỗi em sẽ

- A. chơi rất nhiều thể loại game.
- B. rủ bạn bè tụ tập nơi quán xá để ăn uống.
- C. lên Facebook nói chuyện với mọi người.
- D. học bài, đọc sách, giúp bố mẹ việc nhà.

Câu 12: Công dân là

- A. người dân của một nước, có các quyền và nghĩa vụ được pháp luật qui định.
- B. người dân của một nước, được hưởng tất cả các quyền theo pháp luật qui định.
- C. người dân của một nước, phải làm tất cả các nghĩa vụ được pháp luật qui định.
- D. người dân của nhiều nước, có các quyền và nghĩa vụ được pháp luật qui định

Câu 13: Công dân nước Cộng hòa xã hội chủ nghĩa Việt Nam là người có quốc tịch

- A. nhiều nước.
- B. nước ngoài.
- C. quốc tế.
- D. Việt Nam.

Câu 14: Quốc tịch là

- A. căn cứ xác định công dân của một nước.
- B. căn cứ xác định công dân của nhiều nước.
- C. căn cứ xác định công dân của nước ngoài.
- D. căn cứ để xác định công dân đóng thuế.

Câu 15: Quốc tịch là căn cứ xác định công dân của một nước, thể hiện mối quan hệ giữa

- A. Nhà nước và công dân nước đó.
- B. công dân và công dân nước đó.
- C. tập thể và công dân nước đó.
- D. công dân với cộng đồng nước đó.

Câu 16: Đọc thông tin sau đây và trả lời câu hỏi: Giờ ra chơi, H phát hiện mình bị mất tiền. Do nghi ngờ Q (bạn cùng bàn với H) ăn cắp, nên H đã lao vào đánh Q, khiến Q bị thương. Việc làm của H đã vi phạm quyền cơ bản nào của công dân?

- A. Quyền bất khả xâm phạm về thân thể.
- B. Quyền được bảo vệ, chăm sóc sức khỏe.

C. Quyền tự do đi lại và cư trú.

D. Quyền được tự do kinh doanh.

Câu 17: Nội dung nào dưới đây thuộc nhóm quyền văn hóa – xã hội của công dân Việt Nam?

A. Quyền tự do đi lại và cư trú.

B. Quyền được đảm bảo an sinh xã hội.

C. Quyền tự do kinh doanh.

D. Quyền tự do ngôn luận, tự do báo chí.

Câu 18: Theo Hiến pháp 2013, công dân Việt Nam không có quyền nào dưới đây?

A. Có nơi ở hợp pháp.

B. Tự do đi lại và cư trú trong nước.

C. Tiếp cận mọi thông tin liên quan đến bí mật quốc gia.

D. Tự do ngôn luận.

Câu 19: Theo Hiến pháp 2013, công dân Việt Nam không có nghĩa vụ nào dưới đây?

A. Thực hiện nghĩa vụ quân sự và tham gia xây dựng nền quốc phòng toàn dân.

B. Tuân theo Hiến pháp và pháp luật của Việt Nam.

C. Tham gia bảo vệ an ninh Quốc gia, trật tự an toàn xã hội.

D. Tuyệt đối trung thành với luật pháp quốc tế.

Câu 20: Nội dung nào dưới đây không thuộc nhóm quyền chính trị cơ bản của công dân Việt Nam?

A. Quyền bầu cử, ứng cử vào các cơ quan nhà nước.

B. Quyền tham gia quản lý nhà nước.

C. Quyền bất khả xâm phạm về thân thể.

D. Quyền tự do tín ngưỡng, tôn giáo.

II. Trắc nghiệm đúng/sai. HS trả lời câu 1. Trong mỗi ý a), b), c), d), học sinh chọn đúng hoặc sai:

Câu 1: Đọc thông tin sau và trả lời câu hỏi

Mẹ Lâm là người không có quốc tịch, còn cha không rõ là ai. Lâm sinh ra ở Việt Nam. Lâm và mẹ thường trú ở Việt Nam. Một số bạn trong lớp cho rằng Lâm là người không có quốc tịch như mẹ nhưng Hoa lại khẳng định Lâm có quốc tịch Việt Nam.

a) Lâm là người có quốc tịch Việt Nam.

b) Lâm là người không có quốc tịch vì mẹ Lâm không có quốc tịch.

c) Mẹ Lâm là người không có quốc tịch nhưng thường trú ở Việt Nam.

d) Cha của Lâm là người có quốc tịch Hàn Quốc.

E. MỘT SỐ DẠNG CÂU HỎI TỰ LUẬN

***Câu hỏi lý thuyết**

Câu 1: Tình huống nguy hiểm là gì? Kể tên những tình huống nguy hiểm mà em biết.

Câu 2: Tiết kiệm là gì? Nêu biểu hiện và ý nghĩa của tiết kiệm?

Câu 3: Là một công dân Việt Nam, em cần làm những gì để thực hiện quyền và nghĩa vụ công dân của mình?

***Bài tập xử lý tình huống**

Tình huống 1: Một lần, Minh rủ Phúc đi ăn phở. Khi thấy Phúc ăn hết sạch bát phở, Minh chê bạn là ăn uống không lịch sự và khuyên bạn lần sau đi ăn cần để lại một phần thức ăn. Phúc không đồng tình và cho rằng như vậy là lãng phí.

a) Em nhận xét như thế nào về suy nghĩ là việc làm của Phúc? Vì sao?

b) Nếu là Phúc em sẽ nói với Minh như thế nào?

NỘI DUNG ÔN TẬP CUỐI HỌC KỲ II KHỐI 6 MÔN CÔNG NGHỆ
Phần 1. Nội dung kiến thức cần ôn tập

C. Phong cách dân gian.

D. Phong cách lãng mạn.

Câu 10. Thông số kĩ thuật của đồ dùng điện được chia làm mấy loại?

A. 1.

B. 2.

C. 3.

D. 4.

Câu 11. Đại lượng điện định mức chung của đồ dùng điện thường có mấy đại lượng?

A. 1.

B. 2.

C. 3.

D. 4.

Câu 12. Theo em, tại sao phải lưu ý đến các thông số kĩ thuật?

A. Để lựa chọn đồ dùng điện cho phù hợp.

B. Sử dụng đúng yêu cầu kĩ thuật.

C. Lựa chọn đồ dùng điện phù hợp và sử dụng đúng yêu cầu kĩ thuật.

D. Không cần phải chú ý đến thông số kĩ thuật.

Câu 13. An toàn khi sử dụng đồ dùng điện phải đảm bảo mấy yếu tố?

A. 1.

B. 2.

C. 3.

D. 4.

Câu 14. Để đảm bảo an toàn cho đồ dùng điện, cần:

A. Đặt đồ dùng điện trên bề mặt ổn định.

B. Cố định chắc chắn.

C. Đặt đồ dùng điện trên bề mặt ổn định hoặc cố định chắc chắn.

D. Vận hành đồ dùng điện theo cảm tính.

Câu 15. Tại sao phải xử lí đúng cách đối với các đồ dùng điện khi không sử dụng nữa?

A. Tránh tác hại ảnh hưởng đến môi trường.

B. Tránh ảnh hưởng đến sức khỏe con người.

C. Tránh ảnh hưởng đến môi trường và sức khỏe con người.

D. Không cần thiết.

Câu 16. Bóng đèn sợi đốt cấu tạo gồm mấy bộ phận chính?

A. 1.

B. 2.

C. 3.

D. 4.

Câu 17. Cấu tạo của bóng đèn huỳnh quang gồm mấy bộ phận chính?

A. 1.

B. 2.

C. 3.

D. 4.

Câu 18. Cấu tạo của nồi cơm điện gồm mấy bộ phận chính?

A. 3.

B. 4.

C. 5.

D. 6.

Câu 19. Hình dạng của bóng đèn compact là:

A. Hình chữ U.

B. Hình dạng ống xoắn.

C. Hình chữ U hoặc hình dạng ống xoắn.

D. Hình tròn.

Câu 20. Một bóng đèn LED có thông số kĩ thuật như sau: 110V – 5W. Hỏi bóng đèn đó có công suất định mức là bao nhiêu?

A. 110 W.

B. 5 W.

C. 110 W hoặc 5 W.

D. 100W và 5 W.

b. Một số câu trắc nghiệm đúng/sai

Câu 1. Trong các phát biểu sau, phát biểu nào **đúng (Đ)**, phát biểu nào **sai (S)** khi nói về nồi cơm điện?

a. Nồi cơm điện sẽ nhanh chóng hỏng nếu sử dụng không đúng chức năng do nhà sản xuất quy định.

- b. Có thể mở nắp nồi để kiểm tra cơm khi đang nấu.
- c. Nồi cơm điện thông thường có hai chế độ nấu và giữ ấm.
- d. Thân nồi có chức năng bao kín, giữ nhiệt và liên kết các bộ phận khác của nồi.

Câu 2. Trong các phát biểu sau, phát biểu nào **đúng (Đ)**, phát biểu nào **sai (S)** khi nói về trang phục và thời trang?

- a. Nhà thiết kế thời trang thiết kế quần, áo, phụ kiện, giày, dép và tạo ra những bộ sưu tập, dòng sản phẩm thời trang.
- b. Sử dụng trang phục lấp lánh, đắt tiền để tăng thêm vẻ đẹp cho bản thân.
- c. Việc giặt quần áo theo kí hiệu giặt giúp quần áo được giặt, chăm sóc đúng cách và kéo dài tuổi thọ của sản phẩm.
- d. Để lựa chọn trang phục phù hợp và đẹp, ta cần mặc quần áo theo xu hướng đông.

Câu 3. Trong các phát biểu sau, phát biểu nào **đúng (Đ)**, phát biểu nào **sai (S)** khi nói về đèn điện?

- a. Ngoài công dụng chiếu sáng, một số loại đèn điện còn được sử dụng để sưởi ấm, trang trí.
- b. Để tiết kiệm điện năng nhiều nhất, ta nên dùng bóng đèn sợi đốt.
- c. Nhà bác học Thomas Edison là người đã chế tạo thành công bóng đèn sợi đốt đầu tiên.
- d. Có nhiều loại đèn LED khác nhau như đèn búp, đèn trần, đèn ống,...

Phần 4. Một số câu hỏi trong tâm

Câu 1. Trình bày các nguyên tắc phối hợp trang phục dựa trên vòng màu. Nếu quần màu xanh lục thì nên lựa chọn áo màu gì cho phù hợp.

Câu 2. Nêu khái niệm đồ dùng điện trong gia đình. Kể tên một số đồ dùng điện.

Câu 3. Thông số kĩ thuật của đồ dùng điện là gì? Lấy ví dụ các đại lượng cụ thể cho từng thông số.

Câu 4. Khi sử dụng đồ dùng điện trong gia đình cần lưu ý những gì để đảm bảo an toàn cho người sử dụng

Câu 5. Trình bày cấu tạo của nồi cơm điện. Nêu nguyên lí hoạt động của nồi cơm điện.

NỘI DUNG ÔN TẬP CUỐI HỌC KỲ II KHỐI 6 MÔN TOÁN

A. LÝ THUYẾT

1. Số học

- Ôn tập các phép toán cơ bản cộng, trừ, nhân, chia các phân số; cách đổi hỗn số về dạng phân số.
- Ôn tập số thập phân.
- Thực hiện được việc thu thập, phân loại dữ liệu theo các tiêu chí cho trước từ những nguồn: bảng biểu, kiến thức trong các môn học khác.
- Đọc và mô tả thành thạo các dữ liệu ở dạng biểu đồ cột kép, biểu đồ tranh.
- Sử dụng được phân số để mô tả xác suất thực nghiệm của khả năng xảy ra trong một số mô hình xác suất đơn giản.

2. Hình học

- Nhận biết được quan hệ cơ bản giữa điểm, đường thẳng, điểm thuộc đường thẳng, điểm không thuộc đường thẳng. Xác định vị trí tương đối hai đường thẳng song song, 2 đường thẳng cắt nhau, 2 đường thẳng trùng nhau.

- Nhận biết được khái niệm ba điểm thẳng hàng, điểm nằm giữa hai điểm. Tính độ dài đoạn thẳng.
- Xác định hai tia đối nhau, hai tia trùng nhau.
- Ôn tập về góc.
- Luyện tập kỹ năng vẽ hình: vẽ đoạn thẳng, đường thẳng, tia.

B. BÀI TẬP

Dạng 1: Thực hiện phép tính (hợp lí nếu có thể)

Bài 1: Thực hiện phép tính (tính hợp lí nếu có thể)

a) $\frac{1}{6} + \frac{1}{3}$

b) $\frac{-5}{12} + \frac{2}{-3}$

c) $\frac{-3}{5} - \frac{1}{5}$

d) $\frac{15}{48} - \frac{-5}{12}$

e) $\frac{-1}{5} + \frac{11}{9} + \frac{1}{5}$

f) $\frac{-2}{5} + \frac{3}{5} - \frac{1}{2}$

g) $\frac{3}{4} + \left(\frac{-11}{15} + \frac{1}{4}\right)$

h) $\left(10 - \frac{3}{4}\right) + \frac{-20}{25}$

i) $\frac{1}{2} + 0,75 - \left(\frac{3}{4} - 0,8\right)$

Bài 2: Thực hiện phép tính (tính hợp lí nếu có thể)

a) $\frac{-4}{7} \cdot \frac{3}{5}$

b) $-5 \cdot \frac{6}{13}$

c) $\frac{8}{5} : \frac{-2}{3}$

d) $\frac{-7}{6} : \left(-\frac{14}{3}\right)$

e) $-2 : \frac{7}{8}$

f) $\frac{21}{25} \cdot \frac{11}{9} \cdot \frac{5}{7}$

g) $\frac{-1}{2} : \frac{-2}{3} : \frac{-3}{4}$

h) $\frac{-3}{17} \cdot \left(\frac{12}{-11} \cdot \frac{-34}{21}\right)$

i) $1\frac{1}{3} \cdot 0,75 - 4\frac{1}{2} : \left(-1\frac{4}{5}\right) + -0,5$

Bài 3: Thực hiện phép tính (tính hợp lí nếu có thể)

a) $\frac{3}{4} \cdot \frac{1}{13} - \frac{3}{4} \cdot \frac{14}{13}$

b) $\frac{7}{8} + \frac{7}{8} : \frac{1}{8} - \frac{1}{2}$

c) $\frac{2}{11} - \frac{3}{8} + \frac{4}{11} - \frac{6}{11} - \frac{5}{8}$

d) $\left(\frac{2}{4} + \frac{-5}{3}\right) \cdot \frac{6}{5}$

e) $\frac{-15}{4} \cdot 3\frac{1}{3} - 1\frac{3}{4} + \frac{-7}{8}$

f) $\frac{5}{11} \cdot \frac{5}{7} + \frac{5}{11} \cdot \frac{2}{7} + \frac{6}{11}$

Dạng 2: Tìm x

Bài 1: Tìm x, biết

a) $x + \frac{1}{5} = \frac{2}{11}$

b) $x + \frac{4}{5} = \frac{6}{20} - \frac{-7}{3}$

c) $x : \frac{5}{11} = \frac{-3}{2}$

d) $x - \frac{1}{5} = \frac{7}{11} \cdot \frac{3}{21}$

Bài 2: Tìm x, biết

a) $\frac{4}{7} \cdot x + \frac{2}{3} = \frac{-1}{5}$

b) $\frac{5}{7} : x - 1 = \frac{2}{3}$

c) $\frac{1}{2}x + \frac{2}{5}x = \frac{-18}{25}$

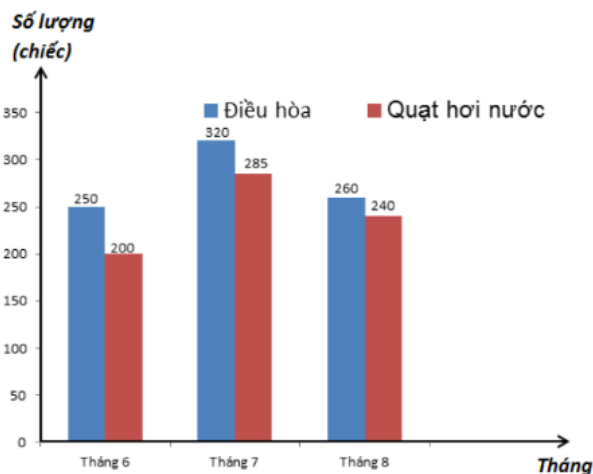
d) $2x + 3 = 1\frac{2}{3}$

e) $\left(x + \frac{1}{5}\right)^2 + \frac{17}{25} = \frac{26}{25}$

f) $\left(3x - \frac{1}{2}\right)^3 = -\frac{1}{27}$

Dạng 3: Xác suất – Thống kê

Bài 1: Cho biểu đồ thống kê số máy điều hòa và quạt hơi nước cửa hàng bán ra trong 3 tháng hè:



Dựa vào biểu đồ, hãy cho biết:

- Tổng số điều hòa đã bán ra trong ba tháng 6, 7, 8 của cửa hàng.
- Tổng số quạt hơi nước đã bán ra trong ba tháng 6, 7, 8 của cửa hàng.
- Theo em, để chuẩn bị cho cùng kì năm sau, cửa hàng nên nhập bao nhiêu điều hòa, bao nhiêu quạt hơi nước? Vì sao?

Bài 2: Điểm kiểm tra môn Toán của học sinh lớp 6A được cho ở bảng sau:

Điểm	2	3	4	5	6	7	8	9
Số bạn	2	3	6	7	8	6	4	4

- Lớp 6A có bao nhiêu học sinh?
- Điểm số nào có số bạn đạt được nhiều nhất? ít nhất?
- Số bạn đạt điểm 4 gấp mấy lần số bạn đạt điểm 3?

Bài 3: Một hộp chứa năm chiếc thẻ cùng loại được đánh số 1; 2; 3; 4; 5. Lấy ngẫu nhiên một chiếc thẻ trong hộp.

- Nêu các kết quả có thể xảy ra đối với số xuất hiện trên thẻ được lấy ra.
- Viết tập hợp các kết quả có thể xảy ra đối với số xuất hiện trên thẻ được lấy ra.
- Nêu hai điều cần chú ý trong mô hình xác suất của trò chơi trên.

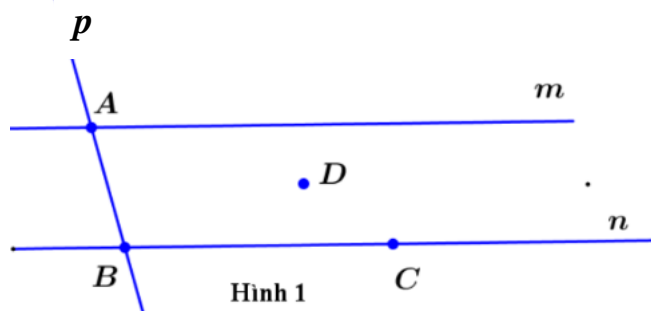
Bài 4: Nếu gieo một con xúc xắc 6 mặt 20 lần liên tiếp, có 5 lần xuất hiện mặt 3 chấm, 8 lần xuất hiện mặt 5 chấm. Tính xác suất thực nghiệm:

- Xuất hiện mặt 3 chấm.
- Xuất hiện mặt 5 chấm.

Dạng 4: Hình học

Bài 1: Cho hình vẽ bên:

- Điểm nào thuộc đường thẳng n ? Điểm nào không thuộc đường thẳng n ? Dùng các kí hiệu \in và \notin để mô tả điều đó.
- Tìm giao điểm của hai đường thẳng m và p .
- Kể tên hai đường thẳng song song, hai đường thẳng cắt nhau
- Kể tên các tia đối nhau góc C .



Bài 2: Vẽ đoạn thẳng $MN = 5cm$, P là điểm nằm giữa M và N , $NP = 3cm$.

- Tính độ dài đoạn thẳng MP .
- Gọi Q là trung điểm của MP . Tính MQ .

Bài 3: Cho đoạn thẳng $AB = 12cm$. Lấy điểm C trên đoạn thẳng AB sao cho $AC = 4cm$.

- Tính BC .

b) Gọi D là trung điểm của đoạn thẳng AC . Tính DB .

c) Trên tia đối của tia AB lấy điểm E sao cho A là trung điểm của đoạn thẳng ED . Tính EC .

Bài 4: Vẽ đường thẳng xy . Lấy điểm O thuộc đường thẳng xy . Trên tia Ox lấy điểm M sao cho $OM = 2cm$, trên tia Oy lấy điểm N sao cho $ON = 2cm$.

a) Viết tên hai tia đối nhau gốc O .

b) Tính độ dài đoạn thẳng MN ?

c) Điểm O có là trung điểm của đoạn thẳng MN không? Vì sao?

Dạng 5: Một số bài toán nâng cao

Bài 1: Tìm các số nguyên $x; y; z$ biết $\frac{12}{16} = \frac{-x}{4} = \frac{21}{y} = \frac{z}{-80}$.

Bài 2: Tìm các số nguyên $x; y$ biết $\frac{3+x}{7+y} = \frac{3}{7}$ và $x + y = 20$.

TRƯỜNG THCS NGỌC THỤY
TỔ TỰ NHIÊN
Đề ôn tập 1

ĐỀ ÔN TẬP CUỐI HỌC KÌ II
MÔN TOÁN 6
Năm học: 2025 – 2026

Bài 1: Thực hiện phép tính

a) $\frac{-3}{7} : 6$

b) $\frac{5}{8} + \frac{1}{4}$

c) $\frac{-3}{4} + \frac{2}{7} + \frac{-1}{4} + \frac{5}{7}$

d) $\frac{7}{3} - \frac{4}{3} : 4 + 1\frac{1}{2}$

Bài 2: Tìm x , biết

a) $x - \frac{1}{2} = \frac{-6}{4}$

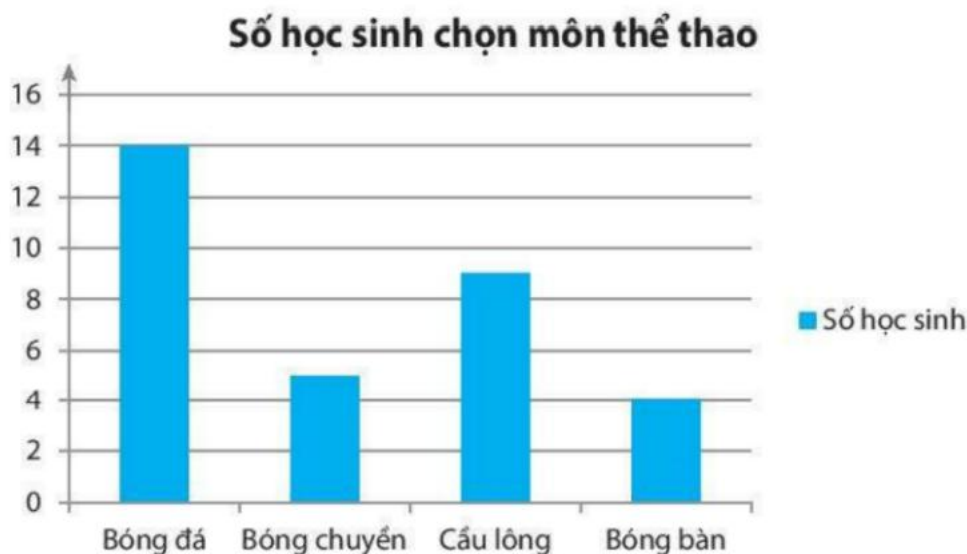
b) $\frac{-3}{5}x = \frac{-7}{18}$

c) $x - \frac{3}{7} : \frac{9}{14} = \frac{-7}{3}$

d) $x : \frac{3}{4} + \frac{1}{4} = \frac{-2}{3}$

Bài 3:

3.1. Biểu đồ cột dưới đây biểu diễn số học sinh chọn các môn thể thao năng khiếu của lớp 6A, mỗi học sinh chỉ chọn một môn thể thao.



a) Môn thể thao nào được các bạn học sinh chọn nhiều nhất? Ít nhất?

b) Có bao nhiêu học sinh chọn môn cầu lông?

c) Bình nói rằng: “Lớp 6A có tất cả 30 học sinh”. Theo em, Bình nói đúng hay sai?

3.2. Một hộp chứa 4 quả bóng, trong đó có 1 bóng xanh, 1 bóng đỏ, 1 bóng tím và 1 bóng vàng; các quả bóng có kích thước và khối lượng như nhau. Lấy ngẫu nhiên một quả bóng trong hộp.

- a) Nêu các kết quả có thể xảy ra đối với màu của quả bóng được lấy ra.
- b) Viết tập hợp các kết quả có thể xảy ra đối với màu của quả bóng được lấy ra.
- c) Nêu hai điều cần chú ý trong mô hình xác suất của trò chơi trên.

Bài 4:

4.1. Đọc tên các góc đỉnh A có trong hình bên.

4.2. Cho điểm M nằm giữa hai điểm A và B . Biết $AM = 3cm$; $AB = 8cm$. Tính độ dài đoạn thẳng MB .

Bài 5: Tính giá trị $A = \frac{2}{3} + \frac{2}{6} + \frac{2}{12} + \frac{2}{24} + \dots + \frac{2}{768}$.

TRƯỜNG THCS NGỌC THỤY
TỔ TỰ NHIÊN
Đề ôn tập 2

ĐỀ ÔN TẬP CUỐI HỌC KÌ II
MÔN TOÁN 6
Năm học: 2025 – 2026

Bài 1: Thực hiện phép tính

a) $\frac{-1}{6} + \frac{5}{6}$

b) $\frac{8}{13} + \frac{7}{12} - \frac{19}{12} + \frac{5}{13} + \frac{1}{2}$

c) $\frac{-5}{8} \cdot \frac{-12}{29} \cdot \frac{8}{-10}$

d) $\frac{2}{15} : \left(\frac{1}{3} \cdot \frac{4}{5} - \frac{1}{3} \cdot \frac{6}{5} \right)$

Bài 2: Tìm x , biết

a) $x - \frac{2}{3} = \frac{7}{12}$

b) $\frac{1}{3} \cdot x - \frac{1}{2} \cdot x = \frac{3}{4}$

c) $\frac{1}{3} + \frac{2}{3} : x = -7$

d) $8\frac{2}{3} : x - 10 = -8$

Bài 3: Bảng thống kê sau cho biết thể loại sách truyện yêu thích của lớp 6A.

Loại truyện	Số học sinh chọn
Khoa học	6
Phiêu lưu	8
Truyện tranh	16
Cổ tích	14

- a) Thể loại truyện nào được các bạn học sinh yêu thích nhất? Ít nhất?
- b) Lớp 6A có bao nhiêu học sinh?
- c) Tính xác suất thực nghiệm của sự kiện học sinh chọn thể loại truyện phiêu lưu.

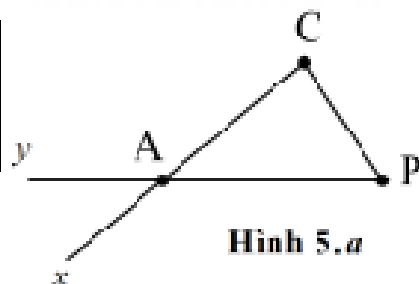
3.2. Tung hai đồng xu cân đối 50 lần ra được kết quả như sau:

Sự kiện	Hai đồng sấp	Một đồng sấp, một đồng ngửa	Hai đồng ngửa
Số lần	22	20	8

Tính xác suất thực nghiệm của sự kiện:

- a) “Hai đồng xu đều mặt sấp”.
- b) “Hai đồng xu đều mặt ngửa”.
- c) “Có một đồng xu sấp, một đồng xu ngửa”.

Bài 4:



Hình 5.a

4.1. Cho hình vẽ sau:



Hãy kẻ tên hai tia đối nhau gốc A , hai tia trùng nhau gốc B .

4.2. Cho đoạn thẳng $AB = 10\text{cm}$. Lấy điểm $C \in AB$ sao cho $AC = 5\text{cm}$.

a) Tính độ dài BC .

b) Điểm C có là trung điểm của đoạn thẳng AB không? Vì sao?

Bài 5: Tìm các số tự nhiên a và b biết rằng $\frac{1}{a} - \frac{1}{b} = \frac{2}{143}$ và $b - a = 2$.

TRƯỜNG THCS NGỌC THỤY
TỔ TỰ NHIÊN
Đề ôn tập 3

ĐỀ ÔN TẬP CUỐI HỌC KÌ II
MÔN TOÁN 6
Năm học: 2025 – 2026

Bài 1: Thực hiện phép tính

a) $\frac{3}{4} - \frac{7}{20}$

b) $\frac{2}{5} + \frac{1}{-2} + \frac{1}{10}$

c) $\frac{-3}{7} - \left(\frac{2}{3} - \frac{3}{7}\right)$

d) $\frac{-3}{7} \cdot \frac{4}{5} + \frac{-3}{7} \cdot \frac{1}{5} + \frac{-5}{14}$

Bài 2: Tìm x , biết

a) $x + \frac{2}{5} = \frac{7}{5}$

b) $\frac{x}{15} = \frac{-6}{5}$

c) $x : \frac{2}{5} = \frac{-4}{5}$

d) $\frac{2}{3} \cdot x + \frac{3}{4} = \frac{14}{9} \cdot \frac{3}{7}$

Bài 3:

3.1. Biểu đồ sau đây biểu diễn số lượng bí ngô thu hoạch được của những người dân trong làng.

Tên	Số lượng bí ngô thu hoạch được
Bác Thu	
Bác Khang	
Bác Ngân	
Bác Thành	

Biết rằng: = 5 quả bí ngô

a) Hỏi ai thu hoạch được nhiều bí ngô nhất, ai thu hoạch được ít bí ngô nhất?

b) Bác Ngân thu hoạch được nhiều hơn bác Thu bao nhiêu quả bí ngô?

3.2. An gieo một xúc xắc 6 mặt 50 lần và ghi lại kết quả như sau:

Mặt	1 chấm	2 chấm	3 chấm	4 chấm	5 chấm	6 chấm
Số lần xuất hiện	7	9	12	8	10	4

Tính xác suất thực nghiệm của sự kiện gieo được mặt 4 chấm.

Bài 4:

4.1. Vẽ hình theo cách diễn đạt sau:

- Vẽ ba điểm A, B, C thẳng hàng sao cho điểm B nằm giữa hai điểm A và C .
- Vẽ điểm D không thuộc đường thẳng AC .
- Vẽ đoạn thẳng BD .
- Kể tên các đoạn thẳng có trong hình vẽ.

4.2. Vẽ đoạn thẳng $MN = 6cm$, điểm I là trung điểm của đoạn thẳng MN . Tính độ dài đoạn thẳng MI .

Bài 5: So sánh $A = \frac{2021}{2022} + \frac{2022}{2023}$ và $B = \frac{2021+2022}{2022+2023}$.

NỘI DUNG ÔN TẬP CUỐI HỌC KỲ II KHỐI 6 MÔN TIN HỌC

Giới hạn: 9,10,11,12,13,14

PHẦN I: TRẮC NGHIỆM

Câu 1: Để căn chỉnh lề, hướng của văn bản trong ô bạn cần sử dụng nhóm lệnh:

- A. Cell size B. Alignment C. Rows & columns D. Merge

Câu 2: Để tạo sơ đồ tư duy em cần phải:

- A. Vẽ chủ đề chính ở bên phải tờ giấy để tiện kết nối chủ đề chính với các chủ đề phụ
 B. Tạo nhánh từ các chủ đề phụ
 C. Thêm từ khóa, tạo các nhánh và chọn màu khác nhau
 D. Xác định chủ đề chính, tạo nhánh, thêm từ khóa và chọn màu khác nhau cho nhánh.

Câu 3: Phát biểu nào không phải là ưu điểm của việc tạo sơ đồ tư duy bằng phần mềm máy tính?

- A. Có thể sắp xếp, bố trí với không gian rộng mở, dễ sửa chữa, thêm bớt nội dung
 B. Có thể chia sẻ được cho nhiều người
 C. Có thể làm ở bất cứ đâu, không cần công cụ hỗ trợ
 D. Có thể kết hợp và chia sẻ để sử dụng cho các phần mềm máy tính khác

Câu 4: Phát biểu nào sau đây là sai?

- A. Bảng giúp trình bày thông tin một cách cô đọng
 B. Bảng giúp tìm kiếm, so sánh và tổng hợp thông tin một cách dễ dàng hơn
 C. Bảng chỉ có thể biểu diễn dữ liệu là những con số
 D. Bảng có thể được dùng để ghi lại dữ liệu của công việc thống kê, điều tra, khảo sát,...

Câu 5: Thao tác nào sau đây không thực hiện được sau khi dùng lệnh File/Print để in văn bản?

- A. Nhập số trang cần in
 B. Chọn khổ giấy in
 C. Thay đổi lề của đoạn văn bản
 D. Chọn máy in để in nếu máy tính được cài đặt nhiều máy in

Câu 6: Phát biểu nào sai về việc tạo sơ đồ tư duy tốt?

- A. Các đường kẻ càng ở gần hình ảnh trung tâm thì càng nên tô màu đậm hơn và kích thước dày hơn
 B. Nên dùng các đường kẻ cong thay vì các đường thẳng
 C. Nên bố trí thông tin đều quanh hình ảnh trung tâm
 D. Không nên sử dụng màu sắc trong sơ đồ tư duy vì màu sắc làm người xem mất tập trung vào vấn đề chính

Câu 7: Để gạch dưới một từ hay cụm từ, sau khi chọn cụm từ đó, ta thực hiện:

- A. Nhấn tổ hợp phím Ctrl+L B. Nhấn tổ hợp phím Ctrl+I
 C. Nhấn tổ hợp phím Ctrl+B D. Nhấn tổ hợp phím Ctrl+U

Câu 8: World Wide Web là gì?

- A. Một trò chơi máy tính.
 B. Một phần mềm máy tính.
 C. Một hệ thống các website trên Internet cho phép người sử dụng xem và chia sẻ thông tin qua các trang web được liên kết với nhau

D. Tên khác của Internet

Câu 9: Phần mềm soạn thảo văn bản không có chức năng nào sau đây?

- A. Nhập văn bản
- B. Sửa đổi, chỉnh sửa văn bản
- C. Lưu trữ và in văn bản
- D. Chỉnh sửa hình ảnh và âm thanh

Câu 10: Cách nhanh nhất để tìm thông tin trên WWW mà không biết địa chỉ là

- A. Hỏi địa chỉ người khác rồi ghi ra giấy, sau đó nhập địa chỉ vào thanh địa chỉ
- B. Nhờ người khác tìm hộ
- C. Di chuyển lần theo đường liên kết của các trang web
- D. Sử dụng máy tìm kiếm để tìm kiếm với từ khóa

Câu 11: Tên nào sau đây là tên của máy tìm kiếm?

- A. Word
- B. Excel
- C. Internet
- D. Google

Câu 12: Nội dung của các ô trong bảng có thể chứa:

- A. Kí tự (chữ, số, kí hiệu,...)
- B. Hình ảnh
- C. Bảng
- D. Cả A, B, C

Câu 13: Để định dạng trang, ta cần thực hiện lệnh:

- A. Nháy chuột vào dải lệnh File → chọn Page Setup...
- B. Nháy chuột vào dải lệnh Page Layout → chọn Setup...
- C. Nháy chuột vào dải lệnh File → chọn Print Setup...
- D. Nháy chuột vào dải lệnh Insert → chọn Page Setup...

Câu 14: Trong khi soạn thảo văn bản, giả sử ta cần tìm kiếm chữ “Hoa hồng” thì ta thực hiện chọn:

- A. Dải Home chọn lệnh Editing/Clear...
- B. Dải Home chọn lệnh Editing/Goto...
- C. Dải Home chọn lệnh Editing/Replace...
- D. Dải Home chọn lệnh Editing/Find...

Câu 15: Các phần văn bản được phân cách nhau bởi dấu ngắt đoạn được gọi là:

- A. Dòng
- B. Trang
- C. Đoạn
- D. Câu

Câu 16: Việc phải làm đầu tiên khi muốn thiết lập định dạng cho một đoạn văn bản là:

- A. Vào thẻ Home, chọn nhóm lệnh Paragraph.
- B. Cần phải chọn toàn bộ đoạn văn bản.
- C. Đưa con trỏ soạn thảo vào vị trí bất kì trong đoạn văn bản.
- D. Nhấn phím Enter.

Câu 17: Em hãy cho biết Internet là gì?

- A. Mạng nội bộ
- B. Mạng liên kết các mạng máy tính trên khắp thế giới.
- C. Mạng xã hội
- D. Zalo

Câu 18: Thư điện tử còn được gọi là gì?

- A. Email
- B. Tin nhắn
- C. Trang web
- D. Máy tìm kiếm

Câu 19: Đơn vị nào dưới đây dùng để đo lường thông tin?

- A. KG
- B. KB
- C. HB
- D. DB

Câu 20: Biểu diễn thông tin trong máy tính bằng:

- A. Chữ;
- B. Ký tự đặc biệt;
- C. Bảng dãy chữ số thập phân 0 và 1;
- D. Bảng hình ảnh

Câu 21: Thao tác nào không phải là thao tác định dạng văn bản?

- A. Thay đổi kiểu chữ thành chữ nghiêng.
- B. Chọn chữ màu xanh.
- C. Căn giữa đoạn văn.
- D. Thêm hình ảnh vào văn bản.

Câu 22: Công cụ nào trong chương trình soạn thảo văn bản Word cho phép tìm nhanh các cụm từ trong văn bản và thay thế cụm từ đó bằng một cụm từ khác?

- A. Lệnh Find trong bảng chọn Edit
- B. Lệnh Find and Replace... trong bảng chọn Edit
- C. Lệnh Replace trong bảng chọn Edit

Câu 7: Nội dung nào sau đây **không** phản ánh đúng đời sống vật chất của người Việt cổ thời Văn Lang – Âu Lạc?

- A. Cư dân chủ yếu ở nhà sàn, dựng bằng tre, nứa, gỗ...
- B. Thức ăn chính là lúa mì, lúa mạch, thịt bò, rượu vang.
- C. Để tóc ngang vai, búi tóc hoặc tết tóc kiểu đuôi sam.
- D. Phương tiện đi lại chủ yếu trên sông là ghe, thuyền.

Câu 8: Những lực lượng xã hội mới xuất hiện ở Việt Nam thời Bắc thuộc là

- A. nông dân công xã, hào trưởng người Việt.
- B. địa chủ người Hán, nông dân lệ thuộc.
- C. hào trưởng người Việt, nô tì và lạc dân.
- D. địa chủ người Hán và nông dân công xã.

Câu 9: Ở Việt Nam, thời Bắc thuộc, thành phần nào trong xã hội sẽ là thủ lĩnh của những cuộc đấu tranh giành độc lập cho người Việt?

- A. Nông dân lệ thuộc.
- B. Địa chủ người Hán.
- C. Hào trưởng người Việt.
- D. Nông dân công xã.

Câu 10: Nội dung nào dưới đây **không** phản ánh đúng chính sách bóc lột về kinh tế của các triều đại phong kiến phương Bắc đối với Việt Nam dưới thời Bắc thuộc?

- A. Áp đặt chính sách tô thuế, lao dịch nặng nề.
- B. Chia ruộng đất của địa chủ cho nông dân nghèo.
- C. Bắt người Việt cống nạp vải vóc, hương liệu, sản vật quý.
- D. Chiếm ruộng đất của nhân dân Âu Lạc để lập thành ấp, trại.

Câu 11: Ở Việt Nam, dưới thời thuộc Hán, chức quan nào đứng đầu bộ máy cai trị cấp quận?

- A. Thái thú.
- B. Thứ sử.
- C. Huyện lệnh.
- D. Tiết độ sứ.

Câu 12: Từ sau khởi nghĩa Hai Bà Trưng (40-43), chính quyền từ cấp huyện trở lên do ai nắm giữ?

- A. Nhà Hán.
- B. Nhà Thương.
- C. Nhà Tần.
- D. Nhà Đường.

Câu 13: Nghề thủ công nào mới xuất hiện ở nước ta trong thời kì Bắc thuộc?

- A. Rèn sắt.
- B. Làm thủy tinh.
- C. Đúc đồng.
- D. Làm gốm.

Câu 14: Mâu thuẫn bao trùm trong xã hội nước ta thời Bắc thuộc là

- A. mâu thuẫn giữa nhân dân ta với chính quyền đô hộ.
- B. mâu thuẫn giữa nhân dân ta với quý tộc người Việt.
- C. mâu thuẫn giữa quý tộc Việt với chính quyền đô hộ.
- D. mâu thuẫn giữa nông dân Việt với chính quyền đô hộ.

Câu 15: Ngành kinh tế chính của nhân dân Việt Nam dưới thời kì Bắc thuộc là

- A. sản xuất muối.
- B. trồng lúa nước.
- C. đúc đồng, rèn sắt.
- D. buôn bán qua đường biển.

Câu 16: Khởi nghĩa Hai Bà Trưng diễn ra vào năm:

- A. Năm 34.
- B. Năm 40.
- C. Năm 42.
- D. Năm 43.

Câu 17: Năm 248, Bà Triệu phát cờ khởi nghĩa ở

- A. Núi Nưa (Triệu Sơn – Thanh Hóa).
- B. Hoan Châu (Nghệ An – Hà Tĩnh).
- C. Hát Môn (Phúc Thọ – Hà Nội).
- D. Đường Lâm (Sơn Tây – Hà Nội).

Câu 18: Đầu năm 544, Lý Bí tự xưng là Lý Nam Đế, lập ra nhà nước Vạn Xuân, đóng đô ở

- A. vùng cửa sông Bạch Đằng.
- B. Phong Châu.

C. Phong Khê.

D. vùng cửa sông Tô Lịch.

Câu 19: Anh hùng dân tộc nào được đề cập đến trong câu đố dân gian sau:

*“Vua nào quét sạch quân Đường,
Nổi danh Bó Cái Đại Dương thừa nào
Tiếc thay mệnh bạc tài cao,
Gianh sơn lại phải rơi vào làm than”*

A. Bà Triệu.

B. Lý Bí.

C. Triệu Quang Phục.

D. Phùng Hưng.

Câu 20: Mục tiêu chung của các cuộc khởi nghĩa do người Việt phát động trong thời kì Bắc thuộc là

A. giành quyền dân sinh.

B. giành chức Tiết độ sứ.

C. giành quyền độc lập, tự chủ.

D. giành quyền độc lập dân tộc.

Câu 21: Tôn giáo nào **không** được các triều đại phong kiến phương Bắc truyền vào nước ta?

A. Phật giáo.

B. Thiên chúa giáo.

C. Nho giáo.

D. Đạo giáo.

Câu 22: Khi du nhập vào Việt Nam, tết Đoan Ngọ (ngày 5/5 âm lịch hằng năm) mang ý nghĩa là

A. tết diệt sâu bọ.

B. tết đoàn viên.

C. tết thiếu nhi.

D. tết báo hiếu.

Câu 23: Nội dung nào dưới đây **không đúng** khi nói về sức sống bền bỉ của văn hóa bản địa Việt Nam dưới thời Bắc thuộc?

A. Tín ngưỡng thờ cúng tổ tiên tiếp tục được duy trì.

B. Phong tục ăn trâu... được truyền từ đời này sang đời khác.

C. Người Việt tiếp thu tiếng Hán để thay thế tiếng mẹ đẻ.

D. Người Việt vẫn hoàn toàn nghe – nói bằng Tiếng Việt.

Câu 24: Dưới thời Bắc thuộc, tư tưởng, tôn giáo nào được tiếp nhận một cách tự nhiên cùng với văn hoá truyền thống của người Việt?

A. Phật giáo và Nho giáo.

B. Phật giáo và Thiên chúa giáo.

C. Nho giáo và Thiên chúa giáo.

D. Đạo giáo và Thiên Chúa giáo.

Câu 25: Trong thời kì Bắc thuộc, người Việt vẫn nghe và nói hoàn toàn bằng

A. tiếng Hán.

B. tiếng Việt.

C. Tiếng Anh.

D. Tiếng Thái.

Câu Phần II. Câu trắc nghiệm đúng/sai:

Câu 1: Đọc đoạn tư liệu sau:

Sử gia Lê Văn Hưu nói: “*Trung Trắc, Trưng Nhị là đàn bà, hô một tiếng mà các quận Cửu Chân, Nhật Nam, Hợp Phố cùng 65 thành ở Lĩnh Ngoại đều hưởng ứng, việc dựng nước xưng vương dễ như trở bàn tay, có thể thấy hình thế đất Việt ta đủ dựng được nghiệp bá vương”.*

(Ngô Sĩ Liên, *Đại Việt sử ký toàn thư, tập 1, NXB Khoa học Xã hội, Hà Nội, 1998, tr. 156, 157*)

a. Trưng Trắc và Trưng Nhị là phụ nữ nhưng đã lãnh đạo nhân dân khởi nghĩa chống lại ách đô hộ.

b. Cuộc khởi nghĩa Hai Bà Trưng đã gặp khó khăn và thất bại ngay từ đầu.

c. Dân tộc Việt có đủ tiềm năng và sức mạnh để xây dựng một quốc gia độc lập, tự chủ.

d. Thắng lợi của cuộc khởi nghĩa Hai Bà Trưng hoàn toàn là do may mắn.

Câu 2: Đọc đoạn tư liệu sau:

“*Sách Nam phương thảo mộc trạng của Kê Hàm (năm 304) chép: Trái cau tươi (tân lang) ăn thì có vị đắng và chát, nhưng chẻ bỏ cái vỏ ra đem nấu chín thì nó như trái táo khô, đem ăn chung với trâu và voi thì thấy trơn ngon, hạ khí, tiêu đờm. Người ở Giao Châu và Quảng Châu cho là quý, khi cưới hỏi thì đem trâu cau ra đãi khách trước nhất. Nếu gặp nhau mà không bày trâu cau ra thì người ta sẽ oán hờn. Phong tục ngày nay cũng còn như thế”.*

(Lê Quý Đôn, *Vân đài loại ngữ, tập III, quyển 9, NXB Văn hoá Thông tin, Hà Nội, 1995, tr. 111*)

- a. Theo đoạn trích, trái cau tươi khi ăn trực tiếp sẽ có vị đắng và chát.
- b. Người dân ở Giao Châu và Quảng Châu thường dùng trâu cau để đãi khách vào lúc kết thúc buổi lễ cưới hỏi.
- c. Trâu cau là phương tiện quan trọng để thể hiện sự hiếu khách và tôn trọng lẫn nhau.
- d. Theo đoạn trích, tục ăn trâu cau chỉ là một sở thích ăn uống, không có lợi ích gì cho sức khỏe.

Phần III. Câu hỏi tự luận:

Câu 1: Tại sao nói tổ chức bộ máy nhà nước Văn Lang còn đơn giản, sơ khai? Sự ra đời của nhà nước này có ý nghĩa như thế nào trong lịch sử Việt Nam?

Câu 2: Trình bày nguyên nhân, kết quả, ý nghĩa cuộc khởi nghĩa Hai Bà Trưng và khởi nghĩa Bà Triệu.

Câu 3: Trình bày những biểu hiện cho thấy người Việt luôn có ý thức gìn giữ nền văn hóa bản địa của mình? Những phong tục nào của người Việt trong thời Bắc thuộc vẫn được duy trì đến ngày nay?

Câu 4: Trình bày những dẫn chứng cho thấy sự tiếp thu có chọn lọc văn hóa Trung Quốc của người Việt dưới thời Bắc thuộc? Kể tên một số lễ, tết mà người Việt Nam tiếp thu từ văn hóa Trung Quốc?

B. PHÂN MÔN ĐỊA LÍ

I. Nội dung ôn tập:

HS ôn tập các kiến thức trọng tâm sau:

Bài 17: Thời tiết và khí hậu. Biến đổi khí hậu.

Bài 19: Thủy quyển. Vòng tuần hoàn lớn của nước.

Bài 20: Sông và hồ. Nước ngầm và băng hà.

Bài 21: Biển và đại dương.

Bài 22: Lớp đất trên trái đất.

Bài 23: Sự sống trên Trái đất.

Bài 24: Rừng nhiệt đới.

Bài 25: Sự phân bố các đới thiên nhiên trên Trái Đất.

II. Một số dạng câu hỏi:

1. Trắc nghiệm:

Phần I. Câu trắc nghiệm nhiều phương án lựa chọn:

Câu 1: Khí hậu là hiện tượng khí tượng

A. xảy ra trong một thời gian ngắn ở một nơi.

B. lặp đi lặp lại tình hình của thời tiết ở nơi đó.

C. xảy ra trong một ngày ở một địa phương.

D. xảy ra khắp mọi nơi và thay đổi theo mùa.

Câu 2: Loại gió nào sau đây thổi thường xuyên trong khu vực đới lạnh?

A. Tây ôn đới. B. Gió mùa. C. Tín phong.

D. Đông cực.

Câu 3: Việt Nam nằm trong đới khí hậu nào trên Trái Đất?

A. Cận nhiệt. B. Nhiệt đới. C. Cận nhiệt đới. D. Hàn đới.

Câu 4: Biểu hiện chủ yếu của biến đổi khí hậu là

A. nhiệt độ Trái Đất tăng.

B. số lượng sinh vật tăng.

C. mực nước ở sông tăng. D. dân số ngày càng tăng.

Câu 5: Nước trên Trái Đất phân bố chủ yếu ở

- A. biển và đại dương. B. các dòng sông lớn.
C. ao, hồ, vũng vịnh. D. băng hà, khí quyển.

Câu 6: Vòng tuần hoàn nhỏ của nước bao gồm những giai đoạn nào sau đây?

- A. Bốc hơi và nước rơi. B. Bốc hơi và dòng chảy.
C. Nước rơi và dòng chảy. D. Thẩm và nước rơi.

Câu 7: Thủy quyển là lớp nước trên Trái Đất không tồn tại ở trạng thái nào sau đây?

- A. Rắn. B. Quánh dẻo. C. Khí. D. Lỏng.

Câu 8: Nguồn nước bị ô nhiễm không bao gồm

- A. nước biển. B. nước sông hồ. C. nước lọc. D. nước ngầm.

Câu 9: Sông nào sau đây có chiều dài lớn nhất thế giới?

- A. Sông I-ê-nit-xây. B. Sông Missisipi. C. Sông Nin. D. Sông A-ma-dôn.

Câu 10: Vùng đất cung cấp nước cho sông được gọi là?

- A. Chi lưu. B. Phụ lưu. C. Sông chính. D. Lưu vực sông.

Câu 11: Các hồ móng ngựa được hình thành do:

- A. Sụt đất. B. Núi lửa. C. Băng hà. D. Khúc uốn của sông.

Câu 12: Băng hà tập trung chủ yếu ở khu vực nào?

- A. Xích đạo và nhiệt đới B. Ôn đới.
C. Vùng cực và trên núi cao. D. Đại dương.

Câu 13: Trên Trái Đất diện tích đại dương chiếm

- A. 1/4. B. 2/3. C. 3/4. D. 4/5.

Câu 14: Trên các biển và đại dương có những loại dòng biển nào sau đây?

- A. Dòng biển nóng và dòng biển lạnh.
B. Dòng biển lạnh và dòng biển nguội.
C. Dòng biển nóng và dòng biển trắng.
D. Dòng biển trắng và dòng biển nguội.

Câu 15: Trên thế giới không có đại dương nào sau đây?

- A. Bắc Băng Dương. B. Thái Bình Dương.
C. Đại Tây Dương. D. Châu Nam Cực.

Câu 16: Nước biển và đại dương có mấy sự vận động?

- A. 2 vận động. B. 3 vận động. C. 4 vận động. D. 5 vận động.

Câu 17: Nguồn gốc sinh ra thành phần hữu cơ cho đất là nhân tố nào sau đây?

- A. Đá mẹ. B. Khí hậu. C. Nước. D. Sinh vật.

Câu 18: Các nhóm đất có sự khác biệt rất lớn về

- A. màu sắc, chất khoáng, độ phì và bề dày.
B. màu sắc, thành phần, độ xốp và bề dày.
C. màu sắc, chất khoáng, độ xốp và bề dày.
D. màu sắc, chất hữu cơ, độ xốp và độ phì.

Câu 19: Loại đất nào sau đây thường được dùng để trồng cây lúa nước?

- A. Đất phù sa. B. Đất feralit. C. Đất đỏ badan. D. Đất đen, xám.

Câu 20: Ở đới nóng có kiểu thảm thực vật chính nào sau đây?

- A. Đài nguyên. B. Xavan. C. Hoang mạc. D. Rừng lá kim.

Câu 21: Các loài động vật như ngựa, khỉ, voi, hươu,.. thường phân bố ở đới khí hậu nào?

A. Đới ôn hòa. B. Đới nóng. C. Đới lạnh. D. 2 cực.

Câu 22: Rừng mưa nhiệt đới phân bố chủ yếu ở nơi có khí hậu

A. nóng, khô, lượng mưa nhỏ.

B. nóng, ẩm, lượng mưa lớn.

C. mưa nhiều, ít nắng, ẩm lớn.

D. ít mưa, khô ráo, nhiều nắng.

Câu 23: Khu vực nào sau đây có rừng nhiệt đới điển hình nhất trên thế giới?

A. Việt Nam.

B. Công-gô.

C. A-ma-dôn.

D. Đông Nga.

Câu 24: Ở đới nào sau đây thiên nhiên thay đổi theo bốn mùa rõ nét nhất?

A. Ôn đới.

B. Hàn đới.

C. Nhiệt đới.

D. Cận nhiệt đới.

Câu 25: Các quốc gia vùng ôn đới thích hợp trồng loại cây gì?

A. Nho, ô liu, lúa mì, khoai tây,...

B. Cây gia vị, cây lúa nước.

C. Hạt điều, cà phê, cao su.

D. Cây ăn quả như bưởi, cam, vải,...

Phần II. Câu trắc nghiệm đúng/sai:

Câu 1: Đọc đoạn tư liệu sau:

Đất pôl-dôn hình thành trong điều kiện ôn đới lạnh, đất thường xuyên thừa ẩm nên xảy ra hiện tượng rửa trôi khoáng chất (nhôm và sắt) từ tầng trên xuống, tích tụ lại như một lớp tro màu trắng. Tên gọi "pôt-dôn" (podzol) có nguồn gốc từ tiếng Nga, có nghĩa là khi cày lên, bên dưới có lớp tro.

(Lịch sử & Địa lí 6, bộ Cánh diều, NXB Đại học Sư Phạm, tr. 178)

a. Đất pôl-dôn là loại đất được hình thành ở những vùng có khí hậu ôn đới lạnh.

b. Tên gọi "pôt-dôn" có nguồn gốc từ tiếng Pháp, có nghĩa là đất màu đỏ.

c. Hiện tượng rửa trôi các khoáng chất là do đất pôl-dôn thường xuyên bị thiếu nước và khô hạn.

d. Một vùng đất có khí hậu nóng và rất ít mưa, chúng ta sẽ khó có thể tìm thấy loại đất pôl-dôn.

Câu 2: Đọc đoạn tư liệu sau:

Nước biển và đại dương luôn chuyển động. Khi nhìn sóng biển, chúng ta đều có cảm giác là sóng chuyển động theo chiều ngang nhưng thực chất sóng biển là sự dao động tại chỗ của nước biển theo chiều thẳng đứng.

a. Sóng biển chuyển động theo chiều thẳng đứng.

b. Sóng biển được hình thành do gió.

c. Gió thổi càng mạnh và thời gian càng nhanh thì sóng biển càng lớn.

d. Một trong những quốc gia có sóng thần nhiều nhất trên thế giới là Nhật Bản. **Phần II. Câu**

trắc tự luận:

Câu 1: Thủy quyển là gì? Trình bày các giai đoạn của vòng tuần hoàn nước?

Câu 2: Em hãy phân biệt ba dạng vận động của nước biển và đại dương? Nêu tác động của sóng biển đối với người dân ven biển?

Câu 3: Rừng nhiệt đới chia làm mấy kiểu chính? Trình bày đặc điểm (khí hậu, cấu trúc rừng, phân bố) của các kiểu rừng nhiệt đới?

Câu 4: Đất là gì? Phân tích các nhân tố hình thành đất?

NỘI DUNG ÔN TẬP CUỐI HỌC KỲ II KHỐI 6 MÔN GIÁO DỤC THỂ CHẤT
Nội dung ôn tập: **Chạy cự ly trung bình**

Mức độ Đ: HS thực hiện đúng đủ lượng vận động

Mức độ CĐ: HS không thực hiện đúng đủ lượng vận động

NỘI DUNG ÔN TẬP CUỐI HỌC KỲ II KHỐI 6 MÔN HOẠT ĐỘNG TRẢI NGHIỆM

I. Nội dung ôn tập:

Học sinh ôn tập những kiến thức Hoạt động trải nghiệm đã học từ tuần 19 đến tuần 30 với nội dung kiến thức sau:

Chủ đề 5: Nét đẹp mùa xuân

Chủ đề 6: Tập làm chủ gia đình

Chủ đề 7: Cuộc sống quanh ta

Chủ đề 8: Con đường tương lai

II. Một số dạng câu hỏi

Câu 1: Hãy kể tên 3 nghề truyền thống ở Việt Nam mà em biết và cho biết các nghề đó gắn liền với địa danh nào?

Câu 2: Theo em, việc nhận biết các dấu hiệu của thiên tai (như sạt lở đất, ngập lụt, bão) có tầm quan trọng như thế nào đối với sự an toàn của bản thân và cộng đồng?

Câu 3: Nếu em phát hiện một người thân hoặc bạn bè có ý định mua hoặc sử dụng các sản phẩm có nguồn gốc từ động vật quý hiếm, em sẽ thực hiện những hành động cụ thể nào để tuyên truyền và vận động họ thay đổi ý định?

Câu 4: Giả sử em có nhiệm vụ quảng bá cho một nghề truyền thống của địa phương mình, em hãy đề xuất ít nhất 2 hành động thiết thực để giúp mọi người biết đến và trân trọng nghề đó hơn.

Gợi ý đáp án

Câu 1. Gợi ý: Các nghề có thể bao gồm dệt lụa, làm gốm, khảm trai, làm trống hoặc làm nón lá gắn với những địa danh như Vạn Phúc, Bát Tràng, Chuôn Ngọ...

Câu 2. Gợi ý: Thiên tai có thể gây thiệt hại lớn về người và tài sản; việc nhận biết sớm giúp chúng ta có kế hoạch ứng phó và tự bảo vệ mình kịp thời...

Câu 3. Gợi ý: Có thể trình bày về nguy cơ tuyệt chủng, vai trò của chúng trong hệ sinh thái và kêu gọi mọi người cùng chung tay bảo vệ môi trường sống

Câu 4. Gợi ý: Các hành động có thể là sáng tác thông điệp quảng bá, vẽ tranh/ảnh về sản phẩm hoặc tham gia các buổi triển lãm, giao lưu để giới thiệu giá trị của nghề truyền thống

NỘI DUNG ÔN TẬP CUỐI HỌC KỲ II KHỐI 6 MÔN NGỮ VĂN

Ôn tập kiến thức đã học từ tuần 19 đến tuần 30 (SGK Ngữ văn 6 - tập 2)

I. Kiến thức trọng tâm:

1. Văn bản:

- Văn bản nghị luận

- Truyện ngắn

* Yêu cầu: nhận diện được những đặc điểm cơ bản của từng thể loại; phân tích được nội dung, ý nghĩa của văn bản; tóm tắt được truyện theo các sự kiện chính, ...

2. Tiếng Việt:

Học sinh ôn lại các kiến thức tiếng Việt đã học: Từ và cấu tạo từ tiếng Việt, cụm từ, từ đa nghĩa, từ đồng âm, một số biện pháp tu từ như: nhân hóa, so sánh, ẩn dụ, hoán dụ, ...

* Yêu cầu:

- Nhận biết được các đơn vị kiến thức tiếng Việt cơ bản.
- Nêu vai trò, tác dụng của các đơn vị kiến thức.
- Vận dụng kiến thức trong thực hành nói và viết

3. Viết: Văn tả cảnh, văn nghị luận

* Yêu cầu:

- Nắm vững cách viết bài văn tả cảnh sinh hoạt và bài văn nghị luận trình bày ý kiến về một hiện tượng đời sống
- Lập dàn ý và viết bài văn hoàn chỉnh.

II. Cấu trúc đề kiểm tra: 80% tự luận; 20% trắc nghiệm (8 câu).

III. Một số bài tập tham khảo

Phần I: Đọc – hiểu và thực hành tiếng Việt

Bài tập 1:

THẾ GIỚI RA SAO NẾU KHÔNG CÓ CÂY XANH?

Trong một năm, một cây ra lá khi trưởng thành sẽ sản sinh ra ngày càng nhiều oxi, đủ cho 10 người thở. Ai cũng biết tầm quan trọng, sự thiết yếu của oxi đối với cuộc sống của con người. Nhưng đó chỉ là yếu tố cần. Yếu tố đủ cho sự sống bao gồm nhiệt độ, khí hậu, không khí trong lành... cũng phụ thuộc lớn vào mật độ cây xanh trên thế giới. Tuy nhiên, rừng của chúng ta đang ngày càng mất đi. Ước tính có khoảng hàng chục triệu hecta rừng biến mất mỗi năm. Nạn phá rừng xảy ra do tình trạng gia tăng dân số và nhu cầu sản xuất nông nghiệp, công nghiệp ngày một nhiều. Con người đã chặt hạ cây cối để lấy chỗ cho sự phát triển mới. (1)

Một trong những vai trò quan trọng nhất của cây xanh là làm mát, điều hoà không khí. Hệ thực vật trên Trái Đất đã khiến cuộc sống của chúng ta dễ chịu hơn, nhất là việc cung cấp bóng râm trong những ngày oi nóng. Có một điều không ai phủ nhận là sự tồn tại của cây xanh ảnh hưởng tới khí hậu Trái Đất. Dù không tạo ra tuyết trong ngày nắng nóng nhưng có cây xanh là có sự khác biệt. Khí hậu Trái Đất đang dần tăng 1 – 1,5°C trong thế kỉ qua, một phần nguyên nhân từ sự sụt giảm diện tích rừng trên toàn cầu. (2)

Mỗi bộ phận của cây xanh, từ rễ đến lá đều có tác động đến khí hậu. Lá cây giúp điều hoà, làm mát không khí qua quá trình thoát hơi nước, giúp tăng độ ẩm trong không khí. Với mắt người, thoát hơi nước ở cây là các quá trình vô hình, nhưng theo điều tra địa chất của Mỹ một cây sồi lớn có khả năng vận chuyển khoảng 40 000 gallon (hơn 151 000 lít) nước vào bầu khí quyển trong vòng một năm. Quá trình này cực kì hữu ích trong việc giảm mưa bão vì nó trả lại độ ẩm cho bầu khí quyển. Nhờ khả năng điều hoà, làm mát không khí mà ở những khu vực có cây xanh thì cư dân giảm thiểu được nhu cầu sử dụng năng lượng. Xung quanh các toà nhà, văn phòng thường trồng cây xanh như một chiến lược tạo bóng mát cho ngày hè cũng như cản gió lạnh vào mùa đông. Cây xanh có tác dụng hấp thụ bớt lượng nhiệt phát sinh từ các hoạt động của đô thị (xe cộ, giao thông, điều hoà nhiệt độ, máy làm mát). Trồng cây xanh được biết đến là giải pháp hữu hiệu để ngăn chặn sự nóng dần lên của Trái Đất. (3)

Cây cối luôn được ví là “lá phổi xanh”. Lá cây giúp che chắn các thành phần bụi bẩn, độc hại có trong không khí. Nếu không có cây xanh che bụi và các chất ô nhiễm, con người sẽ khó thở và mắc nhiều bệnh mãn tính do không khí ô nhiễm gây ra. (4)

Tóm lại, không phải ngẫu nhiên những nơi sạch nhất và đáng sống nhất, trong mắt nhiều người tựa “thiên đường” lại được thiết kế để con người có thể sống hài hoà với màu xanh của cỏ cây.
(5)

(Theo Thu Thủy – songmoi.vn)

Câu 1: Đoạn trích trên thuộc loại văn bản nào?

- A. Văn bản nghị luận
- B. Văn bản thông tin
- C. Truyện ngắn
- D. Truyền thuyết

Câu 2: Cụm từ nào dưới đây **không** phải là cụm danh từ?

- A. Sự tồn tại của cây xanh
- B. Tình trạng gia tăng dân số
- C. Đã chặt hạ cây cối
- D. Các hoạt động của đô thị

Câu 3: Phương thức biểu đạt chính được sử dụng trong văn bản trên là gì?

- A. Tự sự
- B. Nghị luận
- C. Miêu tả
- D. Biểu cảm

Câu 4: Thái độ quan tâm, lo lắng của người viết được thể hiện rõ nhất qua câu nào dưới đây?

- A. Mỗi bộ phận của cây xanh, từ rễ đến lá đều có tác động đến khí hậu.
- B. Có một điều không ai phủ nhận là sự tồn tại của cây xanh ảnh hưởng tới khí hậu Trái Đất.
- C. Lá cây giúp che chắn các thành phần bụi bẩn, độc hại có trong không khí.
- D. Thế giới ra sao nếu không có cây xanh?

Câu 5: Theo tác giả, trồng cây xanh là giải pháp hữu hiệu nhằm mục đích gì?

- A. Giúp cân bằng hệ sinh thái
- B. Cải thiện sức khỏe cho con người
- C. Ngăn chặn sự nóng dần lên của Trái Đất.
- D. Làm sạch không khí

Câu 6: Tầm quan trọng của cây xanh được thể hiện qua câu văn nào dưới đây?

- A. Ước tính có khoảng hàng chục triệu hecta rừng biến mất mỗi năm.
- B. Con người đã chặt hạ cây cối để lấy chỗ cho sự phát triển mới.
- C. Có một điều không ai phủ nhận là sự tồn tại của cây xanh ảnh hưởng tới khí hậu Trái Đất.
- D. Quá trình này cực kì hữu ích trong việc giảm mưa bão vì nó trả lại độ ẩm cho bầu khí quyển.

Câu 7: Qua câu văn: *Cây cối luôn được ví là “lá phổi xanh”*, tác giả muốn khẳng định điều gì?

- A. Cây cối rất quan trọng đối với quá trình hô hấp của con người.
- B. Cây cối có vai trò to lớn, có thể thay cho lá phổi con người.
- C. Cây cối có tác động lớn đến tình hình khí hậu trên Trái Đất.
- D. Cây cối làm cho lá phổi con người xanh và dễ chịu.

Câu 8: Phương án nào sau đây nêu lên vấn đề chính của văn bản?

- A. Cây cối luôn được ví là “lá phổi xanh”.
- B. Mỗi bộ phận của cây xanh đều có tác động đến khí hậu.
- C. Rừng của chúng ta đang ngày càng mất đi.
- D. Con người không thể sống thiếu cây xanh.

Câu 9: Hãy chỉ ra 2 bằng chứng được người viết sử dụng trong đoạn văn (3) của văn bản.

Câu 10: Hãy viết đoạn văn (khoảng 5 – 7 dòng) trình bày các hành động cụ thể mà em có thể làm được để bảo vệ môi trường.

Bài 2:

[...] *Sơn xúng xính rủ chị ra chợ chơi. Nhà Sơn ở quay lưng vào chợ, cạnh một dãy nhà lá của những người nghèo khổ mà Sơn quen biết cả vì họ vẫn vào vay mượn ở nhà Sơn. Sơn biết lũ trẻ con các gia đình ấy chắc bây giờ đang đợi mình ở cuối chợ để đánh khăng, đánh đáo.*

Không phải ngày phiên, nên chợ vắng không. Mấy cái quán chợ vờ lộng gió, rác bắn rải rác lẫn với lá rụng của cây đề. Gió thổi mạnh làm Sơn thấy lạnh và cay mắt. Nhưng chân trời trong hơn mọi hôm, những làng ở xa Sơn thấy rõ như ở gần. Mặt đất rắn lại và nứt nẻ những đường nho nhỏ, kêu vang lên lanh tanh dưới nhịp guốc của hai chị em.

Đến cuối chợ đã thấy lũ trẻ đang quây quần chơi nghịch. Chúng nó thấy chị em Sơn đến đều lộ vẻ vui mừng, nhưng chúng vẫn đứng xa, không dám vờ vập. Chúng như biết cái phận nghèo hèn của chúng vậy, tuy Sơn và chị vẫn thân mật chơi đùa với chúng, chứ không kiêu kỳ và khinh khỉnh như các em họ của Sơn.

Thằng Cúc, con Xuân, con Tý, con Túc sán gần giương đôi mắt ngắm bộ quần áo mới của Sơn. Sơn nhận thấy chúng ăn mặc không khác ngày thường, vẫn những bộ quần áo nâu bạc đã rách vá nhiều chỗ. Nhưng hôm nay, mỗi chúng nó tím lại và qua những chỗ áo rách, da thịt thâm đi. Mỗi cơn gió đến, chúng lại run lên, hàm răng đập vào nhau.

Thằng Xuân đến mó vào chiếc áo của Sơn, nó chưa thấy cái áo như thế bao giờ. Sơn lật vạt áo thâm, chìa áo vệ sinh và áo dạ cho cả bọn xem. Một đứa tặc lưỡi, nói:

- Cái áo này mặc thì nóng lắm. Chắc mua phải đến một đồng bạc chứ không ít, chúng mày nhỉ.

Đứa khác nói:

- Ngày trước thầy tao cũng có một cái áo như thế, về sau bán cho ông lý mất.

Con Túc ngây ngô giương đôi mắt lên hỏi Sơn:

- Cái này cậu mua tận Hà Nội phải không?

Sơn uốn ngược đáp:

- Ở Hà Nội, chứ ở đây làm gì có. Mẹ tôi còn hẹn mua cho tôi một cái áo len nhiều tiền hơn nữa kia.

Chị Lan bồng giơ tay vẫy một con bé, từ nãy vẫn đứng dựa vào cột quán, gọi:

- Sao không lại đây, Hiên? Lại đây chơi với tôi.

Hiên là đứa con gái bên hàng xóm, bạn với Lan và Duyên. Sơn thấy chị gọi nó không lại, bước gần đến trông thấy con bé co ro đứng bên cột quán, chỉ mặc có manh áo rách tả tơi, hở cả lưng và tay. Chị Lan cũng đến hỏi:

- Sao áo của mày rách thế Hiên, áo lành đâu không mặc?

Con bé bịu xịu nói:

- Hết áo rồi, chỉ còn cái này.

- Sao không bảo u may cho?

Sơn bây giờ mới chợt nhớ ra là mẹ cái Hiên rất nghèo, chỉ có nghề đi mò cua bắt ốc thì còn lấy đâu ra tiền mà sắm áo cho con nữa. Sơn thấy động lòng thương, cũng như ban sáng Sơn đã nhớ thương đến em Duyên ngày trước vẫn cùng nói với Hiên đùa nghịch ở vườn nhà. Một ý nghĩ tốt bỗng thoáng qua trong trí, Sơn lại gần chị thì thầm:

- Hay là chúng ta đem cho nó cái áo bông cũ, chị ạ.

- Ủ, phải đấy. Để chị về lấy.

Với lòng ngây thơ của tuổi trẻ, chị Lan hăm hở chạy về nhà lấy áo. Sơn đứng lặng yên đợi, trong lòng tự nhiên thấy ấm áp vui vui [...]

(Trích *Gió lạnh đầu mùa*, Thạch Lam, NXB Văn nghệ TPHCM, 1994)

Lựa chọn đáp án đúng:

Câu 1: Văn bản trên sử dụng những phương thức biểu đạt nào?

- A. Tự sự, biểu cảm, nghị luận
C. Tự sự, miêu tả, biểu cảm
- B. Tự sự, nghị luận, miêu tả
D. Tự sự, thuyết minh, nghị luận

Câu 2: Xác định ngôi kể trong đoạn trích trên

- A. Ngôi thứ nhất số ít
C. Ngôi thứ ba
- B. Ngôi thứ nhất số nhiều
D. Ngôi thứ nhất và ngôi thứ ba

Câu 3: Không gian nghệ thuật được khắc hoạ trong đoạn trích là?

- A. Đình làng
C. Ga tàu
- B. Cánh đồng
D. Chợ

Câu 4: Hình ảnh những đứa trẻ Cúc, Xuân, Tý, Túc, Hiên gợi những thân phận như thế nào trong xã hội lúc bấy giờ?

- A. Những đứa trẻ con nhà nghèo
C. Những đứa trẻ ngoan ngoãn
- B. Những đứa trẻ con nhà khá giả
D. Những đứa trẻ hiếu chuyện

Câu 5: Tại sao khi thấy Lan và Sơn đến, những đứa trẻ ở chợ đều lộ vẻ vui mừng, nhưng chúng vẫn đứng xa, không dám vồ vập?

- A. Vì sợ làm hỏng cái áo mới của Sơn
B. Vì Lan và Sơn không chịu chơi với chúng
C. Vì thân phận nghèo hèn của chúng
D. Vì chúng rét quá nên không chơi cùng Lan và Sơn được

Câu 6: Việc Lan và Sơn sẵn sàng chơi với những đứa trẻ ở chợ thể hiện tính cách gì của 2 nhân vật này?

- A. Hiền lành, tốt bụng
C. Dũng cảm, nghĩa khí
- B. Nhút nhát, yếu đuối
D. Hòa đồng, cởi mở

Câu 7: Nguyên nhân trực tiếp nào dẫn đến quyết định cho Hiên chiếc áo bông cũ của hai chị em Sơn?

- A. Do Hiên chủ động mở lời xin Lan và Sơn chiếc áo để mặc cho ấm.
B. Do mẹ Sơn bảo hai chị em mang chiếc áo bông cũ ra chợ cho Hiên.
C. Do Sơn thấy Hiên co ro, rách rưới và nhớ đến hoàn cảnh tội nghiệp của gia đình Hiên.
D. Do Lan muốn thể hiện sự giàu có của gia đình mình trước mặt lũ trẻ ở chợ.

Câu 8: Chi tiết Sơn cảm nhận "trong lòng tự nhiên thấy ấm áp vui vui" ở cuối đoạn trích thể hiện điều gì?

- A. Cảm giác ấm áp do Sơn đang mặc trên người nhiều lớp áo dày.
B. Niềm vui khi thấy mình giàu có và sang trọng hơn hẳn các bạn.
C. Hạnh phúc khi làm được một việc tốt, biết sẻ chia và yêu thương.
D. Niềm tự hào vì đã giải quyết được một vấn đề khó khăn cho mẹ.

Câu 9: Xác định cụm danh từ trong câu: "*Nhưng chân trời trong hơn mọi hôm, những làng ở xa Sơn thấy rõ như ở gần.*"

Câu 10: Viết đoạn văn khoảng 5-7 dòng rút ra bài học từ văn bản trên.

Bài 3:

QUẢ TRỨNG VÀNG

Hôm nay Tú Minh từ trường về nhà. Lúc sắp vào cổng, cậu nhìn thấy vật gì trắng trắng trong đám lá tre khô. Cậu lại gần thì nhận ra vật trắng trắng đó là quả trứng gà.

- Ô, một quả trứng gà. Cậu thảm kêu lên. Tại sao nó bị rơi vãi ở đây nhỉ?

Tú Minh lượm quá trứng lên ngắm nghía. Chắc chị mái nâu nào đó trở dạ quá nhanh khi qua đây. "Thật may là mình phát hiện ra, nếu không đêm nay nó sẽ vào bụng một con rắn nào đó cũng nên".

Minh mân mê quá trứng và cảm thấy con đỏi cứ rõ dần. Món trứng ốp-lét cũng được lắm. Chỉ cần một chút mỡ, một chút muối tiêu. Hoặc đơn giản hơn là thả búng vào nồi nước sôi và chỉ dầm bảy phút sau là có thể ngồi khoanh chân nhấm nháp vị béo ngậy của trứng luộc. Nhưng Minh chợt nghĩ: "Mình ăn chỉ một miếng là hết, sẽ chẳng còn cơ hội nào cho mình được ngắm quá trứng đẹp đến nhường kia. Chỉ bằng đem đặt vào chiếc hũ sành để xuống cạnh bếp, biết đâu chả khỏi điều kỳ lạ xảy ra".

Minh lấy giấy bọc chặt rồi cẩn thận đặt vào chiếc hũ, không quên chèn trấu chung quanh. Cậu bê chiếc hũ đặt cạnh bếp lò, nơi mỗi tối và mỗi sáng cậu đều giúp mẹ nhóm lửa. Quả trứng trở thành người bạn im lặng của Tú Minh. Sáng nào cậu cũng thì thầm nói một điều ước gì đó. Những điều ước của cậu đều tốt đẹp. Chẳng hạn có sáng cậu ước: "Giá như mày có thể biến thành một quả trứng vàng để tạo đem chia cho các bạn nghèo trong lớp". Điều ước này bám riết theo cậu hơn cả và có lúc nó làm cho cậu chán nản, thất vọng vì biết chắc đó là điều không bao giờ có thật.

Một buổi sáng, giống như mọi hôm. Tú Minh xuống bếp cời lò và ao ước. Chợt cậu nghe thấy tiếng cựa rất nhỏ, rất yếu ớt, như thể tiếng vươn mình của chồi cỏ sau cơn mưa. Thoạt đầu cậu nghĩ đến con chuột gian manh nào đó xơi tái quả trứng, đánh một giấc no nê đang trở mình. Nhưng tiếng cựa chỉ thoáng qua và hoàn toàn khác với tiếng sột soạt của giấy. Cậu hồi hộp mở nắp hũ ra rồi cẩn thận gỡ từng lớp giấy. Quả trứng không hề xây sát trừ một lỗ thủng nhỏ và chính cái lỗ thủng đó khiến tim cậu nhảy lên. Điều kỳ diệu đã xảy ra: quả trứng biến thành chú gà con. Quãng trưa thì chú gà vàng rực đã hiện hình ngay trước mắt cậu, có thể vuốt ve được. Tú Minh cảm động muốn khóc khi chú gà nép mình trong bàn tay che chở của cậu. Ngày ngày cậu kiếm mồi về cho gà và chả mấy chốc nó đã có thể lẻo đẹo theo cậu đi bắt châu chấu.

Qua thu sang đông rồi hết xuân sang hè, chú gà nhép đã lớn vồng lên thành nạng mái nâu óng ả. Vòng cườm ở cổ nó mới sáng làm sao. Hằng ngày nó tha thân kiếm mồi quanh khu vườn và thỉnh thoảng ngơ ngẩn gióng lên những tiếng gọi rất lạ.

Và điều kỳ diệu nữa đã xảy ra: con gà mái của Tú Minh đẻ quả trứng đầu tiên. Tú Minh há hê ngắm nghía và không ngớt nghĩ đến những điều tốt đẹp. Sau khi đẻ nốt quả trứng thứ mười hai, con mái nâu đòi ấp. Tú Minh lót cho nó một chiếc ổ đẹp tuyệt trần, có lưới bảo vệ rất cẩn thận. Từ đây trở đi mọi việc xem ra suôn sẻ hơn. Đến kỳ đến hạn, cả mười hai chú gà con đều sinh nở an toàn. Lần này, Tú Minh chỉ có một việc là dựng cho mẹ con mái nâu một nếp nhà xinh xắn và chắc chắn.

Nhiều lúc đứng xem đàn gà chạy nhảy, Tú Minh lại hơi giật mình nhớ đến đoạn cậu nhìn thấy quả trứng lẫn trong đám tre. Chỉ cần cậu thả vào nồi nước, đun lên là mọi phép lạ chấm dứt luôn. Sẽ chẳng bao giờ cậu có cái cảm giác sượng run người khi nhìn thấy lũ gà, hiện thân của những điều ước. Sẽ chẳng có cả cái kết thúc mà dù cậu cam đoan không hề bịa mảy may, lũ bạn cậu vẫn ngơ ngác nhìn nhau: "Chẳng lẽ thằng Minh đã thành nhà văn". Bởi vì một câu chuyện như thế chỉ có thể được sáng tạo bởi chính cuộc sống.

(Trích "65 truyện ngắn hay dành cho thiếu nhi", Tạ Duy Anh, NXB Kim Đồng, 2022)

Câu 1: Văn bản trên thuộc thể loại nào? Xác định ngôi kể của văn bản?

Câu 2: Câu chuyện diễn ra trong bối cảnh nào?

Câu 3: Nêu tác dụng của biện pháp tu từ so sánh trong câu “*Chợt cậu nghe thấy tiếng cựa rất nhỏ, rất yếu ớt, như thể tiếng vươn mình của chồi cỏ sau cơn mưa.*”

Câu 4: Trong truyện, khi quả trứng nở thành chú gà con, Tú Minh đã “*cảm động muốn khóc khi chú gà nép mình trong bàn tay che chở của cậu*”. Theo em, tại sao Tú Minh lại có cảm xúc mãnh liệt như vậy?

Câu 5: Qua văn bản “Quả trứng vàng” của nhà văn Tạ Duy Anh, em thấy nhân vật Tú Minh là người như thế nào?

Câu 6: Từ nhân vật Tú Minh, em rút ra được những bài học gì cho bản thân? Viết đoạn văn khoảng 5 – 7 dòng.

Phần II: Viết

Đề 1: Viết bài văn tả cảnh sum họp của gia đình em.

Đề 2: Viết bài văn trình bày suy nghĩ của em về hiện tượng học sinh xả rác không đúng nơi quy định.

Đề 3: Viết bài văn trình bày suy nghĩ của em về hiện tượng nghiện mạng xã hội ở học sinh.

NỘI DUNG ÔN TẬP CUỐI HỌC KỲ II KHỐI 6 MÔN GDĐP

I. NỘI DUNG

1. Bài tập trong SGK

2. Lý thuyết

Chủ đề 7: Phong trào “Tương thân tương ái” ở thành phố Hà Nội.

Chủ đề 8: Ô nhiễm môi trường và ảnh hưởng của ô nhiễm môi trường tới đời sống, sức khỏe người dân Hà Nội.

II. MỘT SỐ DẠNG BÀI:

Câu 1. Em hiểu thế nào về câu tục ngữ “Thương người như thể thương thân”? Kể tên một số phong trào “Tương thân tương ái” ở thành phố Hà Nội

Câu 2. Hiện tượng ùn tắc giao thông ảnh hưởng như thế nào đến môi trường không khí của thành phố Hà Nội? Kể tên một số nguồn ô nhiễm không khí ở thành phố Hà Nội mà em biết.

Câu 3. Nếu sống trong khu vực bị ô nhiễm tiếng ồn, em cần làm gì để bảo vệ sức khỏe của bản thân và gia đình? Nêu một số biện pháp làm giảm ô nhiễm tiếng ồn ở trường học của em.

Câu 4. Việc chôn lấp rác thải nguy hại có gây ô nhiễm đất không? Tại sao? Nêu một số biện pháp để bảo vệ môi trường đất.

NỘI DUNG ÔN TẬP CUỐI HỌC KỲ II KHỐI 6 MÔN KHTN

I. NỘI DUNG

1. Bài tập trong SGK (Cả dạng trắc nghiệm và tự luận)

2. Lý thuyết

2.1 Nêu một số đại diện của nấm dựa vào cấu trúc của cơ quan bào tử.

2.2 Phân biệt hai nhóm thực vật có mạch và không có mạch.

2.3 Trình bày vai trò của thực vật trong tự nhiên và đời sống.

2.4 Nêu vai trò của đa dạng sinh học trong tự nhiên và trong đời sống. Nêu các biện pháp bảo vệ đa dạng sinh học.

2.5 Cho ví dụ được cho từng loại lực tiếp xúc và lực không tiếp xúc. Giải thích được loại lực nào xuất hiện trong các hành động thực tiễn

2.6 Nêu được các dạng biến dạng của lò xo.

2.7 Nêu cách nhận biết các dạng ma sát. Giải thích các trường ma sát có ích và có hại trong thực tế

2.8 Lực và biểu diễn lực, tác dụng của lực

2.9 Lực hấp dẫn và trọng lượng

II. MỘT SỐ DẠNG BÀI:

PHẦN I. Trắc nghiệm nhiều phương án lựa chọn.

Câu 1. Bào tử đảm là cơ quan sinh sản của loại nấm nào sau đây?

- A. Nấm hương. B. Nấm bụng dê. C. Nấm mốc. D. Nấm men.

Câu 2. Đặc điểm nào dưới đây chỉ có ở thực vật Hạt kín mà không có ở nhóm thực vật khác?

- A. Sinh sản bằng hạt. B. Có hoa và quả.
C. Thân có mạch dẫn. D. Sống chủ yếu ở cạn.

Câu 3. Đặc điểm nào không được dùng để phân loại các nhóm Thực vật?

- A. Có mạch dẫn hoặc không có mạch dẫn. B. Có rễ hoặc không có rễ.
C. Có hoa hoặc không có hoa. D. Có hạt hoặc không có hạt.

Câu 4. Sinh vật nào dưới đây thuộc nhóm Ruột khoang ?

- A. Ốc sên. B. Cua. C. Tôm. D. Hải quỳ.

Câu 5. Biện pháp nào sau đây không phải là bảo vệ đa dạng sinh học ?

- A. Nghiêm cấm phá rừng để bảo vệ môi trường sống của các loài sinh vật.
B. Cấm săn bắt, buôn bán, sử dụng trái phép các loài động vật hoang dã.
C. Tuyên truyền, giáo dục rộng rãi trong nhân dân để mọi người tham gia bảo vệ rừng.
D. Dừng hết mọi hoạt động khai thác động vật, thực vật của con người.

Câu 6. Một bạn chơi trò nhảy dây. Bạn đó nhảy lên được là do

- A. lực của chân đẩy bạn đó nhảy lên.
B. lực của đất tác dụng lên chân bạn đó.
C. chân bạn đó tiếp xúc với đất.
D. lực của đất tác dụng lên dây.

Câu 7. Một em bé thả một quả bóng cao su xuống sàn nhà. Khi quả bóng chạm sàn nhà thì lực của sàn nhà tác dụng lên quả bóng

- A. chỉ làm cho quả bóng biến đổi chuyển động.
B. chỉ làm cho quả bóng biến dạng.
C. vừa làm cho quả bóng biến dạng, vừa làm cho quả bóng biến đổi chuyển động.
D. không làm quả bóng biến dạng cũng không làm biến đổi chuyển động của quả bóng.

Câu 8. Một vận động viên võ thuật có khối lượng 82 kg. Trọng lượng của người đó là

- A. 8,2 N. B. 82 N. C. 820 N. D. 8200 N

Câu 9. Trên vỏ một hộp sữa có ghi 450 g. Số ghi đó cho biết điều gì?

- A. Khối lượng của hộp sữa. B. Trọng lượng của sữa trong hộp.
C. Trọng lượng của hộp sữa. D. Khối lượng của sữa trong hộp.

Câu 10. Trong hoạt động sau, số hoạt động xuất hiện lực tiếp xúc là

- (1) Học sinh dùng tay uốn cây thước dẻo.
- (2) Thả quyển sách trên không, quyển sách rơi xuống đất.
- (3) Thợ rèn dùng búa đập vào thanh sắt nung.
- (4) Nam châm để gần thanh sắt.
- (5) Máy bay giấy bay lên nhờ gió.

A. 2.

B. 3.

C. 4.

Câu 11. Lực ma sát nghỉ xuất hiện khi

- A. quyển sách để yên trên mặt bàn nằm nghiêng.
- B. ô tô đang chuyển động, đột ngột hãm phanh.
- C. quả bóng bàn đặt trên mặt bàn nhẵn bóng.
- D. xe đạp đang lăn xuống dốc.



Câu 12. Lực tác dụng vào xe ở hình bên có độ lớn là bao nhiêu?

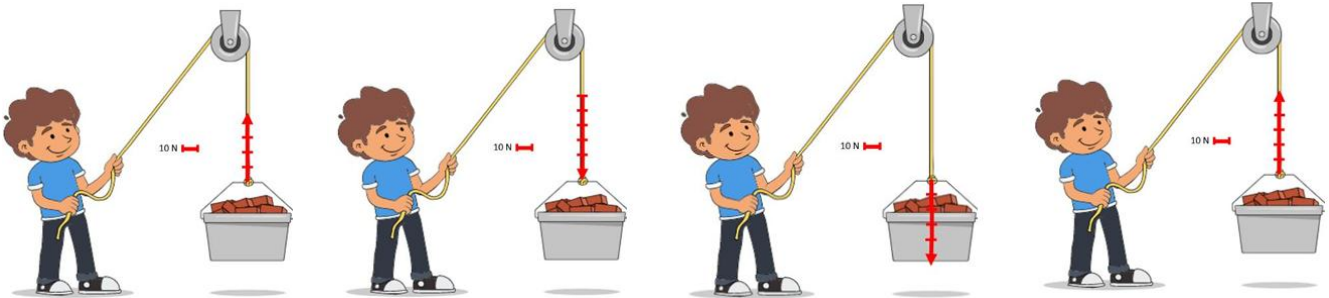
A. 15 N.

B. 25 N.

C. 35 N.

D. 45 N.

Câu 13. Sợi dây kéo chiếc thùng lên với lực có độ lớn 50 N theo phương thẳng đứng, chiều từ dưới lên trên, thì lực kéo của sợi dây sẽ được biểu diễn như thế nào? Biết quy ước rằng mỗi cm độ dài của mũi tên ứng với 10 N.



A.

B.

C.

D.

Câu 14. Treo vật vào đầu một lực kế lò xo. Khi vật nằm cân bằng, chỉ số của lực kế là 2N. Điều này có nghĩa

- A. khối lượng của vật bằng 2g.
- C. khối lượng của vật bằng 1g.

- B. trọng lượng của vật bằng 2 N.
- D. trọng lượng của vật bằng 1 N.

Câu 15. Chọn phát biểu sai.

- A. Trọng lượng của một vật luôn tỉ lệ thuận với khối lượng của nó.
- B. Trọng lượng của vật là lực hút của Trái Đất tác dụng lên vật.
- C. Trọng lượng của vật là độ lớn lực hấp dẫn của Trái Đất tác dụng lên vật.
- D. Trọng lượng của vật không thay đổi khi vật ở Trái Đất hay ở Mặt Trăng.

Câu 16. Lực nào sau đây là lực hấp dẫn của Trái Đất?

- A. Lực làm tàu thủy nổi trên mặt nước.
- B. Lực đẩy cho tài lướt trên mặt nước.
- C. Lực làm cho tàu chìm khi nước tràn vào.
- D. Lực cản trở chuyển động của tàu.

Câu 17. Một người đang đi xe đạp, muốn đi chậm lại, người đó bóp nhẹ phanh. Lực xuất hiện do má phanh ép sát vành xe cản trở chuyển động của bánh xe được gọi là

- A. lực ma sát nghỉ.
- C. lực đàn hồi.
- B. lực không tiếp xúc.
- D. lực ma sát trượt.

Câu 18. Trường hợp nào sau đây, ma sát là có hại?

- A. Đi trên sàn đá hoa mới lau dễ bị ngã.
- B. Xe ô tô bị lầy trong cát.
- C. Bôi nhựa thông vào dây cung ở cần kéo nhị.
- D. Giày đi nhiều, đế bị mòn.

Câu 19. Treo thẳng đứng một lò xo, đầu dưới gắn với một quả cân 100g thì lò xo có độ dài là 11 cm, nếu thay bằng quả cân 200g thì lò xo có độ dài 11,5 cm. Hỏi nếu treo quả cân 500g thì lò xo có độ dài bao nhiêu?

- A. 12 cm.
- B. 12,5 cm.
- C. 13 cm.
- D. 13,5 cm.

Câu 20. Công thức biểu diễn mối liên hệ giữa trọng lượng và khối lượng của vật:

- A. $P = 5.m$
- B. $P = 10.m$
- C. $P = 15.m$
- D. $P = 5,5.m$

Câu 21. Mặt lốp ô tô, xe máy, xe đạp có khía rãnh để

- A. tăng ma sát
- B. giảm ma sát
- C. tăng quán tính
- D. giảm quán tính

Câu 22. Tại sao đi lại trên bờ thì dễ dàng hơn khi đi lại dưới nước?

- A. Vì nước chuyển động còn không khí không chuyển động.
- B. Vì khi xuống nước, chúng ta nặng hơn.
- C. Vì nước có lực cản còn không khí thì không có lực cản.
- D. Vì lực cản của nước lớn hơn lực cản của không khí.

Câu 23. Chọn phát biểu **sai**?

- A. Các chất lỏng khác nhau tác dụng lực cản khác nhau lên cùng một vật.
- B. Lực cản của nước muối lớn hơn lực cản của nước lợc.
- C. Các chất lỏng khác nhau tác dụng lực cản như nhau lên cùng một vật.
- D. Lực cản của nước lớn hơn lực cản của không khí

PHẦN II. Trắc nghiệm Đúng/Sai

Câu 1. Các phát biểu sau là đúng hay sai?


- a) Các vật chuyển động trong nước chịu tác dụng của lực cản.
- b) Độ lớn lực cản của nước càng nhỏ khi diện tích mặt cản càng lớn.
- c) Các vật có hình dạng khác nhau đều chịu lực cản của nước là giống nhau.
- d) Lực cản của nước tác dụng lên tàu thuyền có thể gây tác hại cho nên cần phải làm vỏ tàu, thuyền có hình dạng phù hợp.

Câu 2. Các phát biểu sau là đúng hay sai?

- a) Giày đi nhiều khiến đế bị mòn là ma sát có lợi.
- b) Vận động viên trượt trên nền băng là ma sát trượt.
- c) Lực ma sát là lực xuất hiện trên bề mặt vật gây ra lực.
- d) Xe ô tô đứng yên trong bãi đỗ xe chịu tác dụng của lực cản không khí.

PHẦN III. Trắc nghiệm trả lời ngắn.

Câu 1. Trọng lượng của thùng cà rốt sau đây là bao nhiêu?



Câu 2. Treo một quả cân 100g vào một lực kế thì kim của lực kế chỉ vạch thứ 2. Khi kim của lực kế chỉ vạch thứ 5 thì tổng khối lượng của các quả cân đã treo vào lực kế là bao nhiêu gam?

PHẦN IV. Tự luận.

Câu 1. Biểu diễn các lực sau với tỉ xích 1 cm ứng với 2 N.

- a) Lực F_1 có phương ngang, chiều từ trái sang phải, độ lớn 4 N.
- b) Lực F_2 có phương thẳng đứng, chiều từ trên xuống, độ lớn 2 N.
- c) Lực F_3 có phương thẳng đứng với phương ngang một góc 45° , chiều từ trái sang phải, hướng lên trên, độ lớn 6 N.

Câu 2. Treo quả nặng 500g vào một lò xo. Chiều dài ban đầu của lò xo là 12,5 cm

- a) Tính trọng lượng của quả nặng
- b) Tính độ giãn của lò xo, biết rằng khi treo quả nặng vào thì độ dài của lò xo là 15 cm
- c) Khi treo tất cả 3 quả nặng đều có khối lượng như trên, thì chiều dài của lò xo lúc đó là bao nhiêu?

Câu 3. Nêu các biện pháp bảo vệ đa dạng sinh học.

Câu 4. Hãy giải thích vì sao khi xách một thùng nước thì chỗ lòng bàn tay tiếp xúc với quai thùng bị lõm xuống?

Câu 5. Nêu hai ví dụ về lực hấp dẫn giữa các vật trong đời sống.

Câu 6. Hãy mô tả bằng lời các đặc trưng của lực trong hình sau



ĐỀ CƯƠNG KIỂM TRA CUỐI HỌC KỲ II - KHỐI 6

I. NỘI DUNG ÔN TẬP

1. Nguyên âm, phụ âm: Bảng chữ cái

2. Âm tiết: phụ âm căng là gì, phụ âm cuối kép là gì, vị trí của phụ âm căng khi kết hợp với nguyên âm.

3. Từ vựng liên quan:

- 노래: bài hát, 맥주: bia, 새: con chim, 베개: cái gối, 냄새: mùi, 벌레: con sâu, 비행기: máy bay, 냉장고: tủ lạnh
- 자동차: ô tô, 주차장: bãi đỗ xe, 지하철: tàu điện ngầm, 택시: xe taxi, 기차: tàu hoả, 선풍기: quạt máy, 자판기: máy bán hàng tự động, 세탁기: máy giặt, 코: mũi, 표: vé, 책: sách, 친구: bạn bè, 아침: buổi sáng, 핸드폰: điện thoại di động, 침대: giường, 단추: cúc áo
- 과일: hoa quả, 전화: điện thoại, 쥐: con chuột, 돼지: con lợn, 바위: đá, 바퀴: bánh xe, 영화: bộ phim, 주의: chú ý
- 꿈: giấc mơ, 꼬리: đuôi, 땀: mồ hôi, 쓰레기통: thùng rác, 짜요: mặn, 찜질방: phòng tắm hơi, 쌍둥이: sinh đôi, 오른쪽: bên phải, 빵집: tiệm bánh, 비싸요: đắt tiền, 떡: bánh gạo, 공짜: miễn phí, 뚜껑: cái nắp, 토끼: con thỏ, 어깨: vai, 빵: bánh mì
- 끝: kết thúc, 숲: rừng, 무릎: đầu gối, 꽃: hoa, 부엌: phòng bếp, 밖: bên ngoài, 닭: con gà, 값: giá cả

4. Quy tắc phát âm:

Nói âm, quy tắc phát âm của nguyên âm ‘-ㅣ’

Quy tắc phát âm phụ âm cuối

II. KỸ NĂNG

1. Phát âm và đọc hiểu

- Phát âm được các phụ âm căng, phụ âm cuối kép, số đếm Hán Hàn, các âm tiết ghép
- Đọc và nắm được nghĩa của các từ vựng đã học.

2. Nghe và viết

- Viết các nguyên âm, phụ âm đúng thứ tự các nét.
- Viết đúng vị trí của phụ âm đầu, nguyên âm ngang/đọc.
- Ghép âm đúng thứ tự và vị trí các nét.
- Viết các từ vựng đúng chính tả.

ĐỀ MINH HOẠ CUỐI HỌC KỲ II KHỐI 6

Môn: Tiếng Hàn

I. 듣기 - NGHE

BÀI 1. NGHE VÀ CHỌN ÂM TIẾT ĐÚNG

- | | | | | |
|----|-----|-----|-----|-----|
| 1. | ① 타 | ② 파 | ③ 카 | ④ 차 |
| 2. | ① 쥐 | ② 씌 | ③ 꽤 | ④ 띄 |
| 3. | ① 강 | ② 꽃 | ③ 밭 | ④ 억 |
| 4. | ① 삶 | ② 앓 | ③ 닭 | ④ 읊 |

BÀI 2. NGHE VÀ CHỌN TỪ VỰNG ĐÚNG

- | | | | | |
|-----|-------|-------|-------|-------|
| 5. | ① 공짜 | ② 무릎 | ③ 부엌 | ④ 빵집 |
| 6. | ① 토끼 | ② 짜요 | ③ 어깨 | ④ 공짜 |
| 8. | ① 옆집 | ② 꽃병 | ③ 볶음 | ④ 부엌 |
| 9. | ① 이따가 | ② 오른쪽 | ③ 바빠요 | ④ 가까워 |
| 10. | ① 닭고기 | ② 쌍둥이 | ③ 값어요 | ④ 비싸요 |

BÀI 3. NGHE VÀ CHỌN SỐ NGHE ĐƯỢC

- | | | | | |
|-----|------|------|------|------|
| 11. | ① 2 | ② 4 | ③ 5 | ④ 9 |
| 12. | ① 6 | ② 3 | ③ 10 | ④ 1 |
| 13. | ① 11 | ② 12 | ③ 20 | ④ 17 |
| 14. | ① 21 | ② 38 | ③ 47 | ④ 56 |
| 15. | ① 75 | ② 27 | ③ 69 | ④ 43 |

II. 읽기 - ĐỌC

BÀI 4: CHỌN ĐÁP ÁN ĐÚNG

16. Nguyên âm nào có cách phát âm là /uy/?

- | | | | |
|-----|-----|-----|-----|
| ① ㅡ | ② ㅜ | ③ ㅝ | ④ ㅞ |
|-----|-----|-----|-----|

17. Nguyên âm nào có cách phát âm là /oa/?

- | | | | |
|-----|-----|-----|-----|
| ① ㅝ | ② ㅞ | ③ ㅟ | ④ ㅠ |
|-----|-----|-----|-----|

18. Phụ âm nào có cách phát âm là /t căng /?

- | | | | |
|-----|-----|-----|-----|
| ① ㅌ | ② ㅋ | ③ ㅍ | ④ ㅍ |
|-----|-----|-----|-----|

19. Phụ âm nào có cách phát âm là /p căng /?

- | | | | |
|-----|-----|-----|-----|
| ① ㅂ | ② ㅃ | ③ ㅅ | ④ ㅆ |
|-----|-----|-----|-----|

20. “어깨” có phụ âm căng là:

① ㅋ

② ㄱ

③ ㆁ

④ ㅌ

21. “토끼” có phụ âm bật hơi là:

① ㅌ

② ㄱ

③ ㅍ

④ ㅍ

22. “떡” có phụ âm căng là:

① ㅃ

② ㅆ

③ ㅉ

④ ㅍ

23. “기차” có phụ âm bật hơi là:

① ㅌ

② ㅋ

③ ㅃ

④ ㅌ

BÀI 5: CHỌN TỪ CÓ PHỤ ÂM CUỐI PHÁT ÂM KHÁC VỚI CÁC TỪ CÒN LẠI

24. ① 빵

② 꿈

③ 암

④ 봄

25. ① 물

② 일

③ 숙

④ 열

26. ① 한

② 앞

③ 입

④ 갑

28. ① 것

② 끝

③ 꽃

④ 말

29. ① 닭

② 뚝

③ 울

④ 활

30. ① 읽

② 앉

③ 많

④ 앉

31. ① 앓다

② 꿈다

③ 있다

④ 많다

32. ① 학교

② 밖에

③ 주말

④ 부엌

BÀI 6: CHỌN PHÁT ÂM ĐÚNG CỦA TỪ

33. “의문”

① [의문]

② [이문]

③ [의무]

④ [이무]

34. “의미”

① [의미]

② [이미]

③ [이무]

④ [의민]

35. “앉아서”

① [안자서]

② [앉아서]

③ [안아서]

④ [안자어]

36. “�어요”

① [금어요]

② [구머요]

③ [굴머요]

④ [굴어요]

37. “짹아요”

① [짹바요]

② [짹어요]

③ [짹아요]

④ [짹아요]

38. “싫어요”

① [실허요]

② [시러요]

③ [싫어요]

④ [싱어요]

39. “목요일”

① [모요일]

② [목요일]

③ [모교일]

④ [목요이]

40. “외국인”

① [외욱긴]

② [외구긴]

③ [외구인]

④ [외국인]


BÀI 7: NHÌN TRANH VÀ CHỌN TỪ TƯƠNG ƯNG

41.



- ① 쓰레기통
- ② 쓰레기
- ③ 찜질방
- ④ 비싸요

43.



- ① 굴
- ② 땀
- ③ 닭
- ④ 달

45.



- ① 빛
- ② 달
- ③ 앞
- ④ 숲

42.




- ① 토끼
- ② 빵집
- ③ 어깨
- ④ 꼬리

44.



- ① 빵
- ② 박
- ③ 쪽
- ④ 꿀

46.



- ① 오른쪽
- ② 찜질방
- ③ 쌍둥이
- ④ 쓰레기

47.



- ① 꽃
- ② 값
- ③ 밖
- ④ 끝

48.



- ① 짜요
- ② 뚜껑
- ③ 토끼
- ④ 어깨

III. 쓰기 - VIẾT

BÀI 8: SẮP XẾP PHỤ ÂM/ NGUYÊN ÂM ĐÃ CHO, HÃY VIẾT LẠI TỪ VỰNG

49. Cái nắp (ㄸ, ㅌ, ㅍ, ㅊ, ㅌ, ㅍ): _____
50. Giấc mơ (ㅍ, ㅌ, ㅍ): _____
51. Đầu gối (ㅍ, ㅌ, ㅍ, ㅌ, ㅍ): _____
52. Bánh gạo (ㄸ, ㅊ, ㅍ): _____
53. Bánh mì (ㅍ, ㅊ, ㅌ, ㅍ): _____
54. Mồ hôi (ㄸ, ㅊ, ㅍ): _____
55. Mặn (ㅍ, ㅊ, ㅌ, ㅍ): _____
56. Miễn phí (ㅍ, ㅌ, ㅌ, ㅌ, ㅌ): _____

BÀI 9: ĐIỀN ÂM TIẾT CÒN THIẾU VÀO Ô TRỐNG ĐỂ TẠO THÀNH TỪ VỰNG

57. Bên phải:

오	른	
---	---	--

58. Đuôi:

꼬	
---	--

59. Tiệm bánh

	집
--	---

60. Con thỏ

토	
---	--

61. Đất tiền:

비		요
---	--	---

62. Nhà bếp:

	억
--	---

63. Miễn phí

공	
---	--