


**CHÀO MỪNG CÁC EM
CÙNG ĐẾN VỚI TIẾT HỌC HÔM NAY!**





KHỞI ĐỘNG



Tính nhẩm và đọc nhanh kết quả phép tính sau:

$4 + 5$

$= 9$

$7 + 3$

$= 10$

$5 + 6$

$= 11$

$5 + 5$

$= 10$

$6 + 2$

$= 8$

$6 + 4$

$= 10$





**BÀI 80: PHÉP TRỪ (KHÔNG NHỚ)
TRONG PHẠM VI 1000**




NỘI DUNG BÀI HỌC



1. Thực hiện phép trừ (không nhớ) trong phạm vi 1000


2. Luyện tập

3. Vận dụng



1. Thực hiện phép trừ (không nhớ) trong phạm vi 1000

Hươu cao 587 cm, voi thấp hơn hươu 265 cm. Hỏi voi cao bao nhiêu xăng-ti-mét?



$$587 - 267 = \dots? \dots$$



1. Thực hiện phép trừ (không nhớ) trong phạm vi 1000


Thảo luận cách đặt tính và tính:

$$587 - 265 = \dots? \dots$$



$$\begin{array}{r} 587 \\ - 265 \\ \hline \end{array}$$

Hướng dẫn cách thực hiện



$$\begin{array}{r} 587 \\ - 265 \\ \hline 22 \end{array}$$

$$\begin{array}{r} 587 \\ - 265 \\ \hline 322 \end{array}$$

$$\text{Vậy } 587 - 265 = 322$$

1. Thực hiện phép trừ (không nhớ) trong phạm vi 1000


Các bước thực hiện phép trừ (không nhớ) trong phạm vi 1000

1. Đặt tính

$$\begin{array}{r} 587 \\ - 265 \\ \hline 322 \end{array}$$

2. Thực hiện tính từ phải sang trái

- Trừ đơn vị với đơn vị.
- Trừ chục với chục.
- Trừ trăm với trăm.



LUYỆN TẬP



Bài 1. Tính

$$\begin{array}{r} 742 \\ - 312 \\ \hline \end{array}$$

430

$$\begin{array}{r} 856 \\ - 401 \\ \hline \end{array}$$

455

$$\begin{array}{r} 499 \\ - 258 \\ \hline \end{array}$$

241

$$\begin{array}{r} 364 \\ - 310 \\ \hline \end{array}$$

54



Bài 2: Đặt tính rồi tính

$625 - 110$

$856 - 224$

$743 - 543$

$946 - 932$



$$\begin{array}{r} 625 \\ - 110 \\ \hline 515 \end{array}$$



$$\begin{array}{r} 856 \\ - 224 \\ \hline 641 \end{array}$$



$$\begin{array}{r} 743 \\ - 543 \\ \hline 200 \end{array}$$

$$\begin{array}{r} 946 \\ - 932 \\ \hline 14 \end{array}$$

Bài 3. Tính (theo mẫu)



$$\begin{array}{r} 932 \\ - 32 \\ \hline 900 \end{array}$$

- 2 trừ 2 bằng 0, viết 0
- 3 trừ 3 bằng 0, viết 0
- Hạ 9, viết 9

$$\text{Vậy } 932 - 32 = 900$$



Bài 4. Tính (theo mẫu)

Mẫu:

$$\begin{array}{r} 216 \\ - \quad 6 \\ \hline 210 \end{array}$$

- 6 trừ 6 bằng 0 , viết 0
- Hạ 1, viết 1
- Hạ 2, viết 2

$$\text{Vậy } 216 - 6 = 210$$



Bài 5. Đặt tính rồi tính

$539 - 28$



539

$$\begin{array}{r} 539 \\ - 28 \\ \hline \end{array}$$

511

$387 - 16$



387

$$\begin{array}{r} 387 \\ - 16 \\ \hline \end{array}$$

371

$602 - 2$

$435 - 4$



602


$$\begin{array}{r} 602 \\ - 2 \\ \hline \end{array}$$

600

435

$$\begin{array}{r} 435 \\ - 4 \\ \hline \end{array}$$

431



LUYỆN TẬP

Bài 5. Ở một đài quan sát thiên văn, ngày thứ nhất có 259 học sinh đến tham quan, ngày thứ hai số học sinh tham quan ít hơn ngày thứ nhất 45 học sinh. Hỏi ngày thứ hai có bao nhiêu học sinh đến tham quan?

Bài giải

Ngày thứ hai có số học sinh đến tham quan là:

$$259 - 45 = 214 \text{ (học sinh)}$$

Đáp số: 214 học sinh



Ngộ Không thật
Ngộ Không giả



529 – 7



A. 522

AI RỒI BẠN TA ĐI ĐÁNH TI



B. 535

534

-

11

.....



A. 545

CHỌN ĐÁP ÁN ĐÚNG ĐỂ ĐƯỢC ĐIỂM. AI RỒI BẠN TA ĐI ĐÁNH TI



B. 523



HƯỚNG DẪN VỀ NHÀ

○ Ôn tập bài đã học

○ Làm bài tập trong SBT

○ Chuẩn bị bài mới





**CẢM ƠN CÁC EM ĐÃ LẮNG
NGHE BÀI GIẢNG!**