

Bài 33

LUYỆN TẬP
(Tiết 4)

Ổn định tổ chức:

Chúng mình cùng nhau hát bài “Nắng
sớm” nhé! 



AI NHANH



AI ĐÚNG



Đặt tính rồi tính:

Viết bảng con

$$67 + 2$$

$$95 - 41$$

Lưu ý

- Viết các số cùng hàng thẳng cột.
- Tính từ phải sang trái.
- Viết các chữ số rõ ràng.

spring

Đặt tính rồi tính:

$$67 + 2$$

$$\begin{array}{r} + 67 \\ \quad 2 \\ \hline 69 \end{array}$$


$$95 - 41$$

$$\begin{array}{r} 95 \\ - 41 \\ \hline 54 \end{array}$$

Các em làm rất tốt!



LUYỆN TẬP




Tính: (trang 70)

$$25 + 40$$

$$41 + 8$$

$$99 - 9$$

$$65 - 62$$



Lưu ý

- Không được đặt tính cột dọc.
- Tính nhẩm bằng miệng rồi viết kết quả
- Viết các chữ số rõ ràng.

Spring

LUYỆN TẬP

1

Tính: (trang 70)

$$25 + 40 = 65$$

$$41 + 8 = 49$$

$$99 - 9 = 90$$

$$65 - 62 = 3$$



LUYỆN TẬP

2

SỐ?

$$\begin{array}{r} 18 \\ + \quad ? \quad ? \\ \hline 68 \end{array}$$

$$\begin{array}{r} 40 \\ - \quad ? \quad ? \\ \hline 30 \end{array}$$

$$\begin{array}{r} 35 \\ + \quad ? \quad ? \\ \hline 68 \end{array}$$



Hướng dẫn:

Ví dụ phép tính: $18 + ?? = 88$

- Nhẩm lần lượt từ hàng đơn vị: 8 cộng với số nào để bằng 8 ?

- Tiếp đến nhẩm hàng chục: 1 cộng với số nào để bằng 8 ?



2

SỐ?

TỔ 1

A 2x2 grid of puzzle pieces forming an addition problem. The top-left piece is pink and contains a '+' sign. The top-right piece is yellow and contains the number '8'. The middle-left piece is yellow and contains the number '5'. The middle-right piece is pink and contains the number '0'. A horizontal line is drawn across the middle. The bottom-left piece is pink and contains the number '6'. The bottom-right piece is yellow and contains the number '8'.

$$\begin{array}{r} 18 \\ + 50 \\ \hline 68 \end{array}$$

TỔ 2

A 2x2 grid of puzzle pieces forming a subtraction problem. The top-left piece is pink and contains a '-' sign. The top-right piece is yellow and contains the number '0'. The middle-left piece is yellow and contains the number '4'. The middle-right piece is pink and contains the number '1'. A horizontal line is drawn across the middle. The bottom-left piece is pink and contains the number '3'. The bottom-right piece is yellow and contains the number '0'.

$$\begin{array}{r} 40 \\ - 10 \\ \hline 30 \end{array}$$

TỔ 3

A 2x2 grid of puzzle pieces forming an addition problem. The top-left piece is pink and contains a '+' sign. The top-right piece is yellow and contains the number '5'. The middle-left piece is yellow and contains the number '3'. The middle-right piece is pink and contains the number '3'. A horizontal line is drawn across the middle. The bottom-left piece is pink and contains the number '6'. The bottom-right piece is yellow and contains the number '8'.

$$\begin{array}{r} 35 \\ + 33 \\ \hline 68 \end{array}$$



GIẢI LAO

Chúng mình cùng hát bài hát
“**Con chim non**” nhé!



3

LUYỆN TẬP

Số quả thông ở hai bên bằng nhau. Hỏi trong túi màu đỏ có bao nhiêu quả thông ?



Bài toán cho biết gì?

Bài toán hỏi gì?

Để tìm số quả thông ở túi màu đỏ ta thực hiện phép tính gì?

$$\boxed{45} \quad \boxed{?} \quad \boxed{33} \quad \boxed{=} \quad \boxed{78}$$

LUYỆN TẬP

4

Tính:

$$\text{a) } 20 + 40 + 1$$

$$\text{b) } 15 - 2 - 1$$

$$\text{c) } 40 + 15 + 2$$

Hướng dẫn:

Thực hiện tính nhằm ra vở nháp lần lượt theo thứ tự từ trái sang phải rồi điền kết quả vào vở.



LUYỆN TẬP

4

Tính:

$$\text{a) } 20 + 40 + 1 = 61$$


$$\text{b) } 15 - 2 - 1 = 12$$

$$\text{c) } 40 + 15 + 2 = 57$$

LUYỆN TẬP

5

Trên ga có 3 đoàn tàu.



5

LUYỆN TẬP

a. Đoàn tàu A có 10 toa. Đoàn tàu B có 12 toa.
Hỏi cả hai đoàn tàu có bao nhiêu toa?

- Bài toán cho biết gì?
- Bài toán hỏi gì?
- Muốn biết cả hai toa tàu có bao nhiêu toa ta thực hiện phép tính gì?

$$10 + 12 = 32$$

5

LUYỆN TẬP

b. Đoàn tàu C có 15 toa chở khách và chở hàng. Trong đó có 3 toa chở hàng. Hỏi đoàn tàu C có bao nhiêu toa chở khách?

- Bài toán cho biết gì?
- Bài toán hỏi gì?
- Muốn biết đoàn tàu C có bao nhiêu toa chở khách ta thực hiện phép tính gì?

$$15 - 3 = 12$$



Củng cố - Dặn dò

- Nhận xét tiết học

- Chuẩn bị bài sau: