

TOÁN

LUYỆN TẬP


CHUNG

Trang

53



01



KHỞI ĐỘNG




$$3\ 508 \times 2 = ?$$



A: 7 014

B. 7 015

C. 7 016





$$4812 : 6 = ?$$

A. 802

B. 803

C. 804




$$1\ 042 \times 5 = ?$$

A. 5 209

B. 5 210


C. 5 211



Bye bye!



02



Luyện tập



1 Đặt tính rồi tính

$$9362 : 9$$

$$1214 \times 6$$

$$2790 : 3$$

$$912 \times 7$$

$$\begin{array}{r|l} 9362 & 9 \\ 03 & \hline 36 & 1040 \\ 02 & \\ 2 & \end{array}$$

$$\begin{array}{r} 1214 \\ \times \quad 6 \\ \hline 7284 \end{array}$$

$$\begin{array}{r|l} 2790 & 3 \\ 09 & \\ 00 & \\ 0 & \\ \hline & 930 \end{array}$$

$$\begin{array}{r} 912 \\ \times \quad 7 \\ \hline 6384 \end{array}$$

2 Số ? Ở khu vui chơi, bác Nam muốn gắn các dây đèn dọc theo mỗi cạnh của ngôi nhà dạng khối lập phương, trừ những cạnh sát mặt đất. Mỗi cạnh cần gắn một dây đèn dài 450cm.

a) Bác Nam cần gắn tất cả dây đèn.

b) Tổng độ dài các dây đó là xăng-ti-mét.

- “Ngôi nhà có bao nhiêu cạnh?”
- Có bao nhiêu cạnh sát mặt đất?”
- Còn lại bao nhiêu cạnh được gắn bóng đèn?”



Bài giải:

a) Ngôi nhà có 8 cạnh. Vậy bác Nam cần gắn tất cả 8 dây đèn.

b) Tổng độ dài dây đèn đó là:

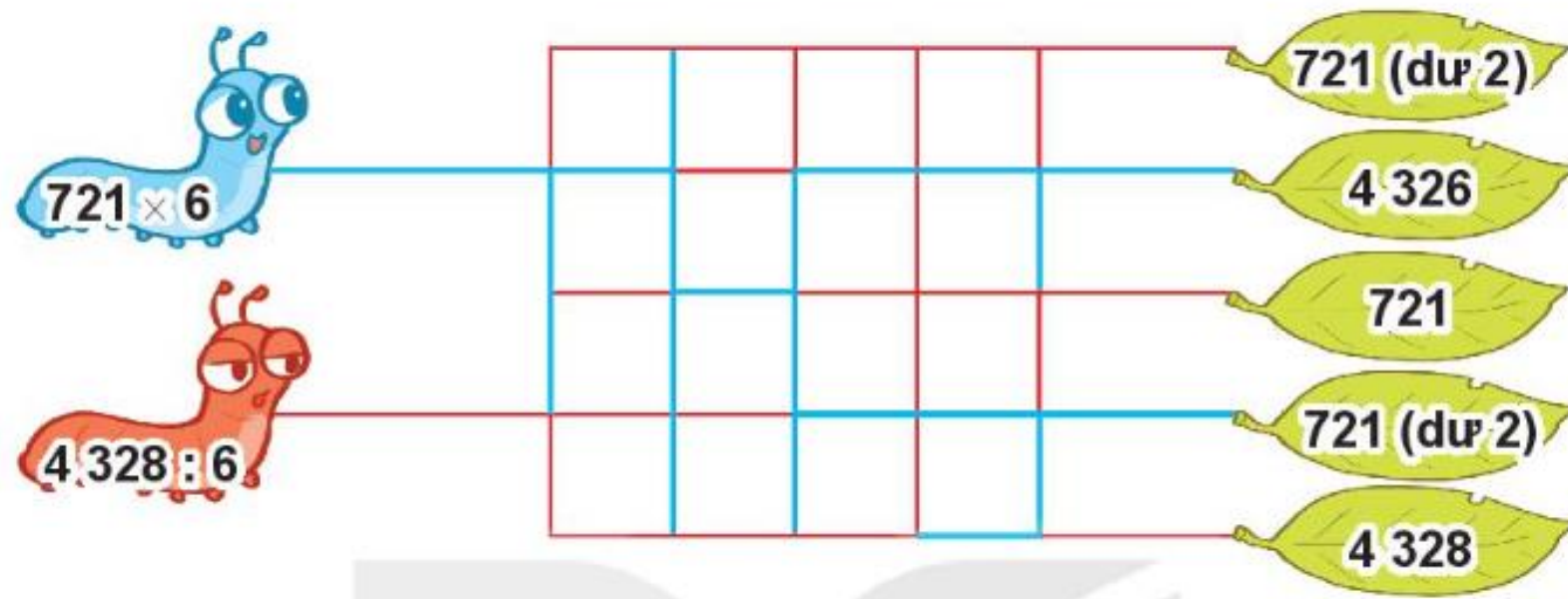
$$450 \times 8 = 3600 \text{ (cm)}$$

Đáp số: a) 8 dây đèn;

b) 3600 cm

Bài 3:

Mỗi chú sâu sẽ đi theo đường nào để đến chiếc lá là ngôi nhà của mình? Biết rằng mỗi chú sâu chỉ bò theo đường có màu trùng với màu của nó và sâu cũng chỉ bò đến chiếc lá ghi kết quả của phép tính trên mình chú sâu đó.



Thực hiện phép tính:

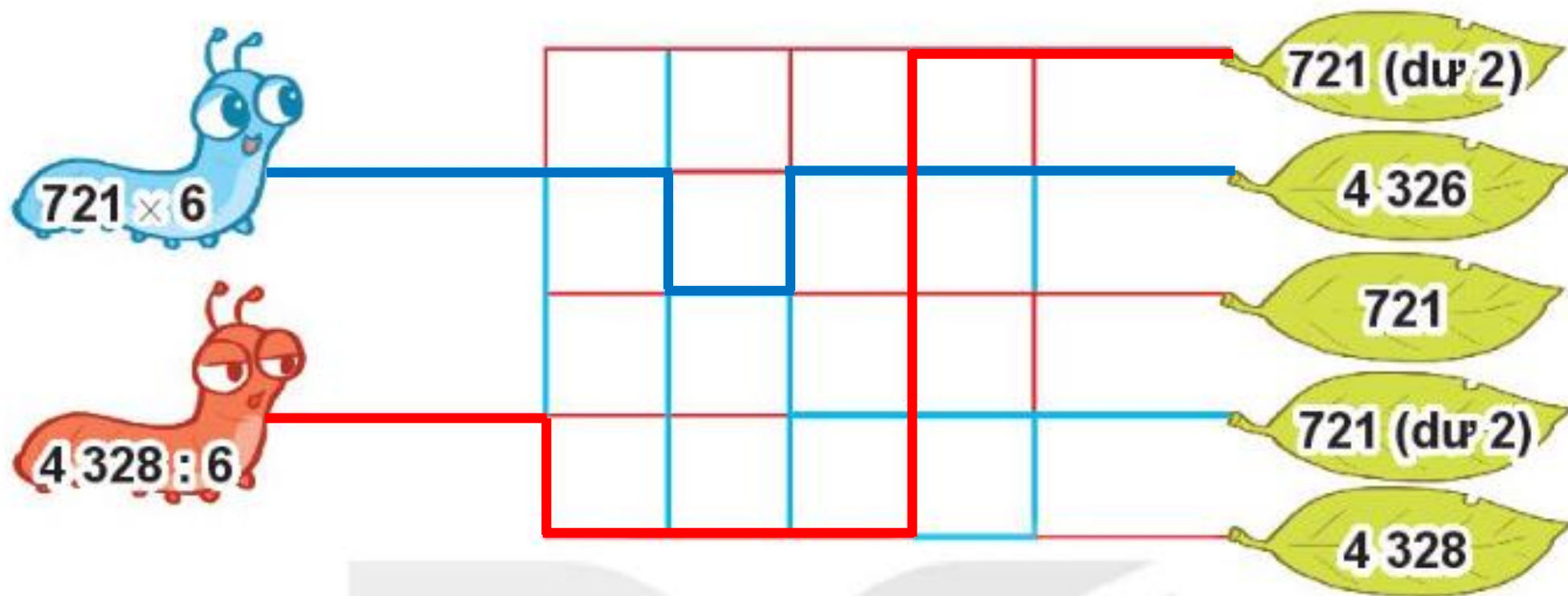
$$\begin{array}{r} \times \quad 721 \\ \quad \quad 6 \\ \hline 4326 \end{array}$$

$$\begin{array}{r|l} 4328 & 6 \\ 12 & \hline 08 & 721 \\ 2 & \end{array}$$

Vậy $721 \times 6 = 4326$

Vậy $4328 : 6 = 721$ (dư 2)

Các chú sâu đi theo đường sau:



Bài 4:

Người khổng lồ nào nâng được nhiều ki-lô-gam nhất?



A

B

C



2 612 kg

25 kg

450 kg

1 245 kg

Bài giải:

Người khổng lồ A nâng 3 con ngựa nặng số ki - lô - gam là:

$$450 \times 3 = 1\,350 \text{ (kg)}$$

Người khổng lồ B nâng con voi và con chó nặng số ki - lô - gam là:

$$25 + 1\,245 = 1\,270 \text{ (kg)}$$

Người khổng lồ C nâng 1 cục đá nặng 2\,612 kg.

Vì $1\,270 < 1\,350 < 2\,612$ nên người khổng lồ C nâng được nhiều ki - lô - gam nhất.

Dẫn đầu:

- Ghi nhớ cách thực hiện được phép nhân và phép chia số có bốn chữ số
- Chuẩn bị bài sau



HẸN GẶP

LẠI NHÉ!

Tiệm Bánh
Donut

