

Toán 4

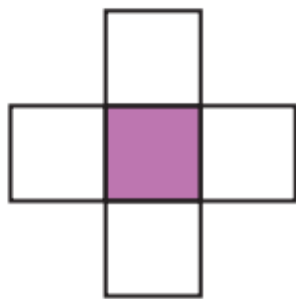
**KHÁI NIỆM**

**PHÂN SỐ**

Tiết 2

# 1. Viết rồi đọc phân số chỉ phần đã tô màu trong mỗi hình sau (theo mẫu).

a)



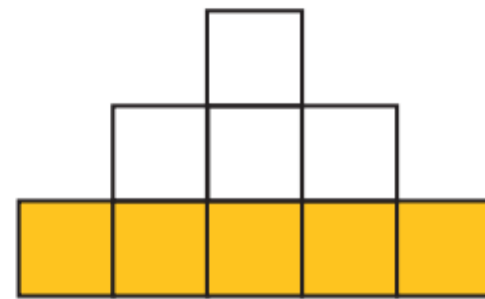
$$\frac{1}{5}$$

Một phần năm.



$$\frac{5}{9}$$

b)



c)



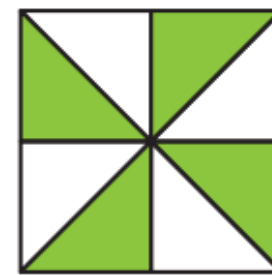
$$\frac{6}{9}$$

d)



$$\frac{4}{7}$$

e)



$$\frac{4}{8}$$

## 2. Viết phân số.

a) Bảy phần mười chín.  $\frac{7}{19}$


b) Chín phần mười.  $\frac{9}{10}$

c) Mười bảy phần hai mươi ba.  $\frac{17}{23}$

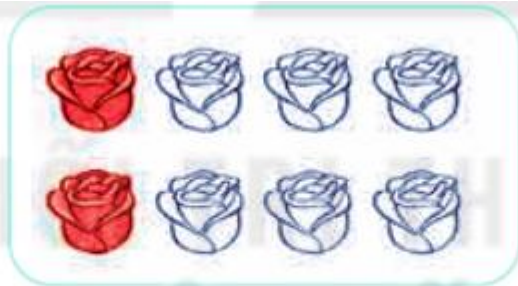
d) Hai mươi lăm phần năm mươi tám.  $\frac{25}{58}$




Đã tô màu  $\frac{3}{4}$  số bông hoa của những hình nào dưới đây?



A



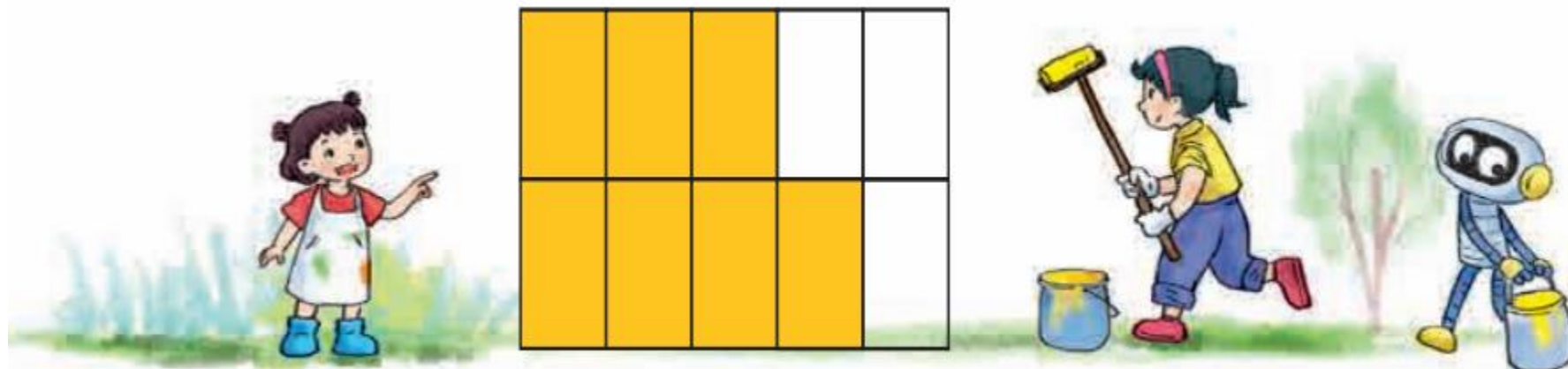
B



C



## Chọn câu trả lời đúng



a) Phân số chỉ phần bức tường Mai chưa sơn màu là:

A.  $\frac{3}{7}$

**B.  $\frac{3}{10}$**

C.  $\frac{7}{3}$

D.  $\frac{10}{3}$

b) Phân số chỉ phần bức tường Mai đã sơn màu là:

A.  $\frac{7}{3}$

B.  $\frac{3}{7}$

**C.  $\frac{7}{10}$**

D.  $\frac{10}{7}$



**Thanks  
Goodbye**