


Toán 4



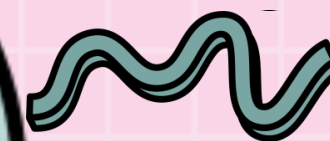

SỐ CÓ SÁU CHỮ SỐ

Số 1 000 000

TRANG 33, 34



KẾT NỐI TRI THỨC
VỚI CUỘC SỐNG





YÊU CẦU CẦN ĐẠT

- Đọc, viết thành thạo các số có sáu chữ số.
- Nhận biết được các số tròn trăm nghìn.
- Nhận biết được cấu tạo thập phân của một số.
- Vận dụng bài học vào thực tiễn giải được các bài tập, bài toán thực tế, số tiền liên quan đến số có 6 chữ số


KHỞI ĐỘNG



GAP TWO


PLAY







Chiếc quạt xòe ra tạo
thành góc ...



Góc tù



Góc nhọn



Góc vuông




Góc bẹt





Hình ảnh compa đang tạo thành góc ...




Góc vuông



Góc nhọn



Góc bẹt



Góc tù





**Hãy tìm xung quanh lớp, những đồ dùng
có chứa góc bẹt**






**Hãy tìm trên bàn học của em những
đồ dùng có chứa góc vuông**





Cảm ơn các bạn!



2

KHÁM
PHÁ





Dân số thành phố Cà Mau năm 2019 là 226 372 người.



(Theo www.camau.gov.vn)



2

KHÁM PHÁ

Số gồm: 2 trăm nghìn, 2 chục nghìn, 6 nghìn, 3 trăm, 7 chục và 2 đơn vị
Viết là: 226 372.

Đọc là: Hai trăm hai mươi sáu nghìn ba trăm bảy mươi hai

Hàng trăm nghìn	Hàng chục nghìn	Hàng nghìn	Hàng trăm	Hàng chục	Hàng đơn vị
				10	
		1 000		10	
		1 000		10	
		1 000		10	
		1 000	100	10	
100 000	10 000	1 000	100	10	1
100 000	10 000	1 000	100	10	1
2	2	6	3	7	2

3

HOẠT ĐỘNG



1

Hoàn thành bảng sau:

Hàng trăm nghìn	Hàng chục nghìn	Hàng nghìn	Hàng trăm	Hàng chục	Hàng đơn vị	Viết số	Đọc số
6	5	0	0	3	2	650 032	sáu trăm năm mươi nghìn không trăm ba mươi hai
3	0	0	4	7	5	300 475	ba trăm nghìn bốn trăm bảy mươi lăm
9	3	8	0	2	1	938 021	chín trăm ba mươi tám nghìn không trăm hai mươi một



Làm việc cá nhân, hoàn thành bảng trên

2

Nêu số tiền ở mỗi hình (theo mẫu)



Có 313 300 đồng.



411 100 đồng



106 100 đồng



3

Đọc đoạn báo cáo dưới đây và trả lời câu hỏi.

“Tê giác là loài động vật trên cạn lớn thứ hai trên Trái Đất. Năm 1900, người ta ước tính có 500 000 con tê giác ngoài tự nhiên. Tuy nhiên, do nạn săn bắn bất hợp pháp mà ngày nay người ta ước tính chỉ còn 27 000 con tê giác.”


(Theo <https://www.worldwildlife.org/species/rhino>)

- Năm 1900, ước tính có bao nhiêu con tê giác sống ngoài tự nhiên?
- Ngày nay, ước tính có bao nhiêu con tê giác sống ngoài tự nhiên?



a) Năm 1900, ước tính có 500 000 con tê giác sống ngoài tự nhiên.

b) Ngày nay, ước tính có 27 000 con tê giác sống ngoài tự nhiên.





CHỌN ĐÁP ÁN ĐÚNG

A

B

C

D

♥ Câu 1

Số gồm 7 trăm nghìn, 8 chục nghìn, 7 trăm, 5 đơn vị ; viết là:

A

700 085

B

780 705

C

780 750

D

708 705



Câu 2

Số 859 072 đọc là:

A

Tám trăm năm mươi
chín nghìn không trăm
bảy mươi hai



B

8 trăm nghìn, 5 chục
nghìn, 9 nghìn, 0 trăm,
7 chục, 2 đơn vị

C

Tám trăm năm mươi
chín nghìn bảy mươi
hai

D

Tám trăm năm mươi
chín nghìn bảy mươi
hai đơn vị

🍌 Câu 3

Mẹ mua trái cây hết 425 000 đồng, hỏi mẹ phải đưa cô bán hàng bao nhiêu tờ tiền 100 000 đồng?

A

2



B

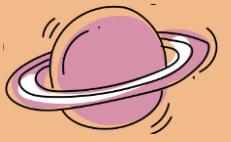
3

C

4

D

5





YÊU CẦU CẦN ĐẠT

- Đọc, viết thành thạo các số có sáu chữ số.
- Nhận biết được các số tròn trăm nghìn.
- Nhận biết được cấu tạo thập phân của một số.
- Vận dụng bài học vào thực tiễn giải được các bài tập, bài toán thực tế, số tiền liên quan đến số có 6 chữ số

ĐỊNH HƯỚNG HỌC TẬP

- Hoàn thành bài tập
- Chuẩn bị bài sau – trang 35



THANK
YOU!

