



Họ và tên: ..... Lớp: 1.....

## TOÁN HỌC

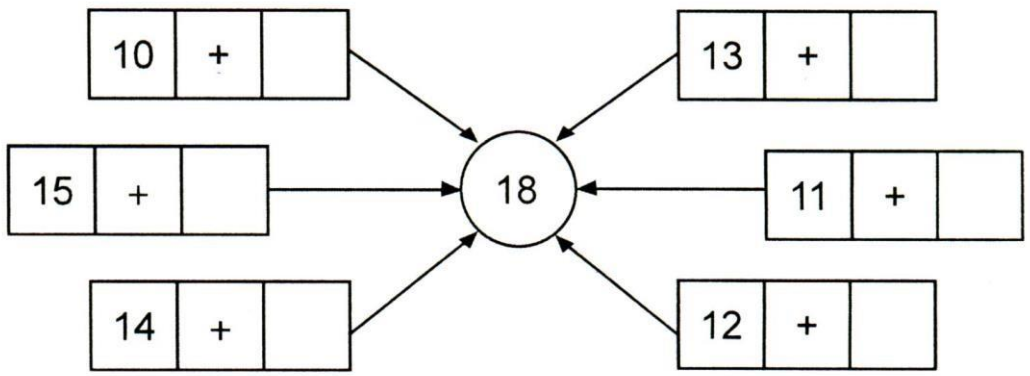
- Đếm, đọc, viết so sánh các số trong phạm vi 100. Nhận biết được chục, đơn vị. So sánh, xếp thứ tự các số trong phạm vi 100 (ở các nhóm không quá 4 số).
- Thực hiện cộng, trừ (không nhớ) trong phạm vi 100.
- Nhận dạng và đếm được số lượng hình vuông, hình tròn, hình tam giác, khối lập phương, khối hộp chữ nhật.
- Nhận biết được đơn vị đo độ dài xăng-ti-mét (cm); đọc và viết được số đo độ dài trong phạm vi 100cm; biết được 1 tuần lễ có 7 ngày. Nhận biết giờ đúng trên đồng hồ, xem lịch.
- Viết được phép tính (cộng, trừ) phù hợp với câu hỏi của bài toán có lời văn và tính được kết quả đúng.

### Chủ đề 1: Số và cấu tạo số

#### Bài 1: Đọc số và viết số

Đọc số	Viết số
11 : mười một	Mười bảy : 17
55 : .....	Hai mươi : .....
68 : .....	Mười chín: .....
72 : .....	Ba mươi lăm:.....
38 : .....	Tám mươi tám : .....
99 : .....	Một trăm:.....

#### Bài 2: Số?



### Bài 3: Số ?

a) Phép cộng các số tròn chục có kết quả bằng 80:


70 + 10

80

a) Phép trừ các số tròn chục có kết quả bằng 20:

30 - 10

20



**Bài 4:** Viết tiếp vào chỗ chấm cho thích hợp.

a. Từ hai chữ số 3 và 6, lập được các số có hai chữ số là:

.....


b. Từ các chữ số 2, 5, và 8 lập được các số có hai chữ số khác nhau là:

.....

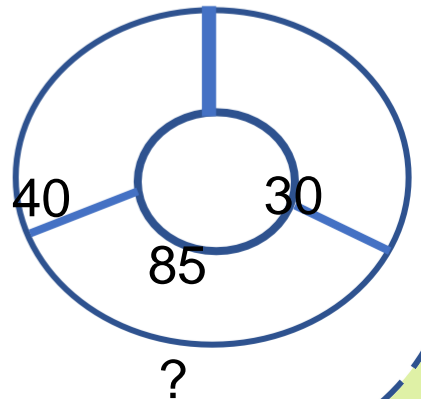
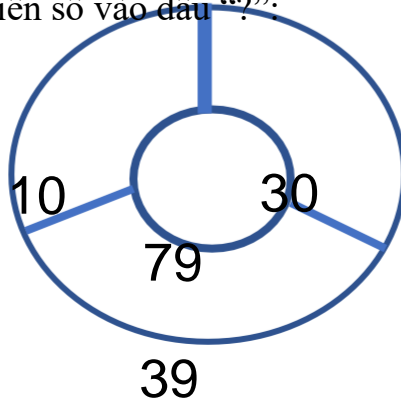
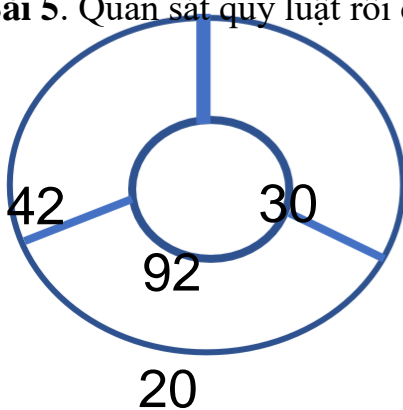
c. Trong các số vừa lập được ở câu b:

- Số lớn nhất là: .....

- Số bé nhất là: .....



**Bài 5.** Quan sát quy luật rồi điền số vào dấu “?”:



## Chủ đề 2: so sánh số

**Bài 1.** >, <, =?

$41 + 15 \dots\dots\dots 4$

$43 + 31 \dots\dots\dots 65 - 5$

$27 - 7 \dots\dots\dots 20$

$75 - 25 \dots\dots\dots 75 - 24$

$77 - 7 \dots\dots 42 + 7$

$89\text{cm} - 9\text{cm} \dots\dots 8\text{cm} + 2\text{cm} + 70\text{cm}$

$90 - 30 \dots\dots 67 - 5$

$24 - 12 \dots\dots 7 + 20 - 15$

**Bài 2.** Sắp xếp các số: **27, 48, 84, 7**

a. Theo thứ tự từ bé đến lớn: ..... ; ..... ; ..... ; .....

b. Theo thứ tự từ lớn đến bé: ..... ; ..... ; ..... ; ..... 3

**Bài 3:** Cho các số: **98; 89; 90, 86**

a) Viết các số theo thứ tự từ bé đến lớn:.....

b) Số lớn nhất là ..... và số nhỏ nhất là .....

**Bài 4:** Viết tiếp vào chỗ chấm cho thích hợp.

Cho các số dưới đây:



**86**

**30**

**56**

*Từ các số trên và các dấu +, -, = em có thể lập được các phép tính đúng là:*

.....

.....

.....

.....

**Bài 5:**

a. Khoanh tròn vào số lớn nhất : 10 ; 72 ; 82 ; 89 ; 15

b. Khoanh tròn vào số bé nhất : 13 ; 85 ; 14 ; 69 ; 70



**Bài 2:** Đúng ghi Đ, sai ghi S:

$14 + 13 = 17$

$12 + 52 + 3 = 67$

$14 + 1 + 2 = 16$

$18 - 7 = 12$

$15 + 4 = 45$

$30 + 4 + 4 = 38$

**Bài 3:** Nói

$55 - 2$

53

$10 + 20 + 30$

94

$98 - 4$

65

$47 + 20 - 2$

60

**Bài 4:** Khoanh vào đáp án đúng



15

16

$11 + 5 = \underline{\quad}$

17

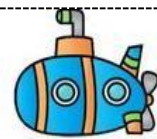


17

18

$5 + 13 = \underline{\quad}$

19



7

8

$4 + 4 = \underline{\quad}$

9



13

14

$12 + 2 = \underline{\quad}$

15



18

19

$18 + 1 = \underline{\quad}$

20



18

19

$5 + 14 = \underline{\quad}$

20

**Bài 5:** Điền dấu +, - thích hợp vào ô trống

a)  $30 \square 40 = 70$

c)  $77 \square 5 = 72$



b)  $83 \square 3 = 80$

d)  $41 \square 30 = 71$



### Bài 6: Tính

a.  $30 + 20 - 40 = \dots$

b.  $12\text{cm} + 35\text{cm} - 10\text{cm} = \dots\dots\dots$

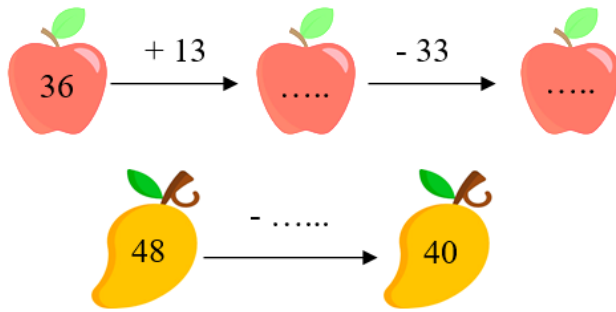
a)  $78 + 21 - 16 = \dots\dots\dots$

$75\text{ cm} - 10\text{ cm} + 14\text{ cm} = \dots\dots\dots$

$88 - 18 + 10 = \dots\dots\dots$

$70\text{cm} - 40\text{ cm} + 6\text{ cm} = \dots\dots\dots$

### Bài 7: Số



### Bài 8: Số

a.

$$\begin{array}{r} 1 \square \\ + \square 4 \\ \hline 78 \end{array}$$

$$\begin{array}{r} \square 8 \\ - 2 \square \\ \hline 53 \end{array}$$

$$\begin{array}{r} \square \square \\ + 54 \\ \hline 84 \end{array}$$

$$\begin{array}{r} 96 \\ - \square \square \\ \hline 23 \end{array}$$

$$\begin{array}{r} \square \square \\ - 34 \\ \hline 44 \end{array}$$

b.

$$38 - \square = 14$$

$$12 + 23 + 34 = \square$$

$$\square - 13 = 22$$

$$89 - 30 - 29 = \square$$

c.

$$40 + \square < 47$$

$$59 - \square < 2$$

c)

$$55 + \square < 57$$

$$68 - \square < 2$$



## Chủ đề 5: bài toán có lời văn

**Bài 1:** Trong vườn nhà bác Lan có 34 cây cam và cây bưởi, trong đó có 20 cây cam. Hỏi trong vườn nhà bác Lan có bao nhiêu cây bưởi?

- a. Viết phép tính thích hợp.  
b. Viết số thích hợp vào chỗ chấm.

***Trong vườn nhà bác Lan có .....cây bưởi.***

**Bài 2.** Mẹ có 47 quả cam, mẹ cho Nam 12 quả cam. Hỏi mẹ còn lại bao nhiêu quả cam?

- a. Viết phép tính thích hợp.  
b. Viết số thích hợp vào chỗ chấm.

***Mẹ còn lại ..... quả cam***

**Bài 3:** Lớp 1A có 23 bạn nữ và 14 bạn nam. Hỏi lớp 1A có tất cả bao nhiêu bạn?

- a. Viết phép tính thích hợp.  
b. Viết số thích hợp vào chỗ chấm.

***Lớp 1A có tất cả ..... bạn.***

**Bài 4:** Mai và Lan cùng trồng cây trong vườn. Cả hai trồng được tất cả 27 cây, trong đó Mai trồng được 12 cây. Hỏi Lan trồng được bao nhiêu cây?

- a. Viết phép tính thích hợp.  
b. Viết số thích hợp vào chỗ chấm

***Lan trồng được..... cây.***

**Bài 5:** Tổ Một có 12 bạn. Tổ Hai có 10 bạn. Hỏi cả hai tổ có bao nhiêu bạn??

- a. Viết phép tính thích hợp.  
b. Viết số thích hợp vào chỗ chấm:

***Hai tổ có tất cả ..... bạn***

**Bài 6:** Mẹ đi chợ mua 3 chục bát to và 15 cái bát nhỏ. Hỏi mẹ mua tất cả bao nhiêu cái bát?

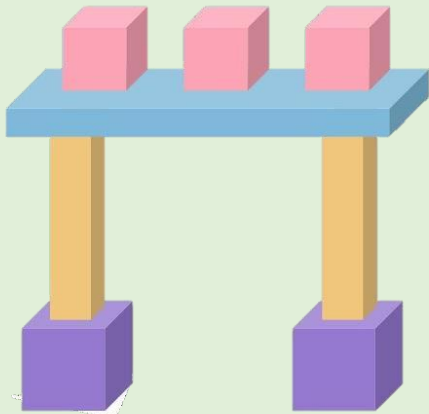
***Đổi.....***

- a. Viết phép tính thích hợp.  
b. Viết số thích hợp vào chỗ chấm.

***Mẹ mua tất cả.....cái bát.***

## Chủ đề 6: hình học

### 1. Quan sát hình vẽ và thực hiện yêu cầu bài tập?

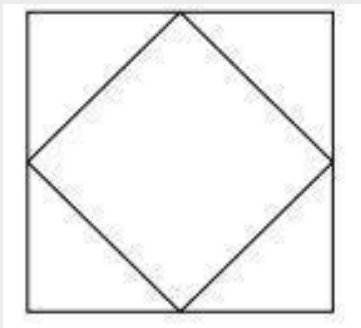
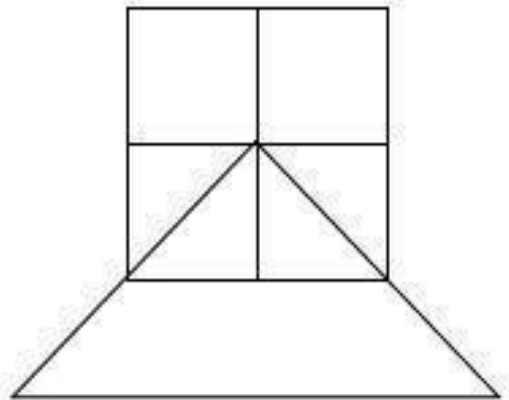


Có ..... khối hộp chữ nhật

Có ..... khối lập phương

Có..... hình tam giác

Có ..... hình vuông



Có..... hình tam giác

..... hình vuông

*Quan sát thật kỹ hình vẽ bạn nhé!*

## Chủ đề 7: THỜI GIAN

**Bài 1:** Đồng hồ nào chỉ 6 giờ?



1



2



3

A. Đồng hồ số 1    B. Đồng hồ số 2    C. Đồng hồ số 3

**Bài 2:**



là A. Thứ bảy    B. Thứ sáu    C. Chủ nhật



là A. Thứ tư    B. Thứ năm    C. Thứ sáu

**Bài 3:** Hãy điền vào chỗ chấm cho thích hợp :

*Nếu hôm nay là thứ bảy ngày 10 tháng 5 thì :*

a. Ngày mai là ..... ngày .....tháng .....

b. Hôm qua là thứ .....ngày.....tháng .....

Ngày 17 tháng 5 là thứ .....

**Bài 4:** Nam về quê từ lúc 8 giờ , sau 2 giờ Nam về đến quê .  
Hãy vẽ kim dài, kim ngắn thể hiện trên đồng hồ



Bắt đầu về



Về đến quê





## ĐỀ SỐ 3

**Đọc thành tiếng:**


### Hoa xoan

Ngoài cửa sổ lớp em  
Có chùm xoan bé nhỏ  
Tỏa hương thơm ngào ngạt  
Làm ngây ngất lòng người.

Hoa xoan ngoài cửa sổ  
Muốn học bài cùng em  
Muốn được nghe cô giảng  
Muốn được là trò ngoan.

(Nguyễn Phương Trinh)

Bông hoa xoan nhỏ nhỏ  
Nhụy hoa màu tím tím  
Cánh hoa xoan trắng hồng  
Xen giữa chùm lá xanh.



**Em hãy khoanh vào chữ cái trước ý trả lời đúng hoặc làm theo yêu cầu:**

**Câu 1. Bạn nhỏ nhìn thấy chùm hoa xoan ở đâu?**

- A. trước cửa nhà
- B. ngoài cửa sổ lớp học
- C. bên hè phố

**Câu 2. Hình dáng bông hoa xoan thế nào?**

- A. chúm chím
- B. ngào ngạt
- C. nhỏ nhỏ

**Câu 3. Theo bạn nhỏ, hoa xoan muốn gì?**

- A. bay theo gió
- B. học bài cùng bạn nhỏ
- C. nở thật to



**Câu 4. Trong các loài hoa, em thích hoa nào nhất? Vì sao?**

-----

-----



## ĐỀ SỐ 4

### Tiếng chim buổi sớm



Buổi sớm mùa hè ở quê tôi thật là trong trẻo. Phút ban mai bắt đầu bằng tiếng hót lạnh lót, ríu ran của bầy chim. Con chim cu gáy có giọng hót trầm ấm, ngân dài.

Chú chích chòe dậy sớm nhất thì liền thoáng học bài, lúc thì vươn cổ đồng dục hót với điệu bộ nghiêm trang. Máy chú chim chìa vôi ríu rít rủ nhau sà xuống sân nhặt thóc. Còn máy chú chim sâu thì lách rích thật vui.

#### Trả lời câu hỏi:

**Bài 1. a.** Tìm trong bài tiếng có chứa vần **ong**:



b. Tìm 2 tiếng ngoài bài có chứa vần **ong**:

**Bài 2.** Khoanh tròn vào chữ cái trước đáp án đúng:

**Câu 1:** Buổi sớm mùa hè quê tôi như thế nào?

A. Trong trẻo    B. Lạnh lót    C. Ríu ran

**Câu 2:** Con chim cu gáy có giọng hót như thế nào?

A. Trầm ấm, ngân dài    B. Trầm ấm, lạnh lót    C. Lạnh lót

**Câu 3:** Ai dậy sớm nhất?

A. Chim Chìa vôi    B. Chim Cu gáy    C. Chim chích chòe

**Bài 3.** Viết tiếp thành câu:

Chú chích chòe .....

Máy chú chìa vôi .....

**Bài 4.** Em thích con vật nào? Vì sao ?

.....  
.....



## Bài 1. Điền vào chỗ chấm

a. *anh hay ach*

- Nhà s..... thì mát, bát s ..... ngon cơm.

- Trong đầm gì đẹp bằng sen,  
Lá x....., bông trắng, lại chen nhị vàng.

- S..... vở là bạn của học sinh.



b. *ay hay oay*

thợ m.....

vòng x.....

đu qu.....

hí h.....

## Bài 2: Sắp xếp các từ ngữ dưới đây thành câu rồi viết lại câu

a. trở thành, bác sĩ, khi lớn lên, thích, Nam

-----

b. trận mưa rào/ mọi vật/ sau/ sáng và tươi/ đều/.

-----

c. ở, cây cao, trên, nhà chào mào.

-----

d. dụi, em, tay, không, lên mắt.

-----

## 3. Chọn từ ngữ thích hợp trong ngoặc để điền vào chỗ trống:

a. Nghỉ hè, bố mẹ dẫn em đi ..... (tắm.biển/ trượt tuyết)

b. Chú ..... gáy ò ó o đánh thức mọi người. ( gà trống/chó con)

c. Chị gái em... ..... rất ngon. (tươi cây, nấu cơm)






**Luyện viết:**  
*Em hãy viết 2 – 3 câu nói về loài hoa em yêu thích*

.....

.....

.....

© Copyright 2015, www.science.com.vn



**Luyện viết:**  
*Em hãy viết 2 – 3 câu nói về con vật mà em yêu thích.*


.....

.....

.....

.....

© Copyright 2015, www.science.com.vn



**LUYỆN viết:**

*Em hãy viết 2 – 3 câu nói về trường của em*

.....

.....

.....

© Copyright 2015, www.science.com.vn

**Luyện viết:**

*Em hãy viết 2 – 3 câu nói về lớp học của em.*

.....  
.....  
.....



**Luyện viết:**

*Em hãy viết 2 – 3 câu nói về tình cảm của em với gia đình mình.*



.....  
.....  
.....  
.....



**Luyện viết:**

*Em hãy viết 2 – 3 câu nói về người bạn thân của em.*

.....  
.....  
.....





### Nhà bạn ở đâu?

Sau cơn mưa, sên thấy dế mèn và giun đi dạo. Sên giới thiệu với dế mèn nhà nó ở ngay trên bẹ lá. Dế mèn kể nhà dế ở gần nhà giun, phía sau bãi cỏ non. Ba bạn hẹn nhau sẽ đến chơi nhà nhau.

*Nhà dế mèn và nhà giun ở đâu?*

### Nặn tò he

Bố Tân có nghề nặn đồ chơi tò he. Đôi bàn tay khéo léo của bố nặn ra rắn, gà, cá,.... Tân và bạn bè nhờ bố dạy nặn vài thứ đồ chơi. Khi ra về, mỗi bạn đều có đồ chơi tò he.

*Bố Tân làm nghề gì?*

### Đi trại hè

Hà và Thư đi trại hè ở Sa Pa. Ở đó có núi cao, suối sâu, đào, lựu đều trĩu quả. Mùa hè ở Sa Pa thú vị quá!



*Hà và Thư đi trại hè ở đâu?*

### Sở thú

Thứ bảy, bố mẹ đưa Hiếu đi sở thú. Ở đó có hổ, báo, hươu, nai, voi, khỉ, gà lôi... Hổ, báo thì đi đi lại lại. Khỉ thì leo trèo. Buổi chiều, Hiếu chơi đu quay rồi cả nhà ra về.

*Ở sở thú có gì?*

