

# Toán

## **Bài 19: HÌNH TAM GIÁC, HÌNH TỨ GIÁC, HÌNH UÔNG, HÌNH CHỮ NHẬT (T3)**



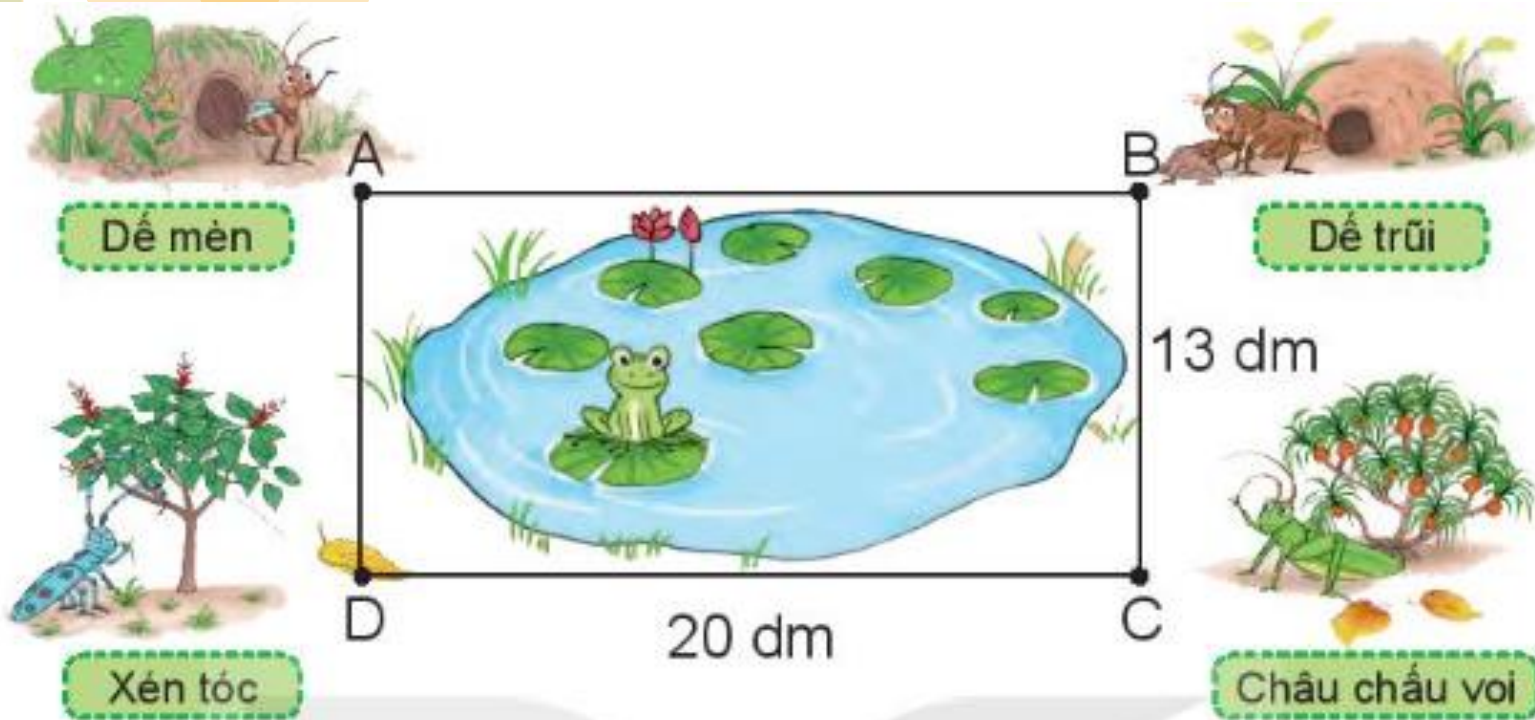


# Khởi động



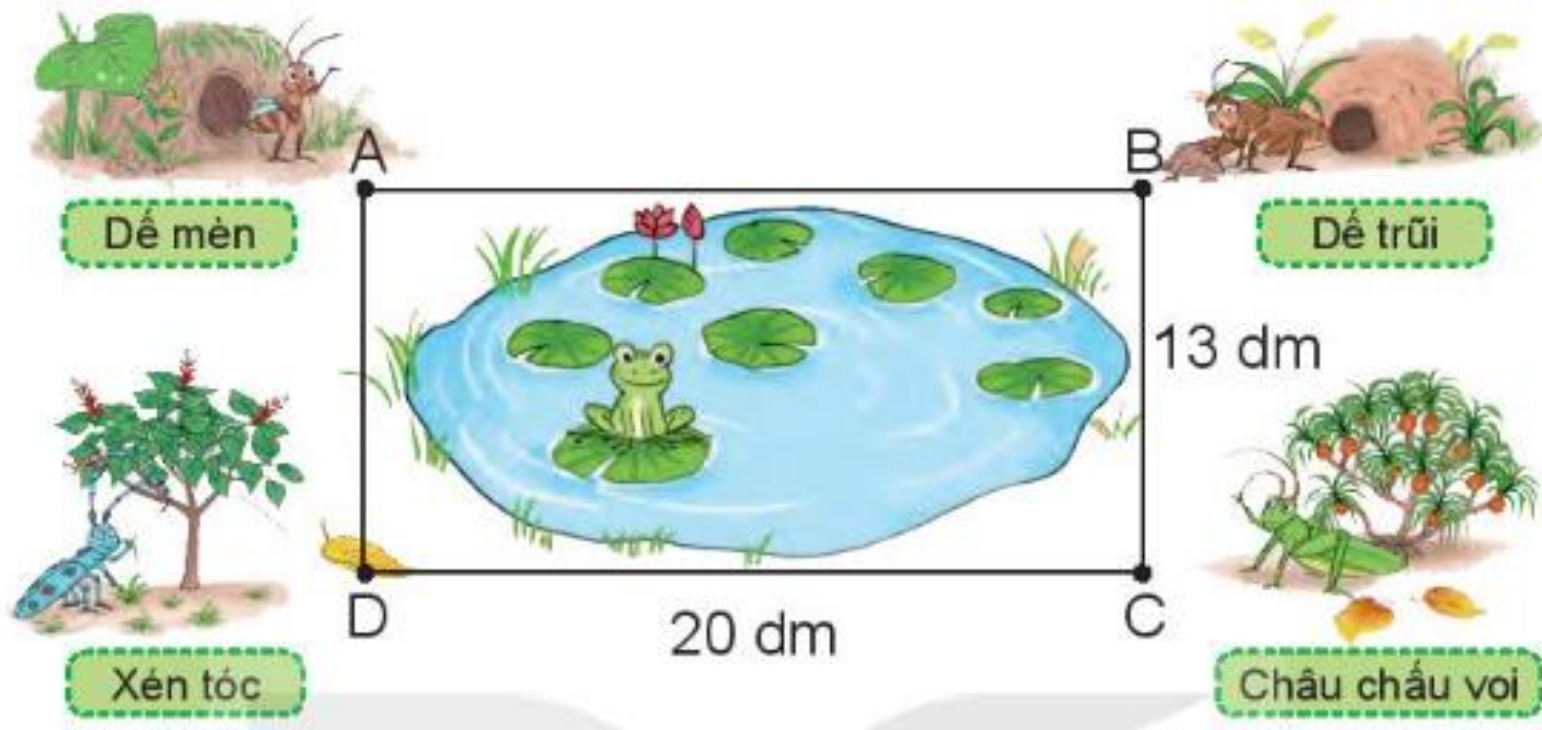
**Luyện tập**

1. Nhà các bạn dế mèn, dế trũi, châu chấu voi và xén tóc ở bốn đỉnh của hình chữ nhật ABCD (như hình vẽ). Biết rằng  $BC = 13 \text{ dm}$ ,  $CD = 20 \text{ dm}$



a) Nhà dế mèn cách nhà xén tóc bao nhiêu đề-xi-mét?

b) Nhà dế mèn cách nhà dế trũi bao nhiêu đề-xi-mét?

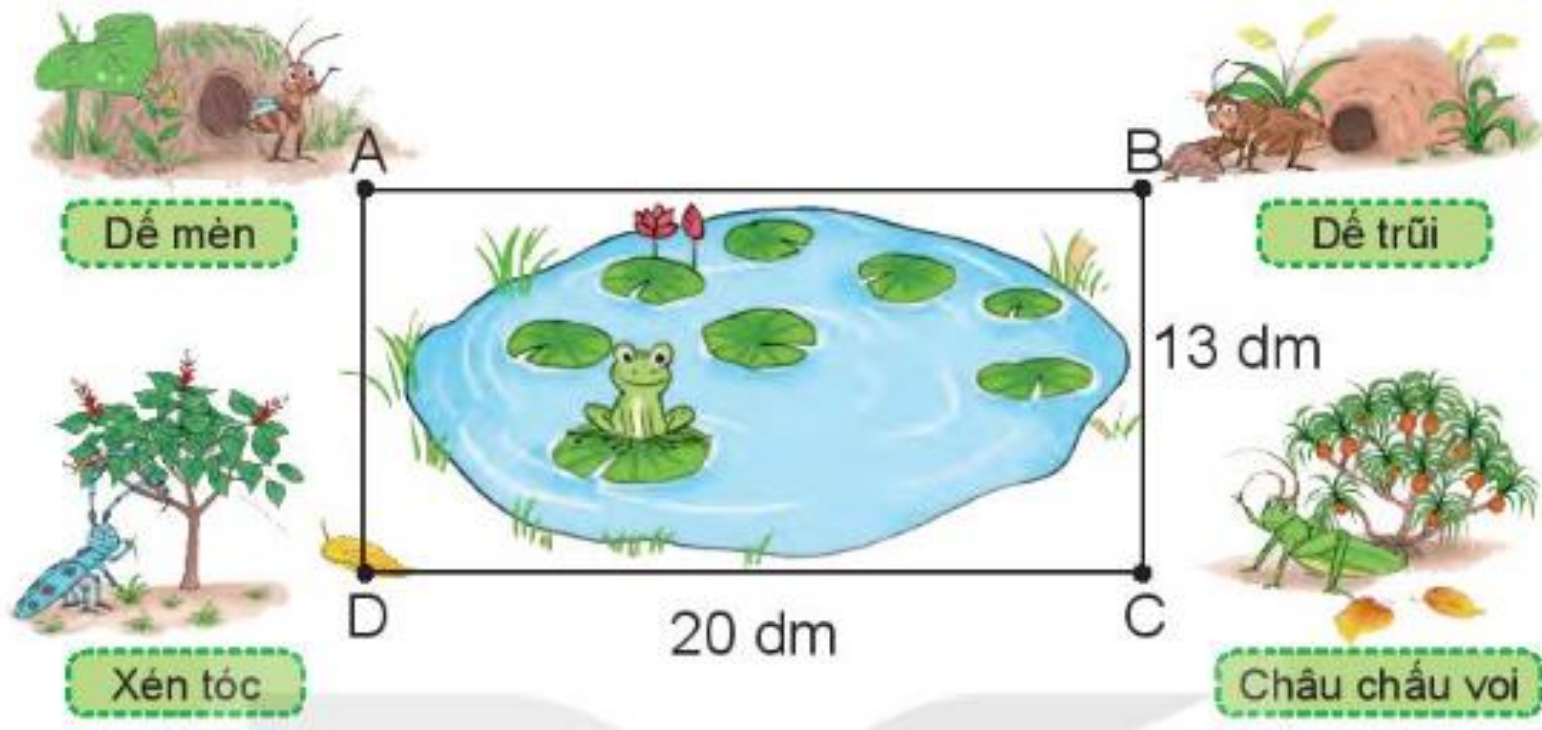


**Nhà đẻ mèn cách nhà xén tóc tương ứng đoạn thẳng AD**

**Vì ABCD là hình chữ nhật nên  $AD = BC = 13 \text{ dm}$**

**Vậy nhà đẻ mèn cách nhà xén tóc 13 dm**





**Nhà đế mèn cách nhà đế trũi tương ứng đoạn thẳng AB**

**Vì ABCD là hình chữ nhật nên  $AB = DC = 20 \text{ dm}$**

**Vậy nhà đế mèn cách nhà đế trũi 20 dm**

2

Một con đường thẳng nối từ địa điểm A đến địa điểm B. Do đoạn đường CD bị hỏng nên người ta phải làm một đường tránh CMND có kích thước như hình vẽ. Biết CDNM là hình chữ nhật.



a. Vì CDNM là hình chữ nhật nên  $CD = BC = 2 \text{ km}$

b. Đi từ địa điểm A đến địa điểm B theo đường tránh chính là đi theo đường gấp khúc CMND.

Độ dài đường gấp khúc CMND là:  $1 + 2 + 1 = 4 \text{ km}$

a) Số?

Độ dài đoạn đường CD là ? km

b) Chọn câu trả lời đúng

Đi từ địa điểm A đến địa điểm B theo đường tránh dài hơn đi theo đường thẳng bao nhiêu ki-lô-mét?

A. 1 km


B. 3 km

C. 2 km

3

Với 6 que tính, Rô-bốt xếp được một hình chữ nhật như hình bên. Sử dụng 10 que tính, em hãy xếp một hình chữ nhật. Em tìm được mấy cách xếp?

Ta có các cách xếp như sau:





Củng cố





# THỢ SĂN HẠT DẸ







Hình vuông có mấy góc?



**Đáp án: 4 góc**







Hình chữ nhật có mấy cạnh?



**Đáp án: 4 cạnh**







Các cạnh của hình vuông  
có bằng nhau không?



**Đáp án: Bằng nhau**







**Tạm biệt  
và hẹn gặp lại!**

Design by: Hương Thảo: [Tranthao121004@gmail.com](mailto:Tranthao121004@gmail.com)