

KHÔI ĐÔNG



TOÁN



Ôn tập các số đến 1 000

Tiết 2



YÊU CẦU CẦN ĐẠT

1


- Ôn tập các số trong phạm vi 1000.

2

- Vận dụng tìm giải các bài tập, bài toán thực tế có liên quan.


3

- Rèn luyện năng lực lập luận và phát triển tư duy toán học.



Các bạn hãy hoàn thành bài tập sau để nhận nguyên liệu và dụng cụ làm bánh nhé!





? a. $505 < 550$
 $399 < 401$
 $100 < 90 + 9$
 99

b. $400 + 70 + 5 = 475$
 $738 > 700 + 30 + 7$ 737
 $50 + 1 > 50 - 1$
 51 49




Vậy là chúng ta đã có
nguyên liệu và dụng cụ
làm bánh rồi. Bây giờ,
chúng mình sẽ cùng
nhau làm bánh nhé!





Đầu tiên, chúng ta sẽ tạo hỗn hợp nhân bánh. Các bạn hãy hoàn thành bài tập sau để chúng mình tạo hỗn hợp nhân bánh nhé!





Số?
a?



Chúng mình cùng
xem đáp án nhé!

310

311

312

313

314

315

316

317

318

319






Woahhh... Chúng ta đã có được hỗn hợp nhân bánh thật tuyệt. Tiếp theo, chúng ta sẽ trộn đều hỗn hợp này nhé!





**Các bạn hãy hoàn thành
câu b của bài tập sau để
chúng mình có thể trộn
đều hỗn hợp nhân bánh
này nhé!**





Số?

b?

1

1 000

999

998

997

996

995

994

993

992

991



**Sau khi trộn đều nhân bánh
tuyệt vời này. Các bạn hãy cùng
mình đổ chúng vào khuôn để
nướng bánh và trang trí cho
bánh kem thật đẹp nhé!**

**Các bạn hãy hoàn thành
bài tập 3 để chúng mình
nướng bánh và trang trí
cho bánh kem nhé!**





Sắp xếp các số 531, 513, 315, 351 theo thứ tự:



a. Từ bé đến lớn

315, 351, 513, 531

b. Từ lớn đến bé

531, 513, 351, 315





**Vậy là chúng mình đã
hoàn thành những
chiếc bánh thật là
ngon**

**Giờ các bạn hãy hoàn
thành bài tập 4 để giao
bánh đến bữa tiệc sinh
nhật nhé!**



4. Số?

Ba con lợn có cân nặng lần lượt là 99 kg, 110 kg, 101 kg.
Biết lợn trắng nặng nhất và lợn đen nhẹ hơn lợn khoang.

- Con lợn trắng cân nặng **101** kg **=> Lợn đen nhẹ nhất**
- Con lợn đen cân nặng **99** kg
- Con lợn khoang cân nặng **100** kg



HAPPY BIRTHDAY





**Cảm ơn các bạn
rất nhiều !**

TAM BIỆT VÀ
HEN GẶP LẠI

